

Bem vindo!


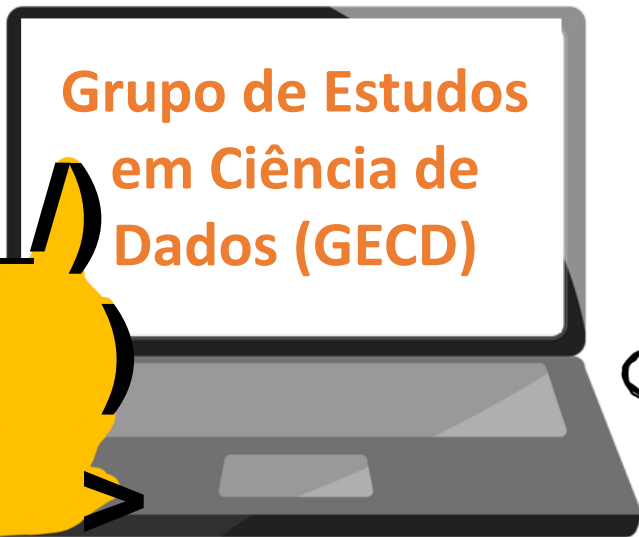
歡迎您！

¡Bienvenido!

Welcome!

Grupo de Estudos  
em Ciência de  
Dados (GECD)

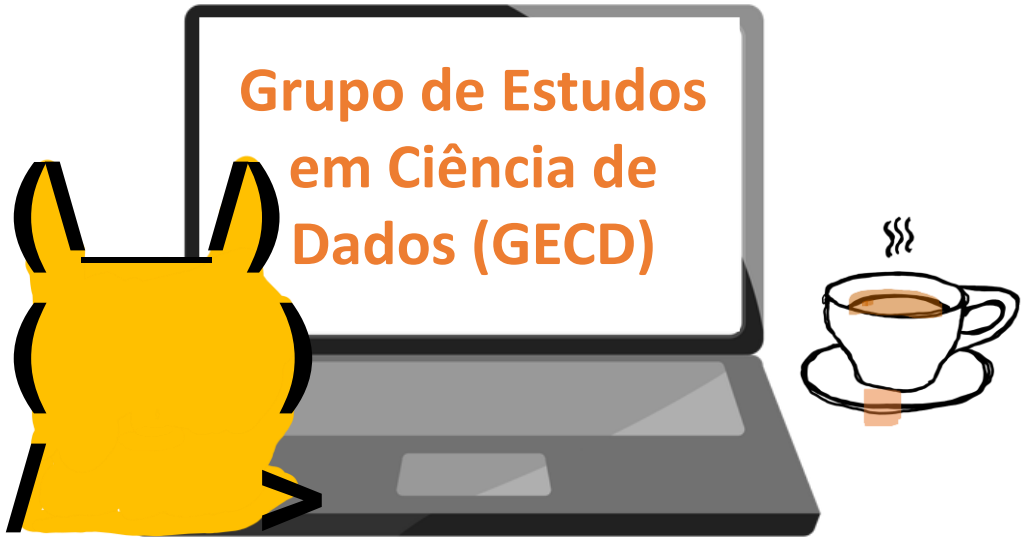
Começaremos em breve



# Estatística Descritiva

Prof. Marília Favalesso

E-mail: [mariliabioufpr@gmail.com](mailto:mariliabioufpr@gmail.com)



Grupo de Estudos  
em Ciência de  
Dados (GECD)

# ESTATÍSTICA, a base da ciência de dados

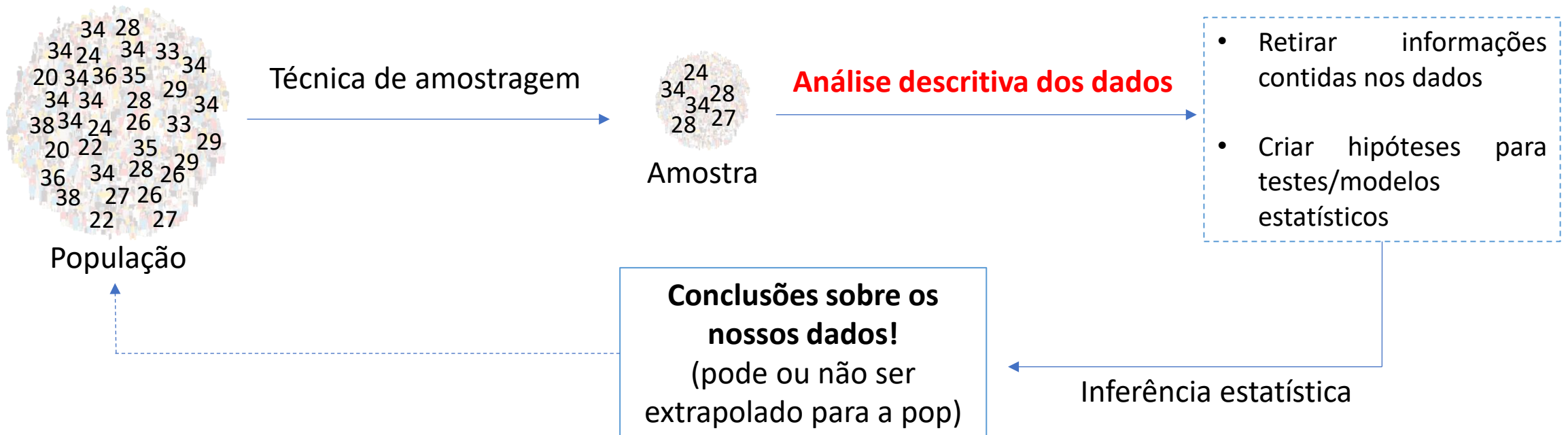
Oferece ferramentas para:

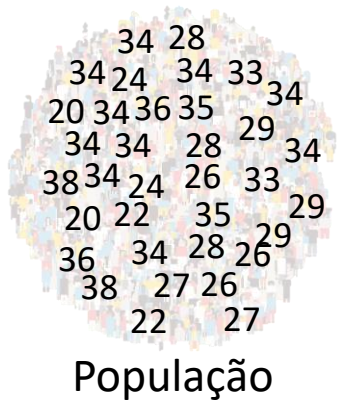
Coleta → Organização → Descrição → Análise → Interpretação de dados

# ESTATÍSTICA, a base da ciência de dados

Oferece ferramentas para:

Coleta → Organização → Descrição → Análise → Interpretação de dados





Técnica de amostragem

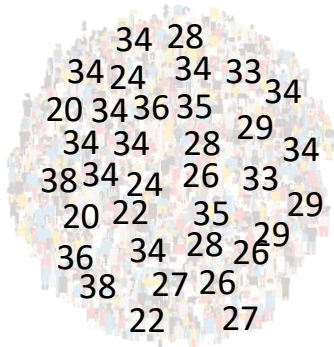


**Análise descritiva dos dados**

- Retirar informações contidas nos dados
- Criar hipóteses para testes/modelos estatísticos

**Conclusões sobre os nossos dados!**  
(pode ou não ser extrapolado para a pop)

Inferência estatística



**População**

**População** é um conjunto de elementos que possuem a mesma característica. A população pode ser ampla ou restrita.

*Termo meio abstrato!*

*Depende da dimensão que queremos alcançar*

Ex.

**Idade média da:**

População de cientistas de dados da Usina de Itaipu

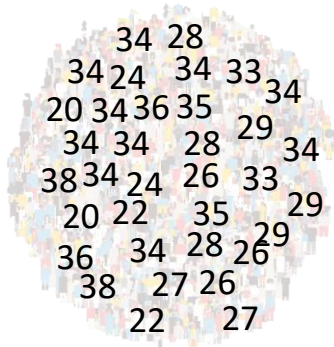
População de cientistas de dados da cidade de Foz do Iguaçu

População de cientistas de dados do Paraná

População de cientistas de dados do Brasil

População de cientistas de dados da América Latina

População de cientistas de dados do Mundo!



População



Amostra

Subconjunto da população, considerando as características essenciais desta.

\*Diferentes método para estimar o n amostral



**População** é um conjunto de elementos que possuem a mesma característica. A população pode ser ampla ou restrita.

*Termo meio abstrato!*



*Depende da dimensão que queremos alcançar*

Ex.

Idade média da:

População de cientistas de dados da Usina de Itaipu

População de cientistas de dados da cidade de Foz do Iguaçu

População de cientistas de dados do Paraná

População de cientistas de dados do Brasil

População de cientistas de dados da América Latina

População de cientistas de dados do Mundo!

Idade média da:

População de cientistas de dados da Usina de Itaipu

População de cientistas de dados da cidade de Foz do Iguaçu

População de cientistas de dados do Paraná

População de cientistas de dados do Brasil

População de cientistas de dados da América Latina

População de cientistas de dados do Mundo!

Ex.

A variável idade pode variar entre gênero feminino e masculino na população de cientistas de dados da cidade de Foz do Iguaçu



25±6 anos



35±10 anos

A idade é a  
variável  
em estudo

Variável:

Atributo, mensurável ou não, sujeito à variação quantitativa ou qualitativa, no interior de um conjunto.



Idade média da:

População de cientistas de dados da Usina de Itaipu

População de cientistas de dados da cidade de Foz do Iguaçu

População de cientistas de dados do Paraná

População de cientistas de dados do Brasil

População de cientistas de dados da América Latina

População de cientistas de dados do Mundo!

Ex.

A variável idade média dos cientistas de dados pode variar entre as cidades de Foz do Iguaçu, Puerto Iguazú e Ciudad del Este.

Foz



25±6 anos

Iguazú



30±10 anos

Ciudad del Este



35±5 anos

A idade é a variável em estudo

Variável:

Atributo, mensurável ou não, sujeito à variação quantitativa ou qualitativa, no interior de um conjunto.

Idade média da:

População de cientistas de dados da Usina de Itaipu

População de cientistas de dados da cidade de Foz do Iguaçu

População de cientistas de dados do Paraná

População de cientistas de dados do Brasil

População de cientistas de dados da América Latina

População de cientistas de dados do Mundo!



A idade é a  
variável  
em estudo

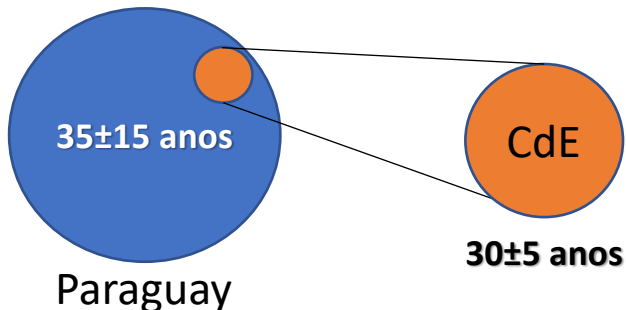


Variável:

Atributo, mensurável ou não, sujeito à variação quantitativa ou qualitativa, no interior de um conjunto de dados.

Ex.

A variável idade média dos cientistas de dados pode variar entre quando comparamos a população de Ciudad del Este com a população de todo o Paraguay.



Lembrando que a variável sempre é medida em cada unidade experimental que temos, ou seja, nesse caso eu measurei a idade de cada um dos cientistas de dados do PY e então calculei a média.

Idade média da:

População de cientistas de dados da Usina de Itaipu

População de cientistas de dados da cidade de Foz do Iguaçu

População de cientistas de dados do Paraná

População de cientistas de dados do Brasil

População de cientistas de dados da América Latina

População de cientistas de dados do Mundo!



A idade é a  
variável  
em estudo

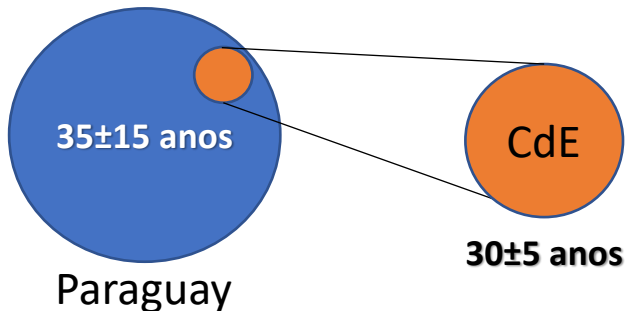


Variável:

Atributo, mensurável ou não, sujeito à variação quantitativa ou qualitativa, no interior de um conjunto de dados.

Ex.

A variável idade média dos cientistas de dados pode variar entre quando comparamos a população de Ciudad del Este com a população de todo o Paraguay.



# Tipos de variáveis

Variáveis Quantitativas



Tipos de variáveis

## Quantitativa discreta

Os números são inteiros.  
Ex. Número de filhos,  
número de alunos.

Variáveis Quantitativas

Tipos de variáveis

```
graph BT; A[Tipos de variáveis] --> B[Variáveis Quantitativas]; B --- C[Quantitativa discreta];
```

The diagram illustrates the classification of quantitative variables. At the bottom, the text 'Tipos de variáveis' (Types of variables) is centered. An orange arrow points upwards from this text to a central orange box labeled 'Variáveis Quantitativas' (Quantitative Variables). To the left of this central box, a horizontal line connects to a white box with an orange border. This box contains the text 'Quantitativa discreta' (Discrete Quantitative), followed by a description: 'Os números são inteiros. Ex. Número de filhos, número de alunos.' (The numbers are integers. Ex. Number of children, number of students.)

## Quantitativa discreta

Os números são inteiros.  
Ex. Número de filhos,  
número de alunos.

Variáveis Quantitativas

## Quantitativa Contínua

Medidas em escalas  
contínuas; números com  
casas decimais.  
Ex. Idade, altura, peso.

Tipos de variáveis

## Quantitativa discreta

Os números são inteiros.  
Ex. Número de filhos,  
número de alunos.

Variáveis Quantitativas

## Quantitativa Contínua

Medidas em escalas  
contínuas; números com  
casas decimais.  
Ex. Idade, altura, peso.

# Tipos de variáveis

Variáveis Qualitativas



## Quantitativa discreta

Os números são inteiros.  
Ex. Número de filhos,  
número de alunos.

Variáveis Quantitativas

## Quantitativa Contínua

Medidas em escalas  
contínuas; números com  
casas decimais.  
Ex. Idade, altura, peso.

# Tipos de variáveis

## Qualitativa nominal

Dicotômica: Possui apenas duas respostas.  
Ex. Sim/Não; Presença/Ausência.

Categórica: Mais de duas respostas; não  
existe ordem entre categorias.  
Ex. Estado conjugal (solteiro, casado  
divorciado); país (AR, BR, PY, etc.).

Variáveis Qualitativas

# Tipos de variáveis

## Variáveis Quantitativas

### Quantitativa discreta

Os números são inteiros.  
Ex. Número de filhos,  
número de alunos.

### Quantitativa Contínua

Medidas em escalas  
contínuas; números com  
casas decimais.  
Ex. Idade, altura, peso.

### Qualitativa nominal

Dicotômica: Possui apenas duas respostas.  
Ex. Sim/Não; Presença/Ausência.

Categórica: Mais de duas respostas; não  
existe ordem entre categorias.  
Ex. Estado conjugal (solteiro, casado  
divorciado); país (AR, BR, PY, etc.).

## Variáveis Qualitativas

### Qualitativa ordinal

Quando existe uma ordem  
ou grau nos possíveis  
resultados.  
Ex.: Série escolar (1ª série,  
2ª série etc).

# Como tabulamos nossas variáveis para uso em R e também em Python?

Uma variável por coluna!!

Cada unidade experimental/observacional em uma linha (ex. cada indivíduo em uma linha).

	A	B	C	D
1	<b>ID</b>	<b>Variável A</b>	<b>Variável B</b>	<b>Variável C</b>
2	Indivíduo 1	Valor para indivíduo 1	Valor para indivíduo 1	Valor para indivíduo 1
3	Indivíduo 2	Valor para indivíduo 2	Valor para indivíduo 2	Valor para indivíduo 2
4	Indivíduo 3	Valor para indivíduo 3	Valor para indivíduo 3	Valor para indivíduo 3
5	Indivíduo 4	Valor para indivíduo 4	Valor para indivíduo 4	Valor para indivíduo 4
6	Indivíduo 5	Valor para indivíduo 5	Valor para indivíduo 5	Valor para indivíduo 5
7	Indivíduo 6	Valor para indivíduo 6	Valor para indivíduo 6	Valor para indivíduo 6
8	...	...	...	...
9				
10				

# Como tabulamos nossas variáveis para uso em R e também em Python?

Uma variável por coluna!!

Cada unidade experimental/observacional em uma linha (ex. cada indivíduo em uma linha).

	A	B	C	D
1	<b>ID</b>	<b>Gênero</b>	<b>Idade</b>	<b>Escolaridade</b>
2	Amanda	Feminino	25	Ensino médio completo
3	Felipe	Masculino	30	Ensino superior incompleto
4	Fernando	Masculino	29	Ensino superior completo
5	Alicia	Feminino	31	Ensino médio incompleto
6	Jeferson	Masculino	27	Pós-graduação incompleto
7	Alejandro	Masculino	26	Ensino superior incompleto
8	...	...	...	...

# Introduzindo a estatística descritiva

- Apenas o início!
- Dados nunca são apresentados de maneira integral, ao invés disso, resumimos nossos dados utilizando a estatística descritiva.
- Para as variáveis qualitativas, usamos as distribuições de frequência.
- Para as variáveis quantitativas, podemos descrever os dados pelas Medidas de tendência central e pelas Medidas de variabilidade.

# Distribuição de frequências

## **Distribuição de frequências**

- Em geral, dados qualitativos são representados por sua frequência absoluta e sua frequência relativa percentual.

Ex.

Realizei uma amostragem de dados relativo a estado civil de 35 alunos do GECD de Foz do Iguaçu. Agora eu preciso descrever esses dados.

# Distribuição de frequências

Ex.

Realizei uma amostragem de dados relativo a estado civil de 35 alunos do GECD de Foz do Iguaçu. Agora eu preciso descrever esses dados.

<b>Estado civil</b>	<b>f</b>	<b>FR</b>	<b>FR%</b>
<b>Solteiro/a</b>			
<b>Casado/a</b>			
<b>Viúvo/a</b>			

# Distribuição de frequências

Ex.

Realizei uma amostragem de dados relativo a estado civil de 35 alunos do GECD de Foz do Iguaçu. Agora eu preciso descrever esses dados.

**Frequência absoluta (f):** Simplesmente o número de unidades por categoria da minha variável



Estado civil	f	FR	FR%
Solteiro/a			
Casado/a			
Viúvo/a			



# Distribuição de frequências

Ex.

Realizei uma amostragem de dados relativo a estado civil de 35 alunos do GECD de Foz do Iguaçu. Agora eu preciso descrever esses dados.

**Frequência absoluta (f):** Simplesmente o número de unidades por categoria da minha variável

Estado civil	f	FR	FR%
Solteiro/a	10		
Casado/a			
Viúvo/a			

# Distribuição de frequências

Ex.

Realizei uma amostragem de dados relativo a estado civil de 35 alunos do GECD de Foz do Iguaçu. Agora eu preciso descrever esses dados.

**Frequência absoluta (f):** Simplesmente o número de unidades por categoria da minha variável


Estado civil	f	FR	FR%
Solteiro/a	10		
Casado/a	20		
Viúvo/a			

# Distribuição de frequências

Ex.

Realizei uma amostragem de dados relativo a estado civil de 35 alunos do GECD de Foz do Iguaçu. Agora eu preciso descrever esses dados.

**Frequência absoluta (f):** Simplesmente o número de unidades por categoria da minha variável




Estado civil	f	FR	FR%
Solteiro/a	10		
Casado/a	20		
Viúvo/a	5		

# Distribuição de frequências

Ex.

Realizei uma amostragem de dados relativo a estado civil de 35 alunos do GECD de Foz do Iguaçu. Agora eu preciso descrever esses dados.

**Frequência relativa (FR):** É simplesmente a proporção em que cada valor ocorre. Sua fórmula é  $f/\Sigma(f)$ .



Estado civil	f	FR	FR%
Solteiro/a	10		
Casado/a	20		
Viúvo/a	5		

# Distribuição de frequências

Ex.

Realizei uma amostragem de dados relativo a estado civil de 35 alunos do GECD de Foz do Iguaçu. Agora eu preciso descrever esses dados.

**Frequência relativa (FR):** É simplesmente a proporção em que cada valor ocorre. Sua fórmula é  $f/\Sigma(f)$ .

Estado civil	f	FR	FR%
Solteiro/a	10		
Casado/a	20		
Viúvo/a	5		

# Distribuição de frequências

Ex.

Realizei uma amostragem de dados relativo a estado civil de 35 alunos do GECD de Foz do Iguaçu. Agora eu preciso descrever esses dados.

**Frequência relativa (FR):** É simplesmente a proporção em que cada valor ocorre. Sua fórmula é  $f/\Sigma(f)$ .

Estado civil	f	FR	FR%
Solteiro/a	10	10/35=	
Casado/a	20		
Viúvo/a	5		

# Distribuição de frequências

Ex.

Realizei uma amostragem de dados relativo a estado civil de 35 alunos do GECD de Foz do Iguaçu. Agora eu preciso descrever esses dados.

**Frequência relativa (FR):** É simplesmente a proporção em que cada valor ocorre. Sua fórmula é  $f/\Sigma(f)$ .

Estado civil	f	FR	FR%
Solteiro/a	10	$10/35=$ <b>0.2851</b>	
Casado/a	20		
Viúvo/a	5		

# Distribuição de frequências

Ex.

Realizei uma amostragem de dados relativo a estado civil de 35 alunos do GECD de Foz do Iguaçu. Agora eu preciso descrever esses dados.

**Frequência relativa (FR):** É simplesmente a proporção em que cada valor ocorre. Sua fórmula é  $f/\Sigma(f)$ .

Estado civil	f	FR	FR%
Solteiro/a	10	10/35= <b>0.2851</b>	
Casado/a	20	20/35=	
Viúvo/a	5		



# Distribuição de frequências

Ex.

Realizei uma amostragem de dados relativo a estado civil de 35 alunos do GECD de Foz do Iguaçu. Agora eu preciso descrever esses dados.

**Frequência relativa (FR):** É simplesmente a proporção em que cada valor ocorre. Sua fórmula é  $f/\Sigma(f)$ .

Estado civil	f	FR	FR%
Solteiro/a	10	10/35= <b>0.2851</b>	
Casado/a	20	20/35= <b>0.5714</b>	
Viúvo/a	5		

# Distribuição de frequências

Ex.

Realizei uma amostragem de dados relativo a estado civil de 35 alunos do GECD de Foz do Iguaçu. Agora eu preciso descrever esses dados.

**Frequência relativa (FR):** É simplesmente a proporção em que cada valor ocorre. Sua fórmula é  $f/\Sigma(f)$ .

Estado civil	f	FR	FR%
Solteiro/a	10	10/35= <b>0.2851</b>	
Casado/a	20	20/35= <b>0.5714</b>	
Viúvo/a	5	5/35=	

# Distribuição de frequências

Ex.

Realizei uma amostragem de dados relativo a estado civil de 35 alunos do GECD de Foz do Iguaçu. Agora eu preciso descrever esses dados.

**Frequência relativa (FR):** É simplesmente a proporção em que cada valor ocorre. Sua fórmula é  $f/\Sigma(f)$ .

Estado civil	f	FR	FR%
Solteiro/a	10	10/35= <b>0.2851</b>	
Casado/a	20	20/35= <b>0.5714</b>	
Viúvo/a	5	5/35= <b>0.1429</b>	

# Distribuição de frequências

Ex.

Realizei uma amostragem de dados relativo a estado civil de 35 alunos do GECD de Foz do Iguaçu. Agora eu preciso descrever esses dados.

**Frequência relativa percentual (FR%):** É simplesmente a proporção em que cada valor ocorre multiplicado por 100. Sua fórmula é  $(f/\Sigma(f))*100$ .

Estado civil	f	FR	FR%
Solteiro/a	10	10/35= <b>0.2851</b>	
Casado/a	20	20/35= <b>0.5714</b>	
Viúvo/a	5	5/35= <b>0.1429</b>	

Ou  $FR * 100$

# Distribuição de frequências

Ex.

Realizei uma amostragem de dados relativo a estado civil de 35 alunos do GECD de Foz do Iguaçu. Agora eu preciso descrever esses dados.

**Frequência relativa percentual (FR%):** É simplesmente a proporção em que cada valor ocorre multiplicado por 100. Sua fórmula é  $(f/\Sigma(f))*100$ .

Estado civil	f	FR	FR%
Solteiro/a	10	$10/35=$ <b>0.2851</b>	$0.2851*100=$
Casado/a	20	$20/35=$ <b>0.5714</b>	
Viúvo/a	5	$5/35=$ <b>0.1429</b>	

Ou  $FR*100$

# Distribuição de frequências

Ex.

Realizei uma amostragem de dados relativo a estado civil de 35 alunos do GECD de Foz do Iguaçu. Agora eu preciso descrever esses dados.

**Frequência relativa percentual (FR%):** É simplesmente a proporção em que cada valor ocorre multiplicado por 100. Sua fórmula é  $(f/\Sigma(f))*100$ .

Estado civil	f	FR	FR%
Solteiro/a	10	10/35= <b>0.2851</b>	0.2851*100= <b>28.51%</b>
Casado/a	20	20/35= <b>0.5714</b>	
Viúvo/a	5	5/35= <b>0.1429</b>	

Ou  $FR*100$

# Distribuição de frequências

Ex.

Realizei uma amostragem de dados relativo a estado civil de 35 alunos do GECD de Foz do Iguaçu. Agora eu preciso descrever esses dados.

**Frequência relativa percentual (FR%):** É simplesmente a proporção em que cada valor ocorre multiplicado por 100. Sua fórmula é  $(f/\Sigma(f))*100$ .

Estado civil	f	FR	FR%
Solteiro/a	10	10/35= <b>0.2851</b>	0.2851*100= <b>28.51%</b>
Casado/a	20	20/35= <b>0.5714</b>	0.5714*100= <b>57.14%</b>
Viúvo/a	5	5/35= <b>0.1429</b>	0.1429*100= <b>14.29%</b>

Ou  $FR*100$

# Distribuição de frequências

Ex.

Realizei uma amostragem de dados relativo a estado civil de 35 alunos do GECD de Foz do Iguaçu. Agora eu preciso descrever esses dados.

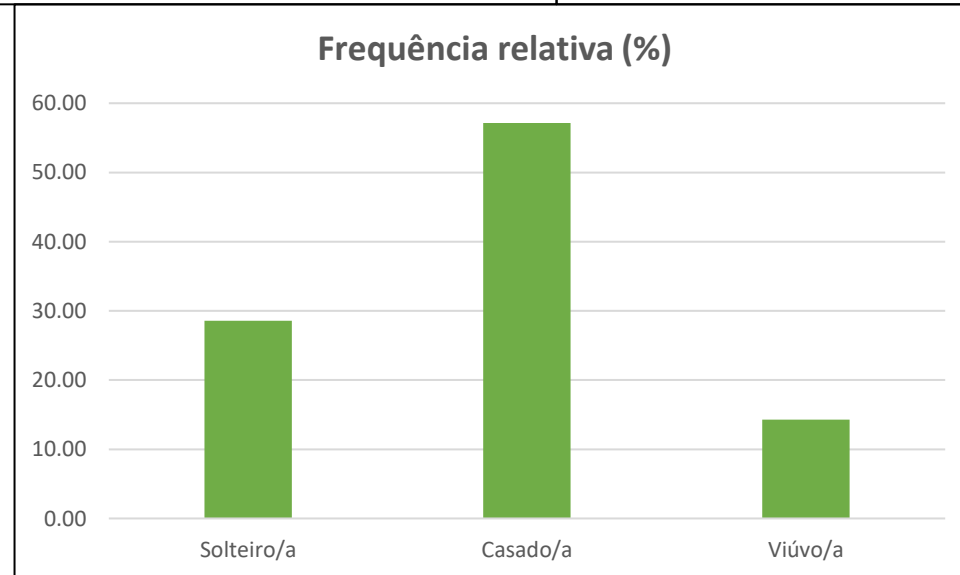
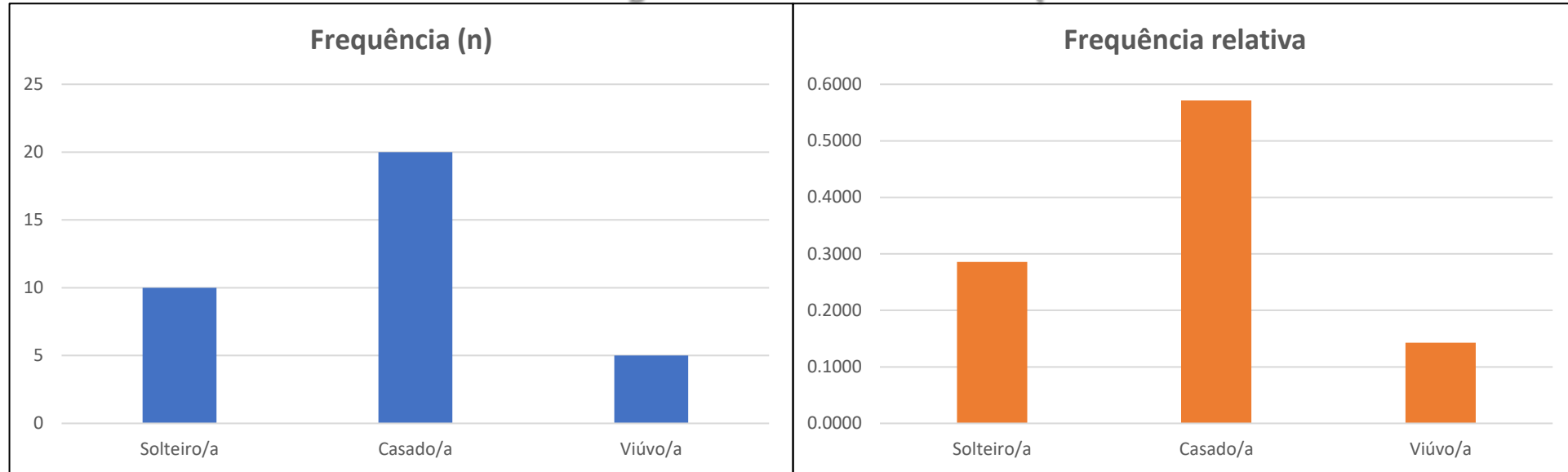
**Frequência relativa percentual (FR%):** É simplesmente a proporção em que cada valor ocorre multiplicado por 100. Sua fórmula é  $(f/\Sigma(f))*100$ .

Estado civil	f	FR	FR%
Solteiro/a	10	10/35= <b>0.2851</b>	0.2851*100= <b>28.51%</b>
Casado/a	20	20/35= <b>0.5714</b>	0.5714*100= <b>57.14%</b>
Viúvo/a	5	5/35= <b>0.1429</b>	

Ou  $FR*100$



# Distribuição de frequências



# Distribuição de frequências

Ex.

Realizei uma amostragem de dados relativo a estado civil de 35 alunos do GECD de Foz do Iguaçu. Agora eu preciso descrever esses dados.

**Frequência relativa percentual (FR%):** É simplesmente a proporção em que cada valor ocorre multiplicado por 100. Sua fórmula é  $(f/\Sigma(f))*100$ .

Estado civil	f	FR	FR%
Solteiro/a	10	10/35= <b>0.2851</b>	0.2851*100= <b>28.51%</b>
Casado/a	20	20/35= <b>0.5714</b>	0.5714*100= <b>57.14%</b>
Viúvo/a	5	5/35= <b>0.1429</b>	0.1429*100= <b>14.29%</b>

Ou  $FR*100$

# Distribuição de frequências

**Frequência acumulada (FA):** ela representa a soma (ou o total corrente) de todas as frequências até o ponto presente no conjunto de dados, ou seja,  $F_{ai} = f_1 + f_2 + f_3 + \dots + f_i$ .

# Distribuição de frequências

Ex.

Quantos exercícios de estatística um aluno do GECD consegue responder em um período de 60m?

**Frequência acumulada (FA):** ela representa a soma (ou o total corrente) de todas as frequências até o ponto presente no conjunto de dados, ou seja,  $F_{ai} = f_1 + f_2 + f_3 + \dots + f_i$ .

# Distribuição de frequências

Ex.

Quantos exercícios de estatística um aluno do GECD consegue responder em um período de 60m?

**Frequência acumulada (FA):** ela representa a soma (ou o total corrente) de todas as frequências até o ponto presente no conjunto de dados, ou seja,  $F_{ai} = f_1 + f_2 + f_3 + \dots + f_i$ .

Tempo	Frequência (f) de exercícios	FA
10	10	
20	10	
30	10	
40	10	
50	10	
60	10	

# Distribuição de frequências

Ex.

Quantos exercícios de estatística um aluno do GECD consegue responder em um período de 60m?

**Frequência acumulada (FA):** ela representa a soma (ou o total corrente) de todas as frequências até o ponto presente no conjunto de dados, ou seja,  $F_{ai} = f_1 + f_2 + f_3 + \dots + f_i$ .

Tempo	Frequência (f) de exercícios	FA
10	10	FA(10m)=
20	10	
30	10	
40	10	
50	10	
60	10	

# Distribuição de frequências

Ex.

Quantos exercícios de estatística um aluno do GECD consegue responder em um período de 60m?

**Frequência acumulada (FA):** ela representa a soma (ou o total corrente) de todas as frequências até o ponto presente no conjunto de dados, ou seja,  $F_{ai} = f_1 + f_2 + f_3 + \dots + f_i$ .

Tempo	Frequência (f) de exercícios	FA
10	10	FA(10m)=
20	10	
30	10	
40	10	
50	10	
60	10	

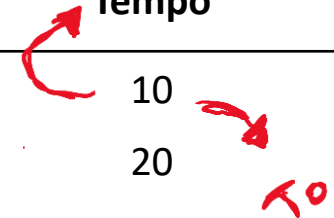
# Distribuição de frequências

Ex.

Quantos exercícios de estatística um aluno do GECD consegue responder em um período de 60m?

**Frequência acumulada (FA):** ela representa a soma (ou o total corrente) de todas as frequências até o ponto presente no conjunto de dados, ou seja,  $F_{ai} = f_1 + f_2 + f_3 + \dots + f_i$ .

Tempo	Frequência (f) de exercícios	FA
10	10	FA(10m)=
20	10	
30	10	
40	10	
50	10	
60	10	





# Distribuição de frequências

Ex.

Quantos exercícios de estatística um aluno do GECD consegue responder em um período de 60m?

**Frequência acumulada (FA):** ela representa a soma (ou o total corrente) de todas as frequências até o ponto presente no conjunto de dados, ou seja,  $F_{ai} = f_1 + f_2 + f_3 + \dots + f_i$ .

Tempo	Frequência (f) de exercícios	FA
10	10	FA(10m)=10 ex.
20	10	
30	10	
40	10	
50	10	
60	10	

# Distribuição de frequências

Ex.

Quantos exercícios de estatística um aluno do GECD consegue responder em um período de 60m?

**Frequência acumulada (FA):** ela representa a soma (ou o total corrente) de todas as frequências até o ponto presente no conjunto de dados, ou seja,  $F_{ai} = f_1 + f_2 + f_3 + \dots + f_i$ .

Tempo	Frequência (f) de exercícios	FA
10	10	FA(10m)= <b>10 ex.</b>
20	10	FA(20m)=
30	10	
40	10	
50	10	
60	10	

# Distribuição de frequências

Ex.

Quantos exercícios de estatística um aluno do GECD consegue responder em um período de 60m?

**Frequência acumulada (FA):** ela representa a soma (ou o total corrente) de todas as frequências até o ponto presente no conjunto de dados, ou seja,  $F_{ai} = f_1 + f_2 + f_3 + \dots + f_i$ .

Tempo	Frequência (f) de exercícios	FA
10	10	FA(10m)=10 ex.
20	10	FA(20m)=
30	10	
40	10	
50	10	
60	10	

$\sum n \cdot \text{exe} = 10 + 10 + 10 + 10 + 10 + 10$

# Distribuição de frequências

Ex.

Quantos exercícios de estatística um aluno do GECD consegue responder em um período de 60m?

**Frequência acumulada (FA):** ela representa a soma (ou o total corrente) de todas as frequências até o ponto presente no conjunto de dados, ou seja,  $F_{ai} = f_1 + f_2 + f_3 + \dots + f_i$ .

Tempo	Frequência (f) de exercícios	FA
10	10	FA(10m)=10 ex.
20	10	FA(20m)= 10+10=
30	10	
40	10	
50	10	
60	10	

$\sum n \cdot \text{exe} = 10 + 10 + 10 + 10 + 10 + 10$

# Distribuição de frequências

Ex.

Quantos exercícios de estatística um aluno do GECD consegue responder em um período de 60m?

**Frequência acumulada (FA):** ela representa a soma (ou o total corrente) de todas as frequências até o ponto presente no conjunto de dados, ou seja,  $F_{ai} = f_1 + f_2 + f_3 + \dots + f_i$ .

Tempo	Frequência (f) de exercícios	FA
10	10	FA(10m)=10 ex.
20	10	FA(20m)= 10+10 = 20ex.
30	10	
40	10	
50	10	
60	10	

$\sum n \cdot \text{exe} = n \cdot \text{exes}$   
 $10 + 10$

# Distribuição de frequências

Ex.

Quantos exercícios de estatística um aluno do GECD consegue responder em um período de 60m?

**Frequência acumulada (FA):** ela representa a soma (ou o total corrente) de todas as frequências até o ponto presente no conjunto de dados, ou seja,  $F_{ai} = f_1 + f_2 + f_3 + \dots + f_i$ .

Tempo	Frequência (f) de exercícios	FA
10	10	FA(10m)=10 ex.
20	10	FA(20m)= 10+10= 20ex.
30	10	FA(30m)= 10+10+10=
40	10	
50	10	
60	10	

# Distribuição de frequências

Ex.

Quantos exercícios de estatística um aluno do GECD consegue responder em um período de 60m?

**Frequência acumulada (FA):** ela representa a soma (ou o total corrente) de todas as frequências até o ponto presente no conjunto de dados, ou seja,  $F_{ai} = f_1 + f_2 + f_3 + \dots + f_i$ .

Tempo	Frequência (f) de exercícios	FA
10	10	FA(10m)=10 ex.
20	10	FA(20m)= 10+10= 20ex.
30	10	FA(30m)= <u>10+10+10=</u>
40	10	
50	10	
60	10	

# Distribuição de frequências

Ex.

Quantos exercícios de estatística um aluno do GECD consegue responder em um período de 60m?

**Frequência acumulada (FA):** ela representa a soma (ou o total corrente) de todas as frequências até o ponto presente no conjunto de dados, ou seja,  $F_{ai} = f_1 + f_2 + f_3 + \dots + f_i$ .

Tempo	Frequência (f) de exercícios	FA
10	10	FA(10m)=10 ex.
20	10	FA(20m)= 10+10= 20ex.
30	10	FA(30m)= <u>10+10+10= 30ex.</u>
40	10	
50	10	
60	10	



# Distribuição de frequências

Ex.

Quantos exercícios de estatística um aluno do GECD consegue responder em um período de 60m?

**Frequência acumulada (FA):** ela representa a soma (ou o total corrente) de todas as frequências até o ponto presente no conjunto de dados, ou seja,  $F_{ai} = f_1 + f_2 + f_3 + \dots + f_i$ .

Tempo	Frequência (f) de exercícios	FA
10	10	$FA(10m) = 10 \text{ ex.}$
20	10	$FA(20m) = 10 + 10 = 20 \text{ ex.}$
30	10	$FA(30m) = 10 + 10 + 10 = 30 \text{ ex.}$
40	10	
50	10	
60	10	



# Distribuição de frequências

Ex.

Quantos exercícios de estatística um aluno do GECD consegue responder em um período de 60m?

**Frequência acumulada (FA):** ela representa a soma (ou o total corrente) de todas as frequências até o ponto presente no conjunto de dados, ou seja,  $F_{ai} = f_1 + f_2 + f_3 + \dots + f_i$ .

Tempo	Frequência (f) de exercícios	FA
10	10	$FA(10m) = 10 \text{ ex.}$
20	10	$FA(20m) = 10 + 10 = 20 \text{ ex.}$
30	10	$FA(30m) = 10 + 10 + 10 = 30 \text{ ex.}$
40	10	$FA(40m) = 10 + 10 + 10 + 10 = 40 \text{ ex.}$
50	10	$FA(50m) = 10 + 10 + 10 + 10 + 10 = 50 \text{ ex.}$
60	10	$FA(60m) = 10 + 10 + 10 + 10 + 10 + 10 = 60 \text{ ex.}$



# Distribuição de frequências

Ex.

Quantos exercícios de estatística um aluno do GECD consegue responder em um período de 60m?

**Frequência acumulada (FA):** ela representa a soma (ou o total corrente) de todas as frequências até o ponto presente no conjunto de dados, ou seja,  $F_{ai} = f_1 + f_2 + f_3 + \dots + f_i$ .

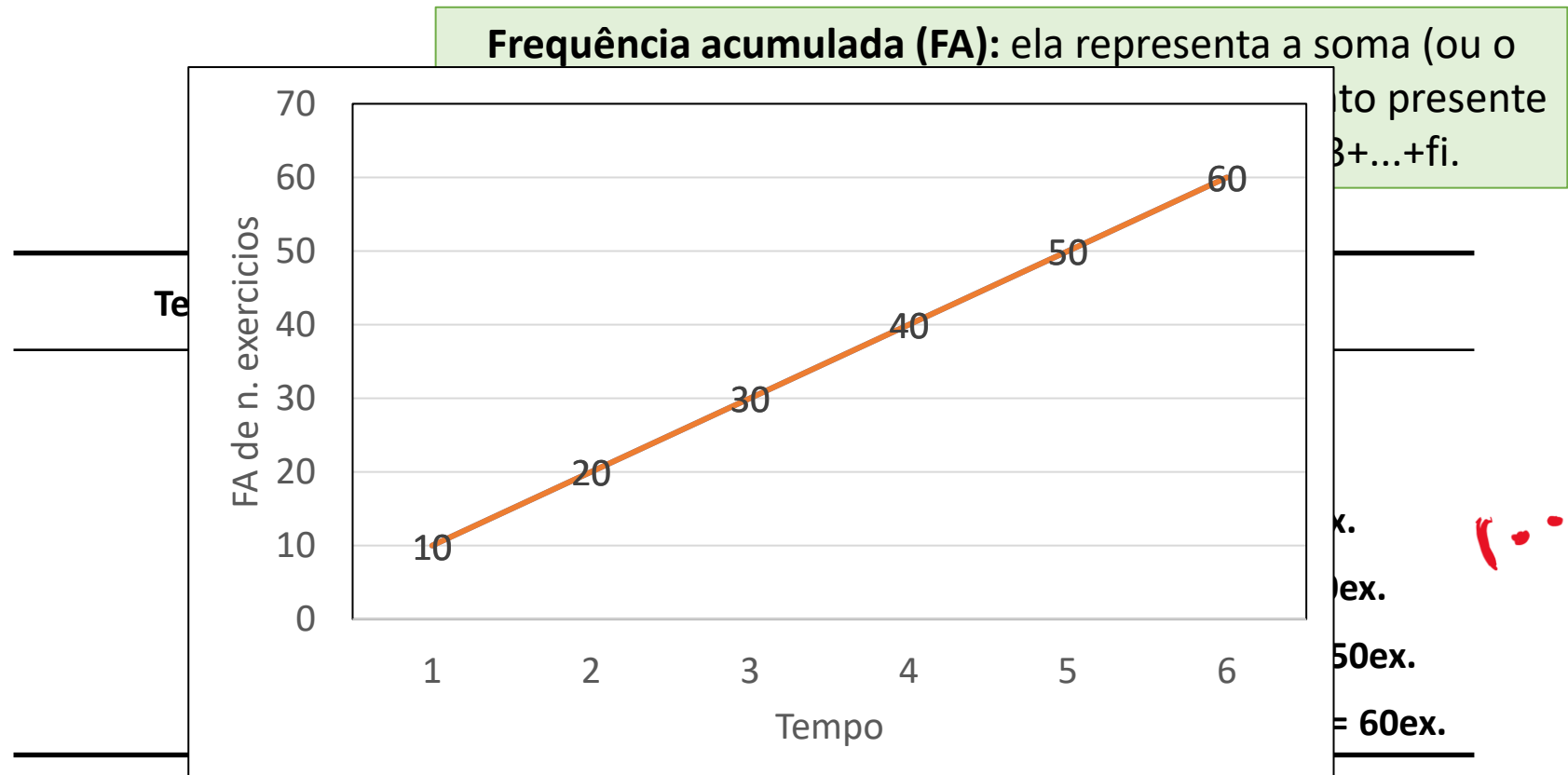
Tempo	Frequência (f) de exercícios	FA
10	10	$FA(10m) = 10 \text{ ex.}$
20	10	$FA(20m) = 10 + 10 = 20 \text{ ex.}$
30	10	$FA(30m) = 10 + 10 + 10 = 30 \text{ ex.}$
40	10	$FA(40m) = 10 + 10 + 10 + 10 = 40 \text{ ex.}$
50	10	$FA(50m) = 10 + 10 + 10 + 10 + 10 = 50 \text{ ex.}$
60	10	$FA(60m) = 10 + 10 + 10 + 10 + 10 + 10 = 60 \text{ ex.}$



# Distribuição de frequências

Ex.

Quantos exercícios de estatística um aluno do GECD consegue responder em um período de 60m?



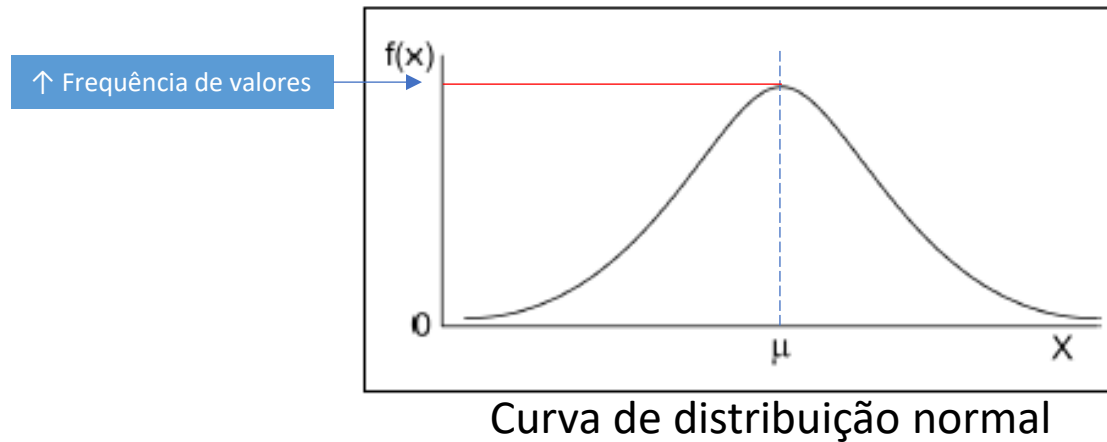
# Introduzindo a estatística descritiva

- Apenas o início!
- Dados nunca são apresentados de maneira integral, ao invés disso, resumimos nossos dados utilizando a estatística descritiva.
- Para as variáveis qualitativas, usamos as distribuições de frequência.
- Para as variáveis quantitativas, podemos descrever os dados pelas **Medidas de tendência central** e pelas **Medidas de variabilidade**.

# Medidas de tendência central

## Média aritmética

- Os dados de uma população para uma determinada variável 'x' normalmente não se distribuem uniformemente, havendo uma certa concentração.

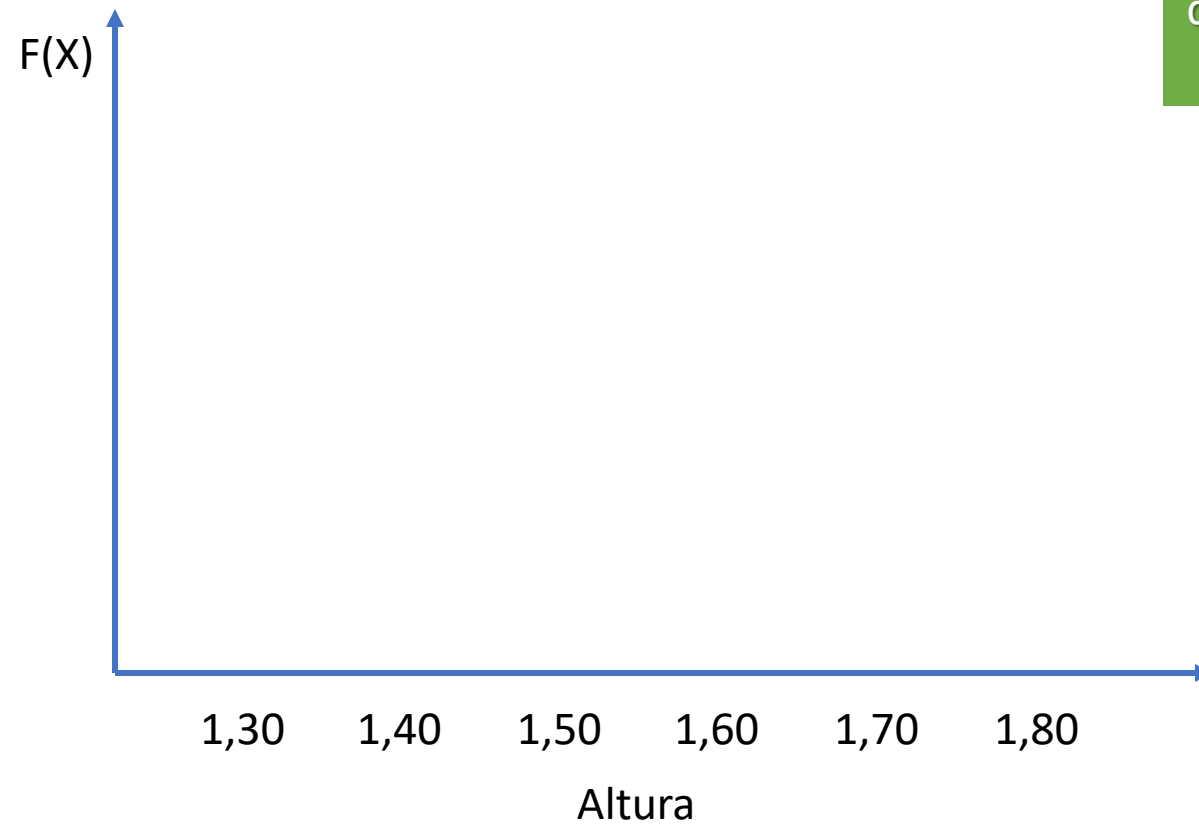


- Essa concentração de dados pode ser utilizada para representar os dados (mesmo que esse valor seja uma abstração).

# Medidas de tendência central

Curva normal

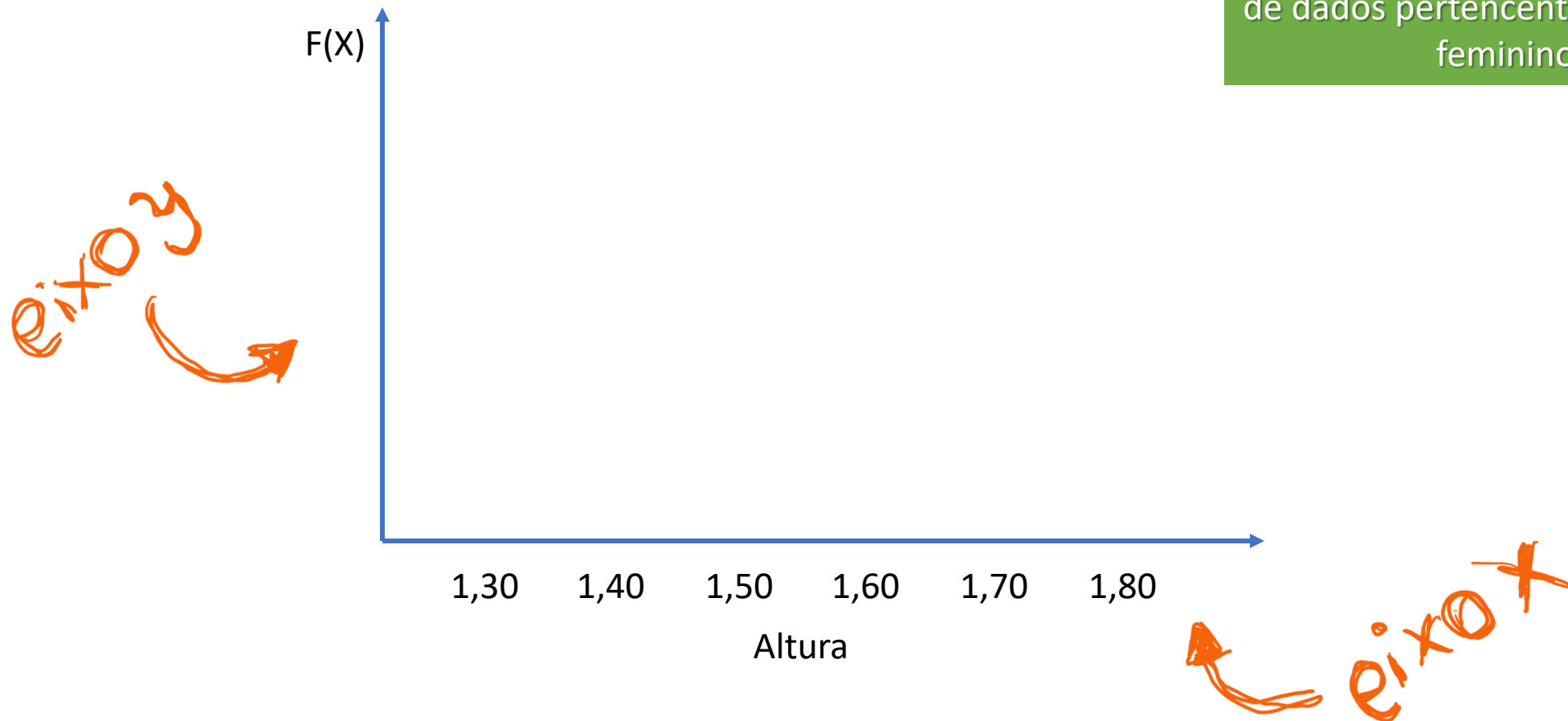
Altura da população de cientistas  
de dados pertencentes ao gênero  
feminino



# Medidas de tendência central

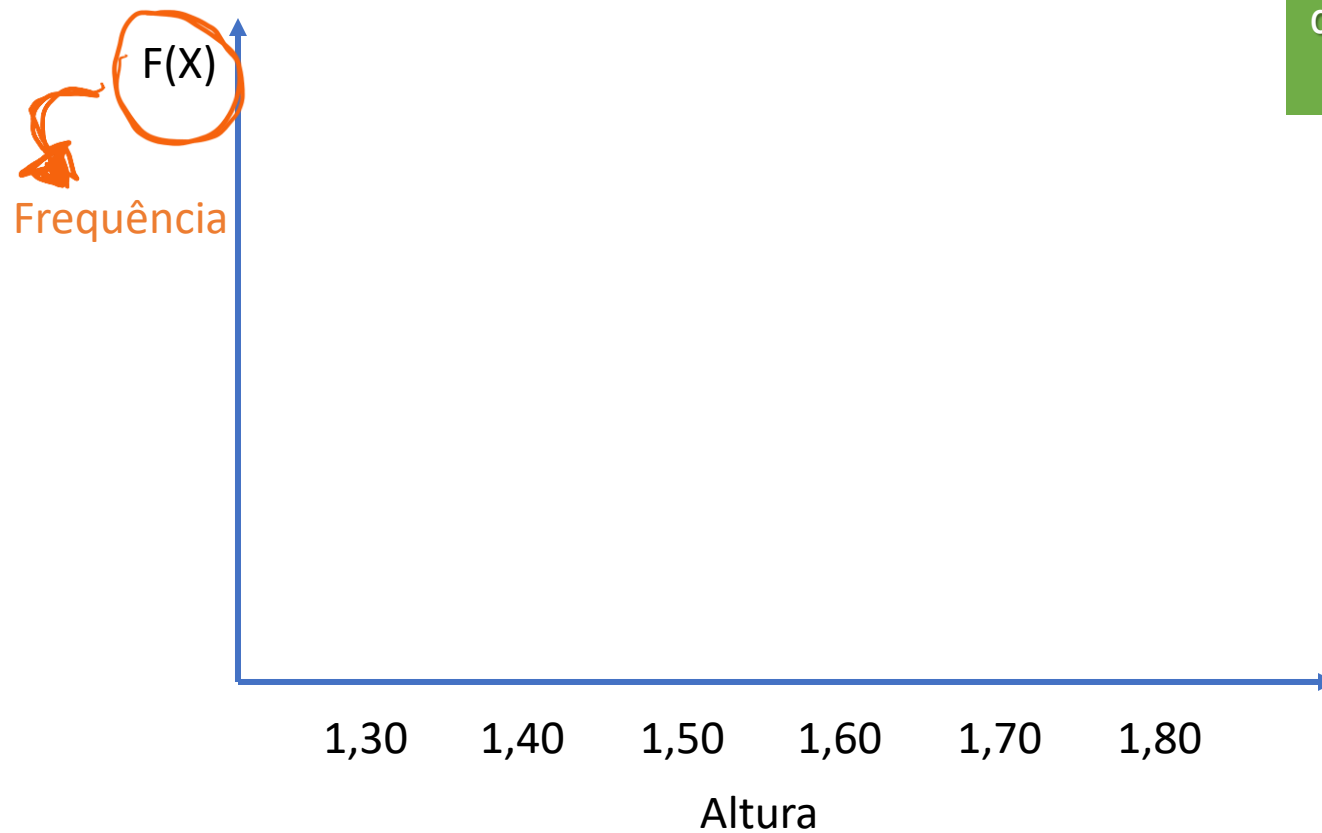
Curva normal

Altura da população de cientistas  
de dados pertencentes ao gênero  
feminino





# Medidas de tendência central



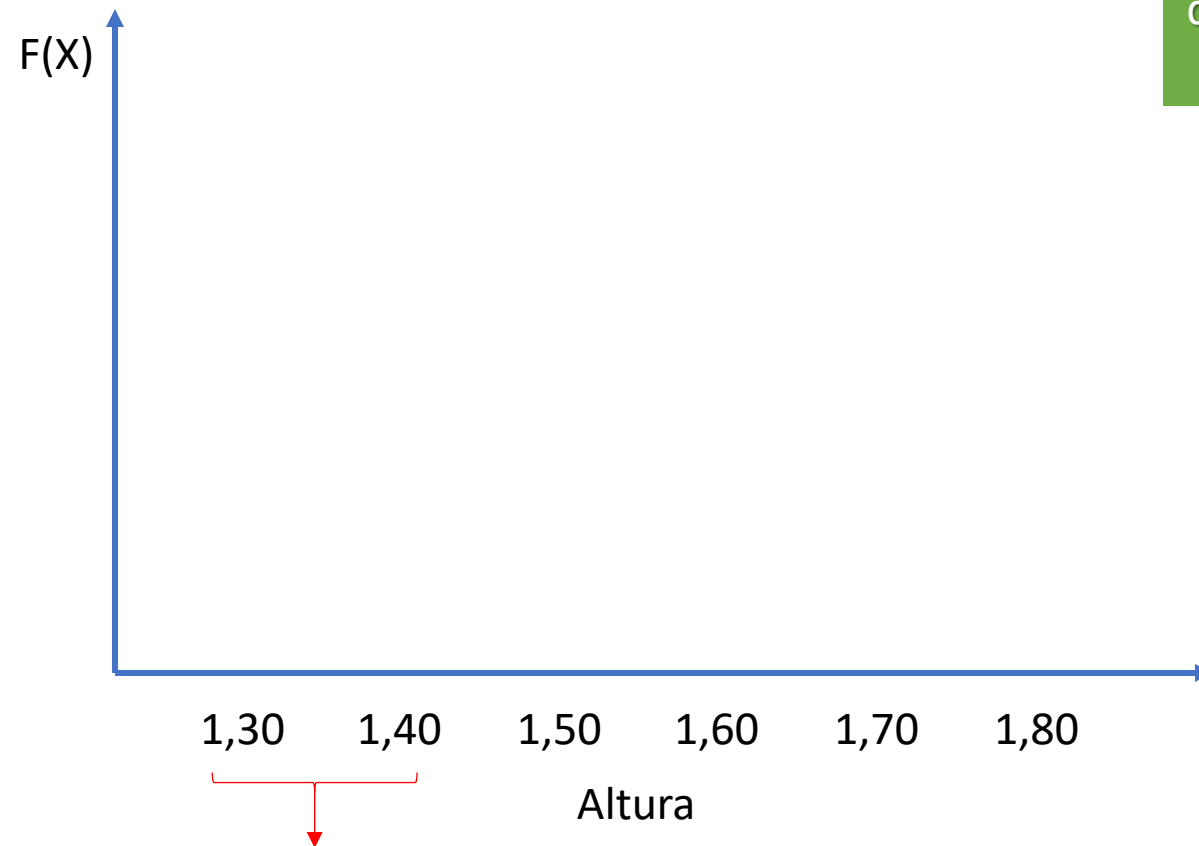
Curva normal

Altura da população de cientistas  
de dados pertencentes ao gênero  
feminino

# Medidas de tendência central

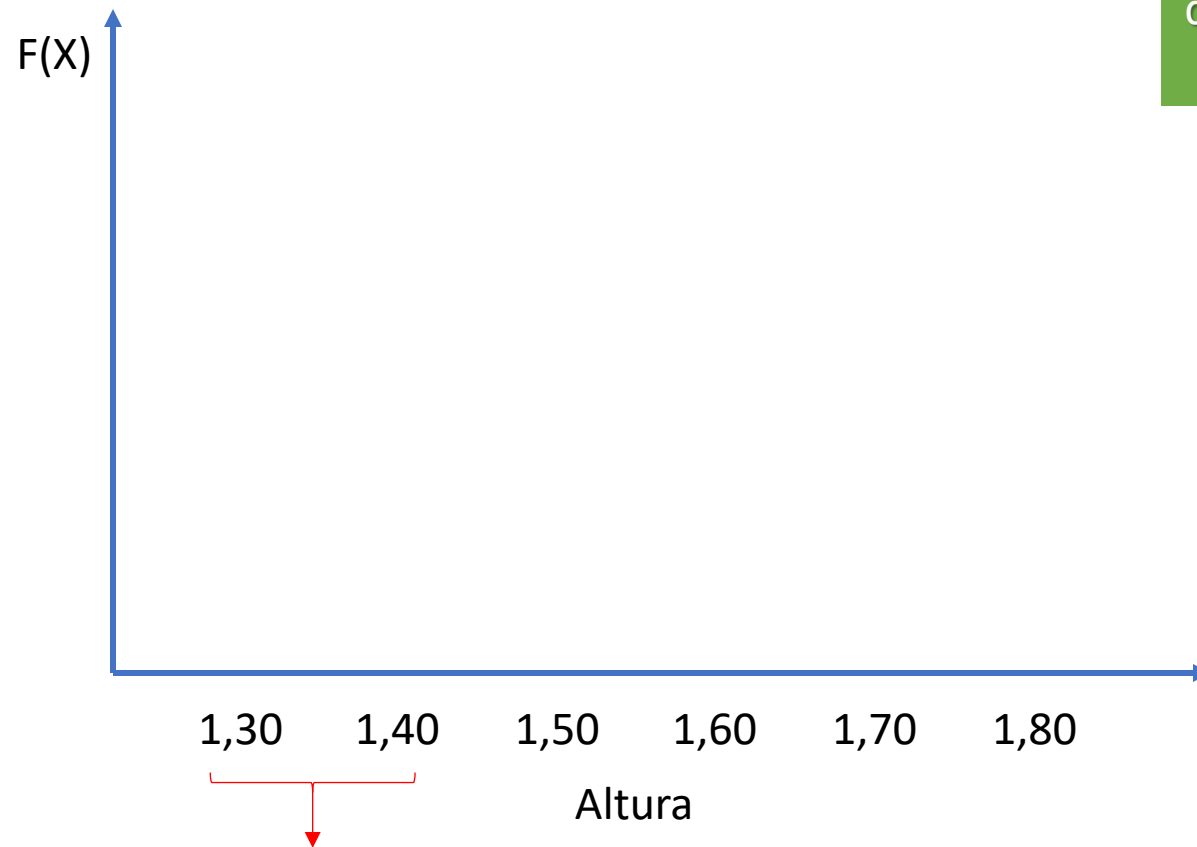
Curva normal

Altura da população de cientistas  
de dados pertencentes ao gênero  
feminino



Intervalo de valores de 10cm\*

# Medidas de tendência central



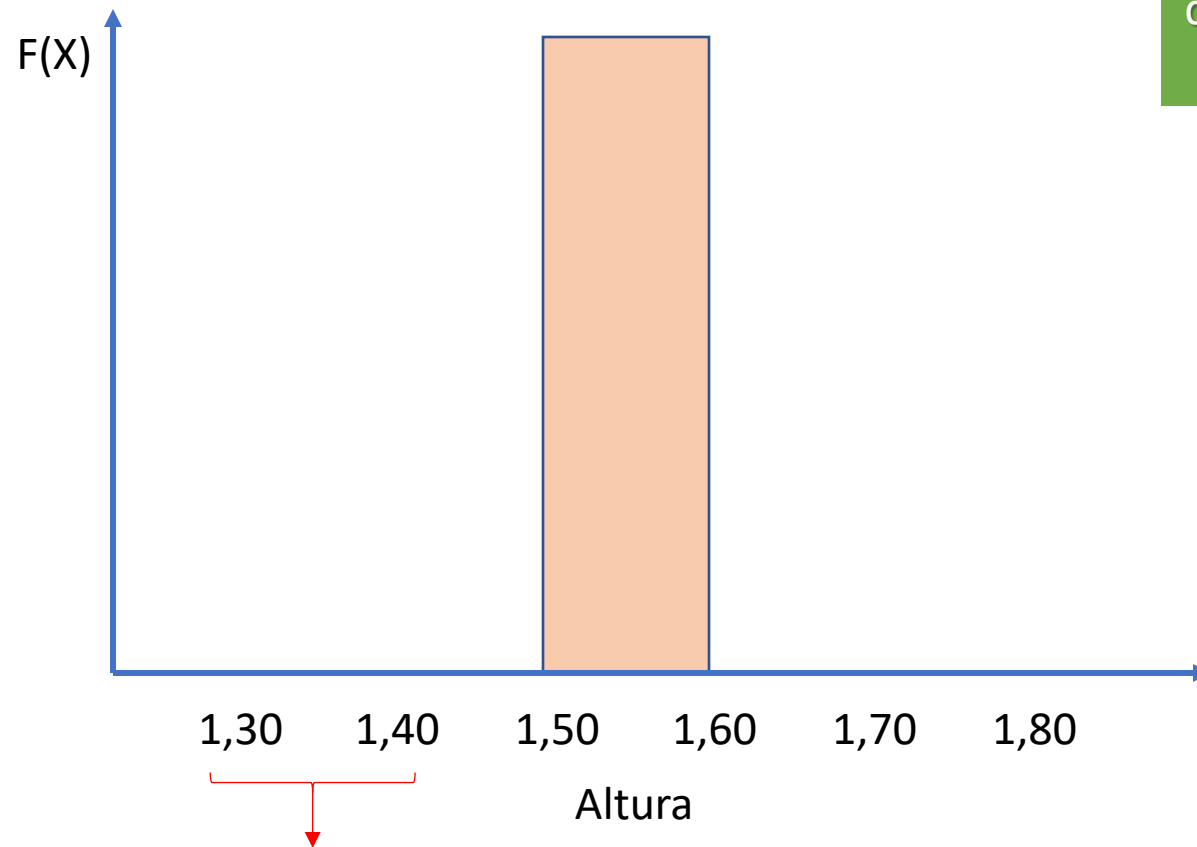
Curva normal

Altura da população de cientistas de dados pertencentes ao gênero feminino

Qual intervalo de valores eu espero que seja o mais frequente em minha população?

Intervalo de valores de 10cm\*

# Medidas de tendência central



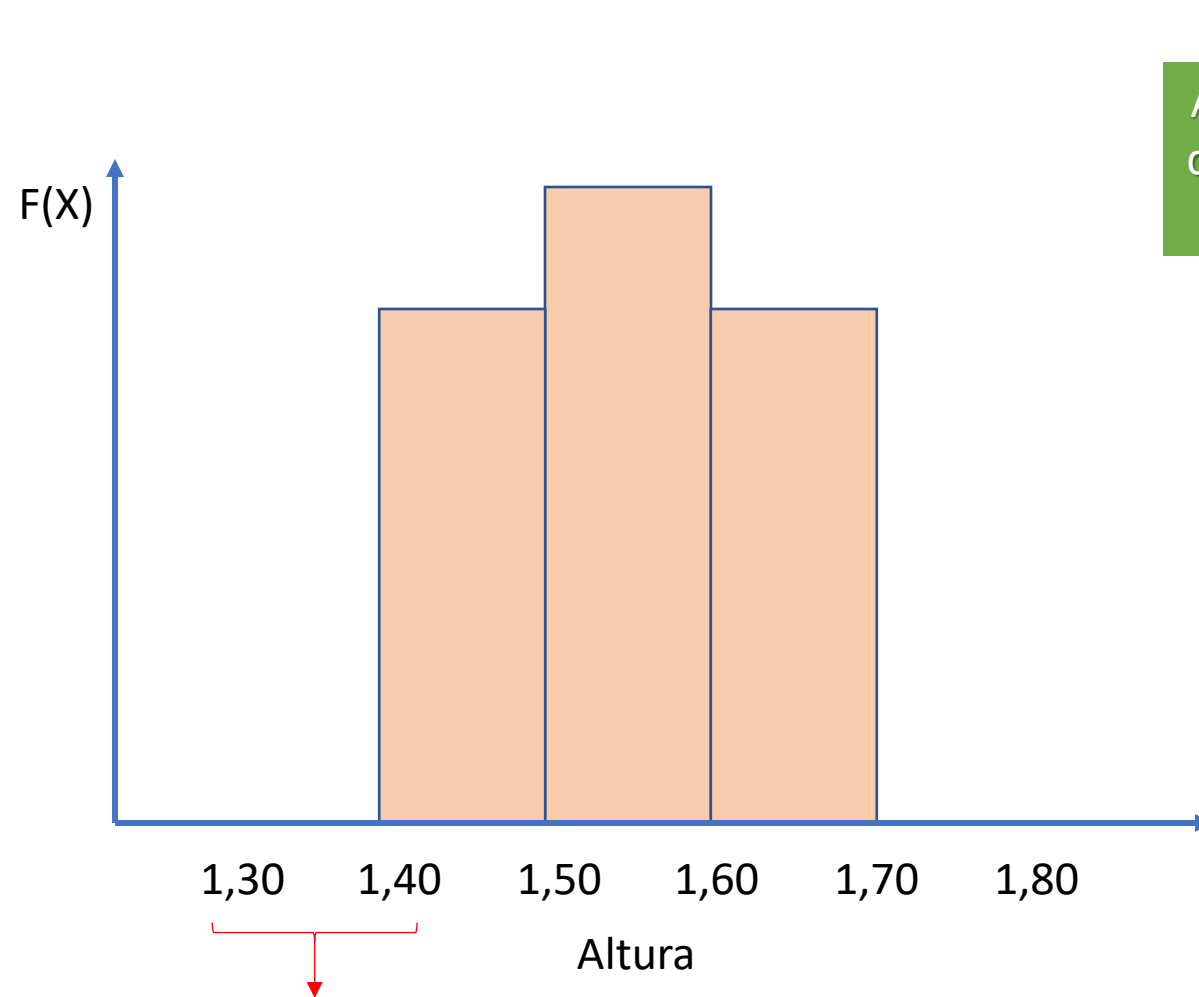
Curva normal

Altura da população de cientistas de dados pertencentes ao gênero feminino

Qual intervalo de valores eu espero que seja o mais frequente em minha população?

Intervalo de valores de 10cm\*

# Medidas de tendência central



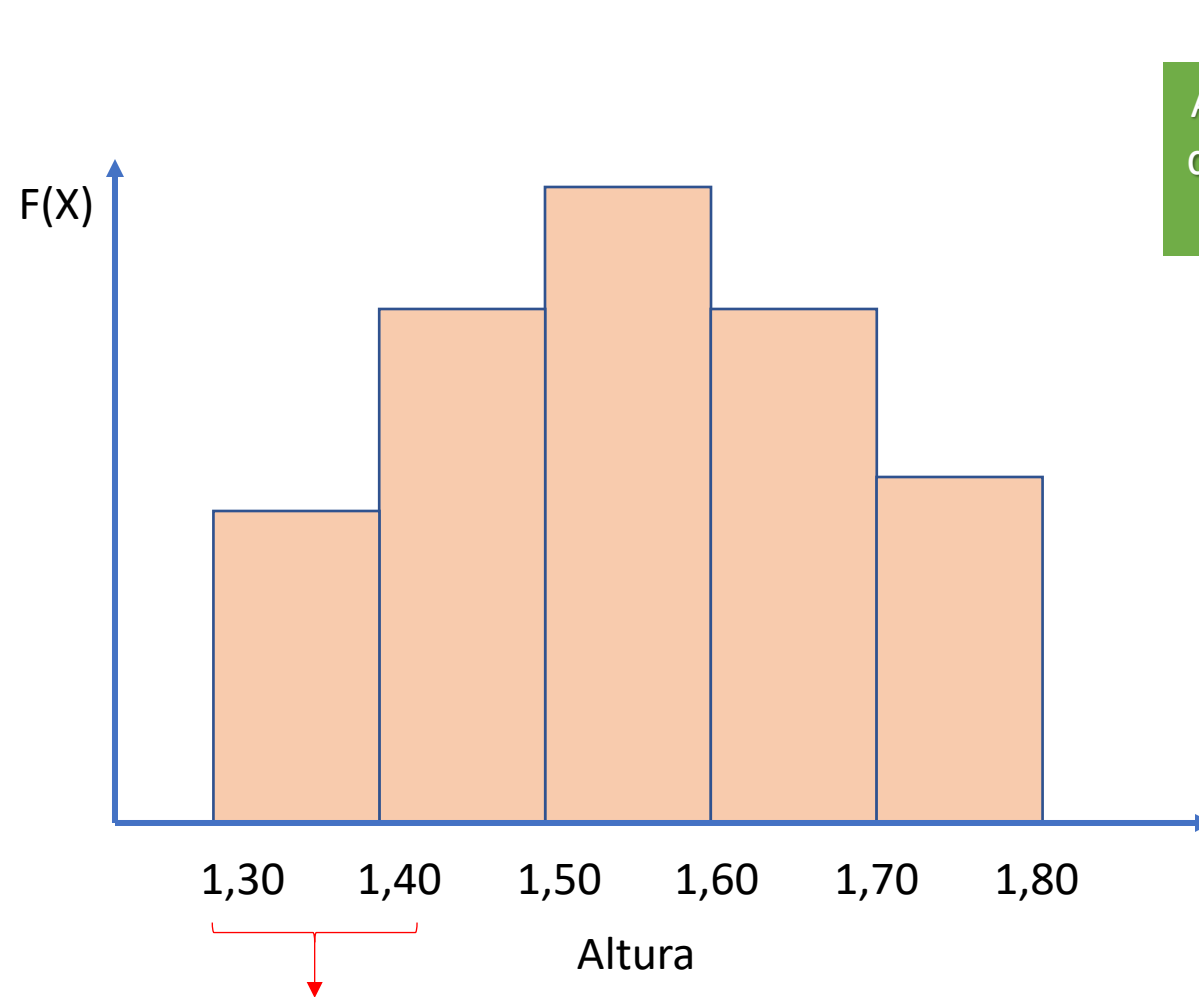
Intervalo de valores de 10cm\*

Curva normal

Altura da população de cientistas de dados pertencentes ao gênero feminino

Qual intervalo de valores eu espero que seja o mais frequente em minha população?

# Medidas de tendência central



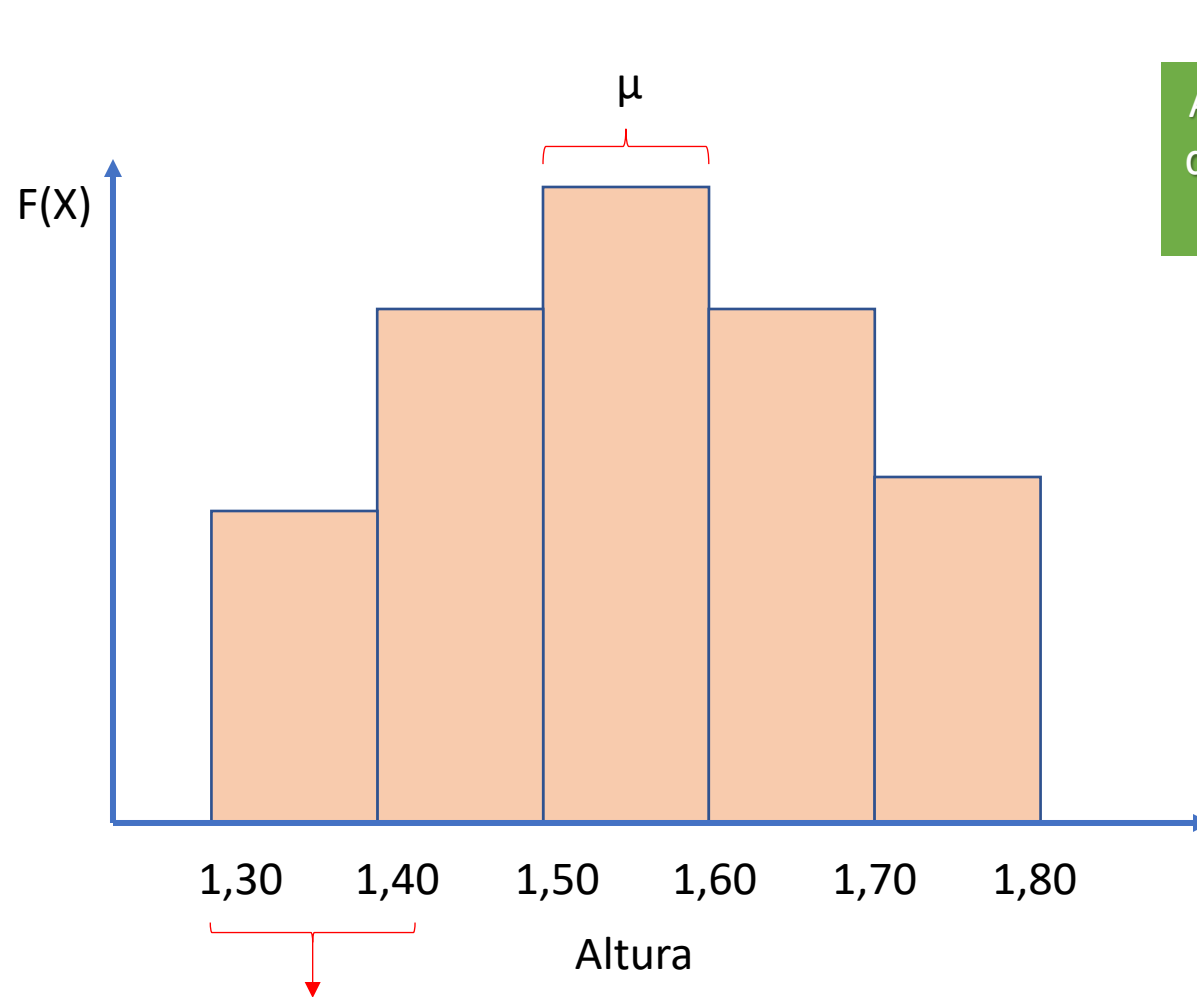
Curva normal

Altura da população de cientistas de dados pertencentes ao gênero feminino

Qual intervalo de valores eu espero que seja o mais frequente em minha população?

Intervalo de valores de 10cm\*

# Medidas de tendência central



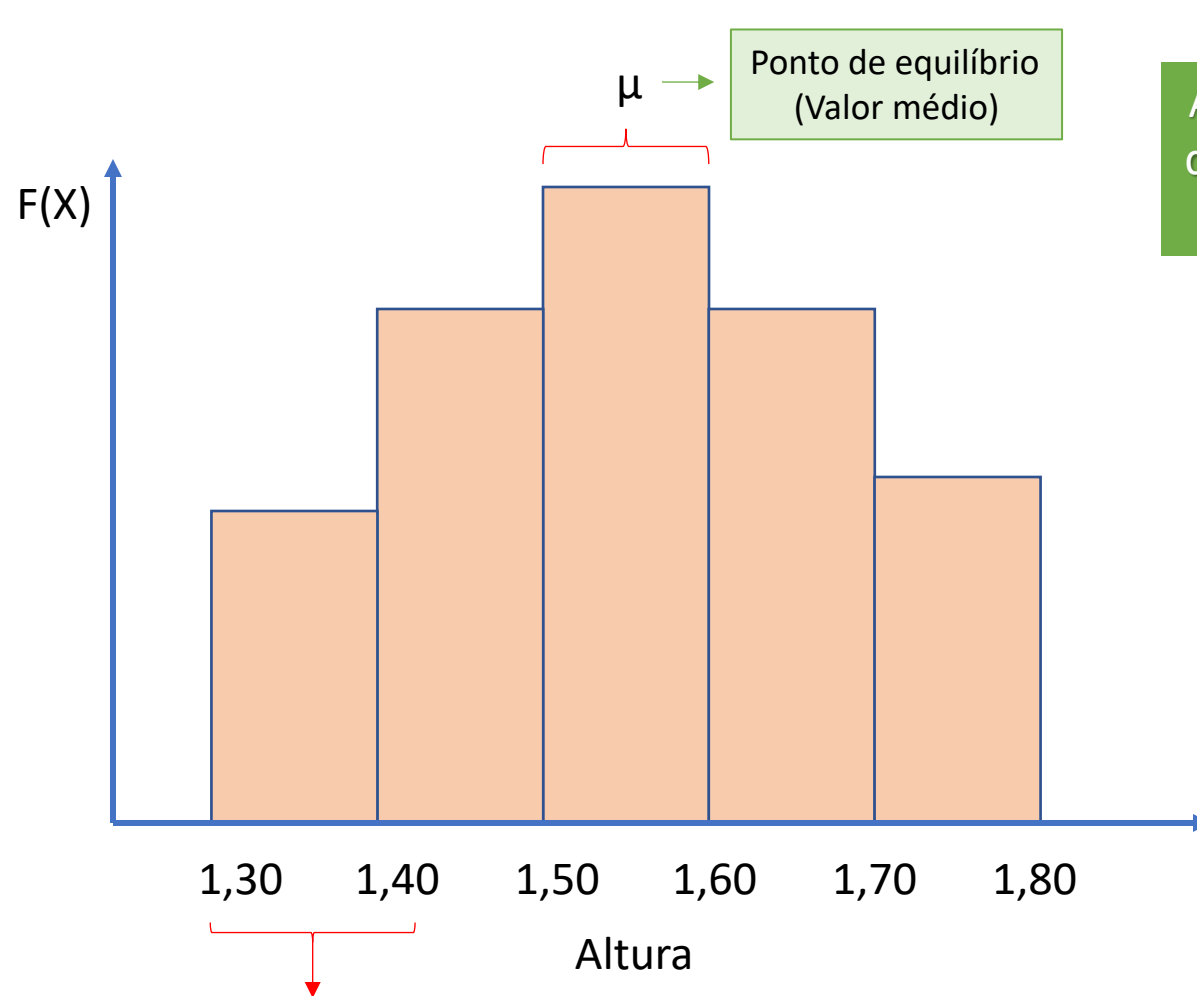
Intervalo de valores de 10cm\*

Curva normal

Altura da população de cientistas de dados pertencentes ao gênero feminino

Qual intervalo de valores eu espero que seja o mais frequente em minha população?

# Medidas de tendência central



Intervalo de valores de 10cm\*

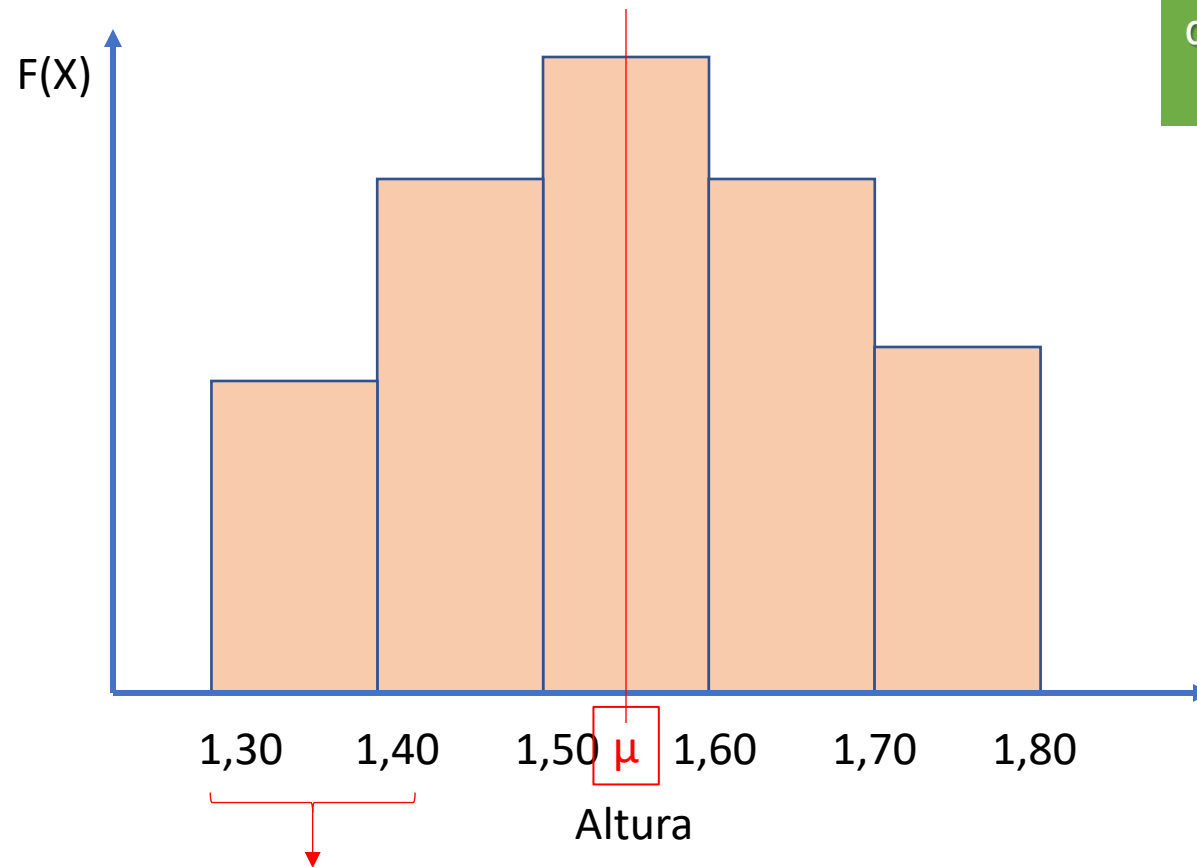
Curva normal

Altura da população de cientistas de dados pertencentes ao gênero feminino

Qual intervalo de valores eu espero que seja o mais frequente em minha população?



# Medidas de tendência central



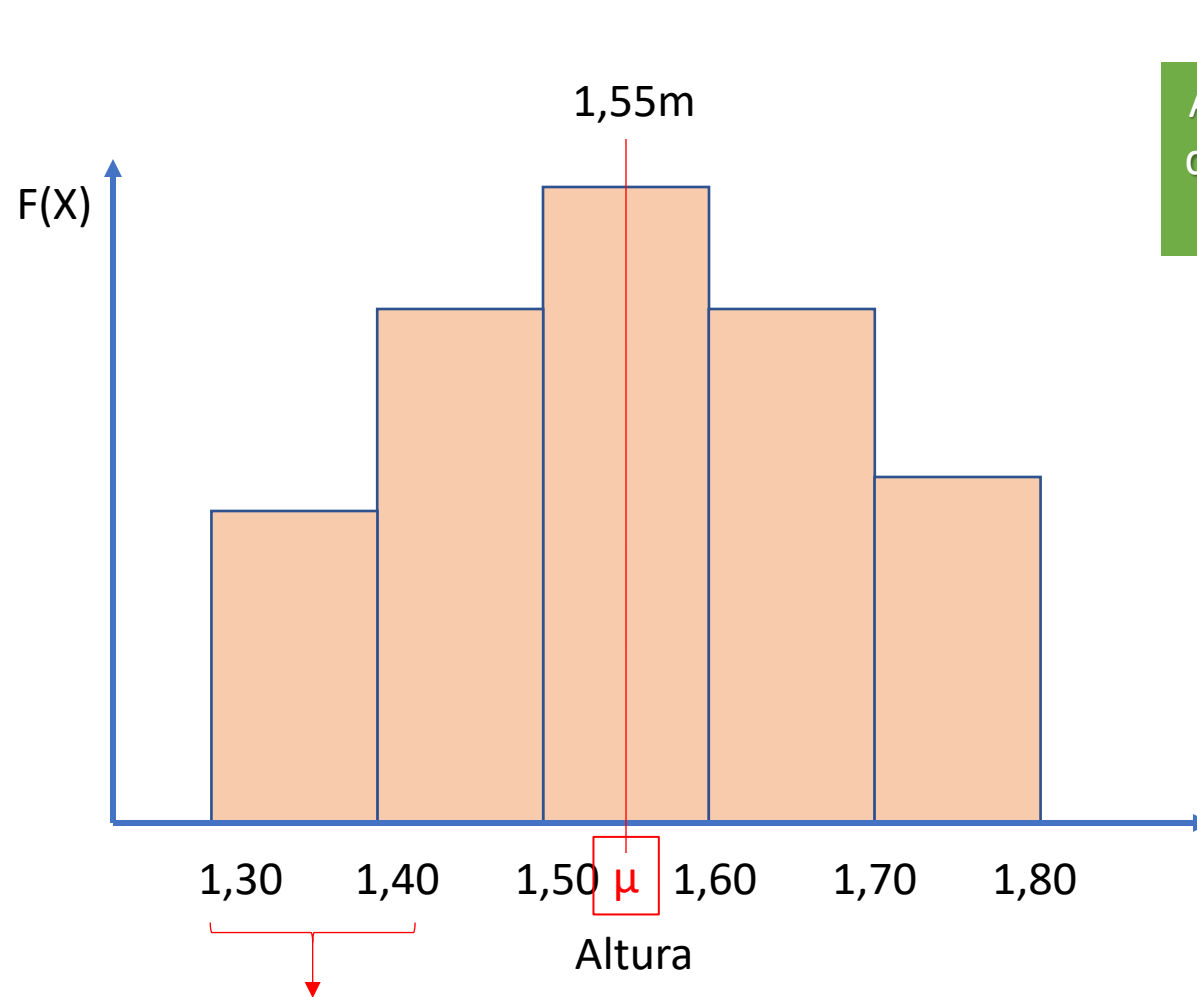
Intervalo de valores de 10cm\*

Curva normal

Altura da população de cientistas de dados pertencentes ao gênero feminino

Qual intervalo de valores eu espero que seja o mais frequente em minha população?

# Medidas de tendência central



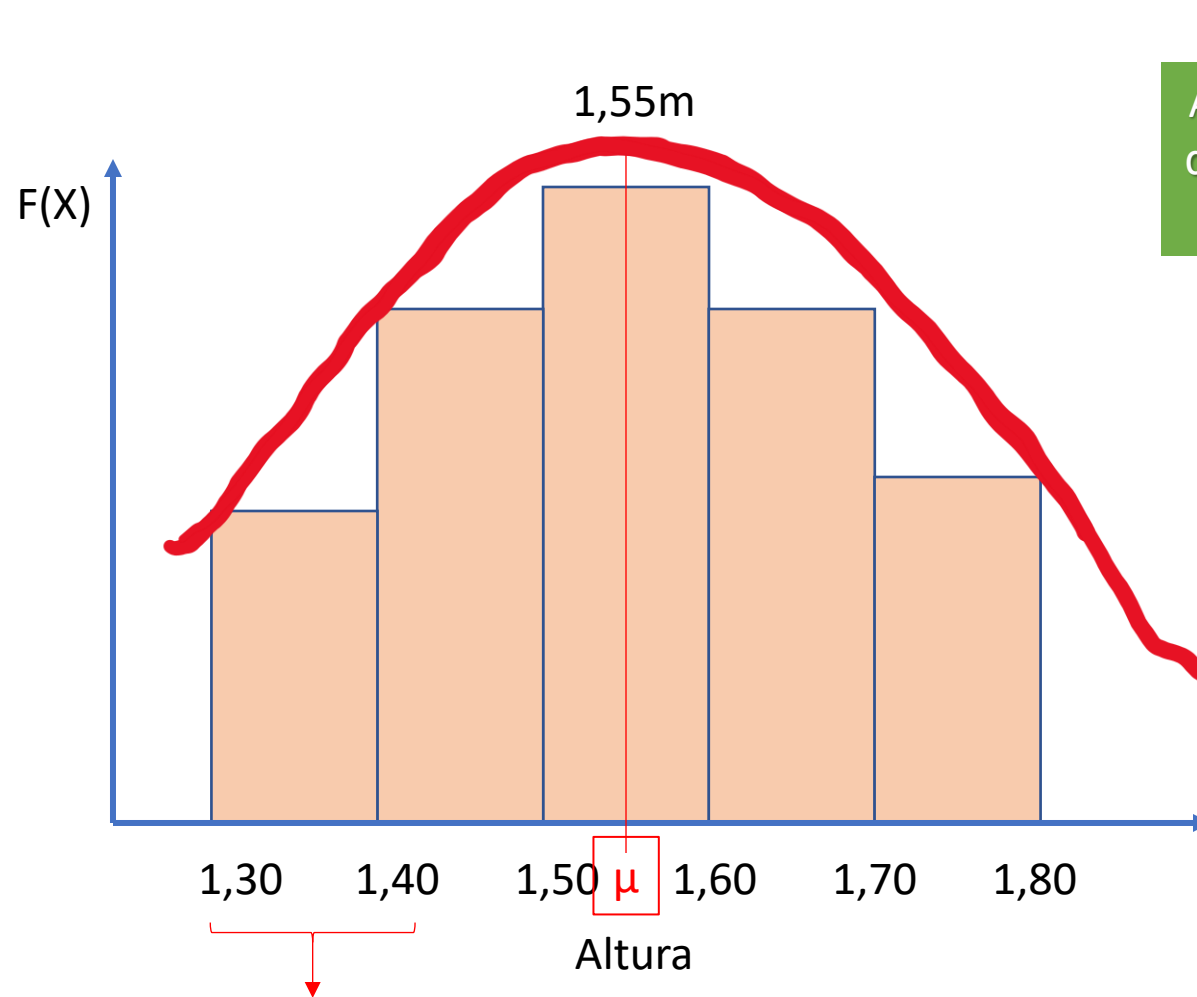
Curva normal

Altura da população de cientistas de dados pertencentes ao gênero feminino

Qual intervalo de valores eu espero que seja o mais frequente em minha população?

Intervalo de valores de 10cm\*

# Medidas de tendência central



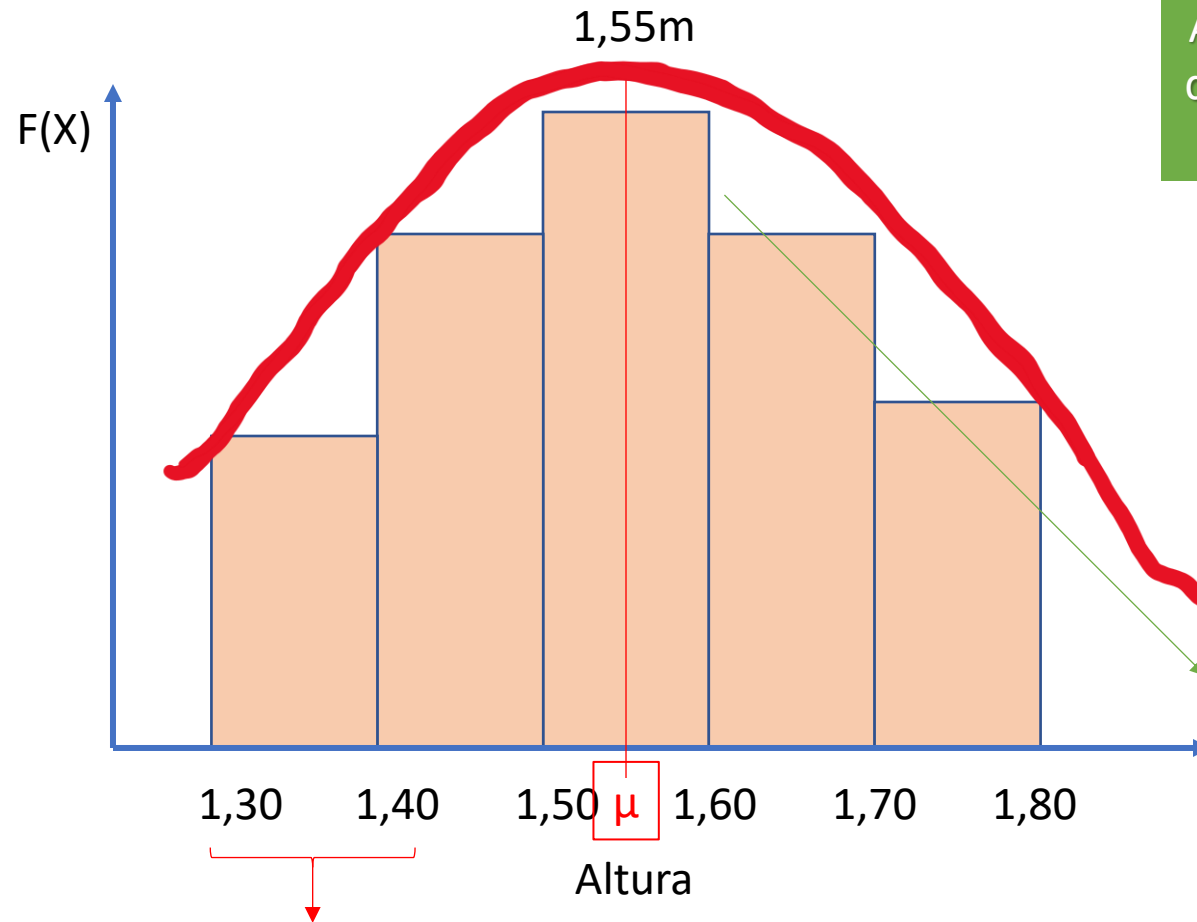
Curva normal

Altura da população de cientistas de dados pertencentes ao gênero feminino

Qual intervalo de valores eu espero que seja o mais frequente em minha população?

Intervalo de valores de 10cm\*

# Medidas de tendência central

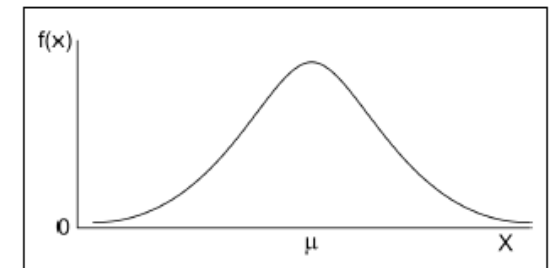


Intervalo de valores de 10cm\*

Curva normal

Altura da população de cientistas de dados pertencentes ao gênero feminino

Qual intervalo de valores eu espero que seja o mais frequente em minha população?



# Medidas de tendência central

## Média aritmética

$$\bar{x} = \frac{\sum x}{n}$$

$\sum x$ : Soma de todos os valores de  $x$ .

$n$ : número de unidades amostrais, ou número de amostras  $x$

# Medidas de tendência central

## Média aritmética

$$\bar{x} = \frac{\sum x}{n}$$

$\sum x$ : Soma de todos os valores de  $x$ .

$n$ : número de unidades amostrais, ou número de amostras  $x$

Exercício: Amostramos a altura de 15 mulheres do GECD, sendo o rol de valores o seguinte:  $x = \{1.46, 1.67, 1.92, 1.79, 1.43, 1.60, 2.16, 1.66, 2.14, 1.84, 1.37, 1.7, 1.82, 1.58, 1.74\}$ . Qual é a média de altura dessas mulheres?

# Medidas de tendência central

Exercício: Amostramos a altura de 15 mulheres do GECD, sendo o rol de valores o seguinte:  $x = \{1.46, 1.67, 1.92, 1.79, 1.43, 1.60, 2.16, 1.66, 2.14, 1.84, 1.37, 1.7, 1.82, 1.58, 1.74\}$ . Qual é a média de altura dessas mulheres?

$$\bar{x} = \frac{\sum x}{n} = \frac{1.46+1.67+1.92+1.79+1.43+1.60+2.16+1.66+2.14+1.84+1.37+1.7+1.82+1.58+1.74}{15}$$

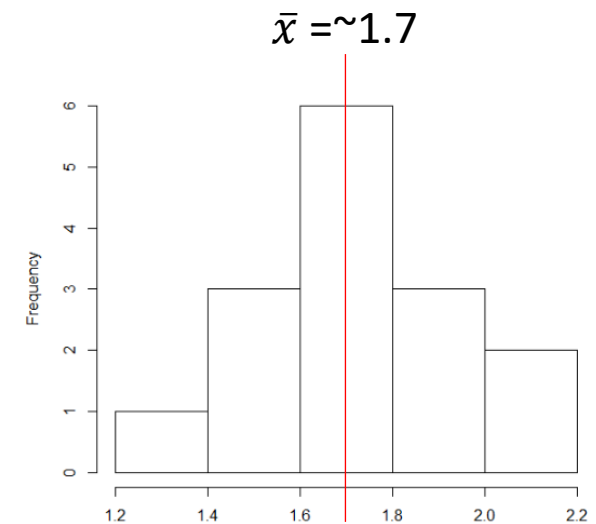
$$\bar{x} = 1.73\text{m}$$

# Medidas de tendência central

Exercício: Amostramos a altura de 15 mulheres do GECD, sendo o rol de valores o seguinte:  $x = \{1.46, 1.67, 1.92, 1.79, 1.43, 1.60, 2.16, 1.66, 2.14, 1.84, 1.37, 1.7, 1.82, 1.58, 1.74\}$ . Qual é a média de altura dessas mulheres?

$$\bar{x} = \frac{\sum x}{n} = \frac{1.46+1.67+1.92+1.79+1.43+1.60+2.16+1.66+2.14+1.84+1.37+1.7+1.82+1.58+1.74}{15}$$

$$\bar{x} = 1.73\text{m}$$





# Medidas de tendência central

## **Média aritmética**

- Medida de tendência central mais utilizada por ser fácil de calcular e possuir uma interpretação familiar.
- Propriedades que a torna útil no momento de comparar populações ou amostras.
- Ela representa o valor “provável” de uma variável, por isso, é muitas vezes chamada de valor esperado, ou esperança, quando calculada para a população:  $E(X)$ .
- Usamos o símbolo ‘ $\mu$ ’ (letra m do alfabeto grego; leia-se mü) quando nos referimos a média populacional e  $\bar{x}$  para a média amostral.

# Medidas de tendência central

**Existem outros tipos de Médias também!**

- Média ponderada.
- Média geométrica.
- Média para dados agrupados por intervalos de classe.
- Etc.

**Vou enviar material sobre essas médias  
para que vocês estudem em casa (:**



# Medidas de tendência central

## Mediana

- A mediana ( $md$ ) é o valor de  $x$ , em uma série ordenada de dados, que divide a série em dois subgrupos de igual tamanho.
- Em outras palavras, é um valor tal que tenha igual quantidade de valores menores e maiores que ele.
- **!!** Um valor importante é que ela não é afetada pelos valores extremos da série como a média **!!** (explico melhor depois).
- $Md = \frac{n+1}{2}$

Seguindo com o nosso exemplo de antes!

# Medidas de tendência central

Exercício: Amostramos a altura de 15 mulheres do GECD, sendo o rol de valores o seguinte:  $x = \{1.46, 1.67, 1.92, 1.79, 1.43, 1.60, 2.16, 1.66, 2.14, 1.84, 1.37, 1.7, 1.82, 1.58, 1.74\}$ . Qual é a mediana de altura dessas mulheres?

O primeiro passo para calcular a mediana é organizar o nosso rol de dados em ordem crescente:

Rol original:

$x = \{1.46, 1.67, 1.92, 1.79, 1.43, 1.60, 2.16, 1.66, 2.14, 1.84, 1.37, 1.70, 1.82, 1.58, 1.74\}$

Qual é o menor valor?

# Medidas de tendência central

Exercício: Amostramos a altura de 15 mulheres do GECD, sendo o rol de valores o seguinte:  $x = \{1.46, 1.67, 1.92, 1.79, 1.43, 1.60, 2.16, 1.66, 2.14, 1.84, 1.37, 1.7, 1.82, 1.58, 1.74\}$ . Qual é a mediana de altura dessas mulheres?

O primeiro passo para calcular a mediana é organizar o nosso rol de dados em ordem crescente:

Rol original:

$x = \{1.46, 1.67, 1.92, 1.79, 1.43, 1.60, 2.16, 1.66, 2.14, 1.84, \mathbf{1.37}, 1.70, 1.82, 1.58, 1.74\}$

Qual é o menor valor?



# Medidas de tendência central

Exercício: Amostramos a altura de 15 mulheres do GECD, sendo o rol de valores o seguinte:  $x = \{1.46, 1.67, 1.92, 1.79, 1.43, 1.60, 2.16, 1.66, 2.14, 1.84, 1.37, 1.7, 1.82, 1.58, 1.74\}$ . Qual é a mediana de altura dessas mulheres?

O primeiro passo para calcular a mediana é organizar o nosso rol de dados em ordem crescente:

Rol original:

$x = \{1.46, 1.67, 1.92, 1.79, 1.43, 1.60, 2.16, 1.66, 2.14, 1.84, \mathbf{1.37}, 1.70, 1.82, 1.58, 1.74\}$

1

Qual é o menor valor?



# Medidas de tendência central

Exercício: Amostramos a altura de 15 mulheres do GECD, sendo o rol de valores o seguinte:  $x = \{1.46, 1.67, 1.92, 1.79, 1.43, 1.60, 2.16, 1.66, 2.14, 1.84, 1.37, 1.7, 1.82, 1.58, 1.74\}$ . Qual é a mediana de altura dessas mulheres?

O primeiro passo para calcular a mediana é organizar o nosso rol de dados em ordem crescente:

Rol original:

1

$x = \{1.46, 1.67, 1.92, 1.79, 1.43, 1.60, 2.16, 1.66, 2.14, 1.84, \mathbf{1.37}, 1.70, 1.82, 1.58, 1.74\}$

Qual é o segundo menor valor?

# Medidas de tendência central

Exercício: Amostramos a altura de 15 mulheres do GECD, sendo o rol de valores o seguinte:  $x = \{1.46, 1.67, 1.92, 1.79, 1.43, 1.60, 2.16, 1.66, 2.14, 1.84, 1.37, 1.7, 1.82, 1.58, 1.74\}$ . Qual é a mediana de altura dessas mulheres?

O primeiro passo para calcular a mediana é organizar o nosso rol de dados em ordem crescente:

Rol original:

$x = \{1.46, 1.67, 1.92, 1.79, \overset{2}{1.43}, 1.60, 2.16, 1.66, 2.14, 1.84, \overset{1}{1.37}, 1.70, 1.82, 1.58, 1.74\}$

Qual é o segundo menor valor?



# Medidas de tendência central

Exercício: Amostramos a altura de 15 mulheres do GECD, sendo o rol de valores o seguinte:  $x = \{1.46, 1.67, 1.92, 1.79, 1.43, 1.60, 2.16, 1.66, 2.14, 1.84, 1.37, 1.7, 1.82, 1.58, 1.74\}$ . Qual é a mediana de altura dessas mulheres?

O primeiro passo para calcular a mediana é organizar o nosso rol de dados em ordem crescente:

Rol original:

$x = \{1.46, 1.67, 1.92, 1.79, \overset{2}{1.43}, 1.60, 2.16, 1.66, 2.14, 1.84, \overset{1}{1.37}, 1.70, 1.82, 1.58, 1.74\}$

Qual é o terceiro menor valor?


# Medidas de tendência central

Exercício: Amostramos a altura de 15 mulheres do GECD, sendo o rol de valores o seguinte:  $x = \{1.46, 1.67, 1.92, 1.79, 1.43, 1.60, 2.16, 1.66, 2.14, 1.84, 1.37, 1.7, 1.82, 1.58, 1.74\}$ . Qual é a mediana de altura dessas mulheres?

O primeiro passo para calcular a mediana é organizar o nosso rol de dados em ordem crescente:

Rol original:

$x = \{1.46, 1.67, 1.92, 1.79, 1.43, 1.60, 2.16, 1.66, 2.14, 1.84, 1.37, 1.70, 1.82, 1.58, 1.74\}$



Qual é o terceiro menor valor?


# Medidas de tendência central

Exercício: Amostramos a altura de 15 mulheres do GECD, sendo o rol de valores o seguinte:  $x = \{1.46, 1.67, 1.92, 1.79, 1.43, 1.60, 2.16, 1.66, 2.14, 1.84, 1.37, 1.7, 1.82, 1.58, 1.74\}$ . Qual é a mediana de altura dessas mulheres?

O primeiro passo para calcular a mediana é organizar o nosso rol de dados em ordem crescente:

Rol original:

$x = \{1.46, 1.67, 1.92, 1.79, 1.43, 1.60, 2.16, 1.66, 2.14, 1.84, 1.37, 1.70, 1.82, 1.58, 1.74\}$



Qual é o terceiro menor valor?

Etc Etc.

# Medidas de tendência central

Exercício: Amostramos a altura de 15 mulheres do GECD, sendo o rol de valores o seguinte:  $x = \{1.46, 1.67, 1.92, 1.79, 1.43, 1.60, 2.16, 1.66, 2.14, 1.84, 1.37, 1.7, 1.82, 1.58, 1.74\}$ . Qual é a mediana de altura dessas mulheres?

O primeiro passo para calcular a mediana é organizar o nosso rol de dados em ordem crescente:

Rol original:

$x = \{1.46, 1.67, 1.92, 1.79, 1.43, 1.60, 2.16, 1.66, 2.14, 1.84, 1.37, 1.70, 1.82, 1.58, 1.74\}$



Rol ordenado:

$x = \{1.37, 1.43, 1.46, 1.58, 1.60, 1.66, 1.67, 1.70, 1.74, 1.79, 1.82, 1.84, 1.92, 2.14, 2.16\}$

# Medidas de tendência central

Exercício: Amostramos a altura de 15 mulheres do GECD, sendo o rol de valores o seguinte:  $x = \{1.46, 1.67, 1.92, 1.79, 1.43, 1.60, 2.16, 1.66, 2.14, 1.84, 1.37, 1.7, 1.82, 1.58, 1.74\}$ . Qual é a mediana de altura dessas mulheres?

Rol original:

$x = \{1.46, 1.67, 1.92, 1.79, 1.43, 1.60, 2.16, 1.66, 2.14, 1.84, 1.37, 1.70, 1.82, 1.58, 1.74\}$   
11    5    1    14    6    8    2    12    15    4    13    10    3    9    7



Rol ordenado:

$x = \{1.37, 1.43, 1.46, 1.58, 1.60, 1.66, 1.67, 1.70, 1.74, 1.79, 1.82, 1.84, 1.92, 2.14, 2.16\}$   
1    2    3    4    5    6    7    8    9    10    11    12    13    14    15

# Medidas de tendência central

Exercício: Amostramos a altura de 15 mulheres do GECD, sendo o rol de valores o seguinte:  $x = \{1.46, 1.67, 1.92, 1.79, 1.43, 1.60, 2.16, 1.66, 2.14, 1.84, 1.37, 1.7, 1.82, 1.58, 1.74\}$ . Qual é a mediana de altura dessas mulheres?

Rol original:

$x = \{1.46, 1.67, 1.92, 1.79, 1.43, 1.60, 2.16, 1.66, 2.14, 1.84, 1.37, 1.70, 1.82, 1.58, 1.74\}$   
11    5    1    14    6    8    2    12    15    4    13    10    3    9    7

Qual é o valor no rol que divide a minha série no meio?  
Ou seja, qual é a minha mediana?

Rol ordenado:

$x = \{1.37, 1.43, 1.46, 1.58, 1.60, 1.66, 1.67, 1.70, 1.74, 1.79, 1.82, 1.84, 1.92, 2.14, 2.16\}$   
1    2    3    4    5    6    7    8    9    10    11    12    13    14    15

# Medidas de tendência central

Exercício: Amostramos a altura de 15 mulheres do GECD, sendo o rol de valores o seguinte:  $x = \{1.46, 1.67, 1.92, 1.79, 1.43, 1.60, 2.16, 1.66, 2.14, 1.84, 1.37, 1.7, 1.82, 1.58, 1.74\}$ . Qual é a mediana de altura dessas mulheres?

Rol original:

$x = \{1.46, 1.67, 1.92, 1.79, 1.43, 1.60, 2.16, 1.66, 2.14, 1.84, 1.37, 1.70, 1.82, 1.58, 1.74\}$   
11      5      1      14      6      8      2      12      15      4      13      10      3      9      7

$$Md = \frac{n + 1}{2}$$

Qual é o valor no rol que divide a minha série no meio?  
Ou seja, qual é a minha mediana?

Rol ordenado:

$x = \{1.37, 1.43, 1.46, 1.58, 1.60, 1.66, 1.67, 1.70, 1.74, 1.79, 1.82, 1.84, 1.92, 2.14, 2.16\}$   
1      2      3      4      5      6      7      8      9      10      11      12      13      14      15

# Medidas de tendência central

Exercício: Amostramos a altura de 15 mulheres do GECD, sendo o rol de valores o seguinte:  $x = \{1.46, 1.67, 1.92, 1.79, 1.43, 1.60, 2.16, 1.66, 2.14, 1.84, 1.37, 1.7, 1.82, 1.58, 1.74\}$ . Qual é a mediana de altura dessas mulheres?

Rol original:

$x = \{1.46, 1.67, 1.92, 1.79, 1.43, 1.60, 2.16, 1.66, 2.14, 1.84, 1.37, 1.70, 1.82, 1.58, 1.74\}$   
11      5      1      14      6      8      2      12      15      4      13      10      3      9      7

$$Md = \frac{n+1}{2} = \frac{15+1}{2} = 8$$

Qual é o valor no rol que divide a minha série no meio?  
Ou seja, qual é a minha mediana?

Rol ordenado:

$x = \{1.37, 1.43, 1.46, 1.58, 1.60, 1.66, 1.67, 1.70, 1.74, 1.79, 1.82, 1.84, 1.92, 2.14, 2.16\}$   
1      2      3      4      5      6      7      8      9      10      11      12      13      14      15



# Medidas de tendência central

Exercício: Amostramos a altura de 15 mulheres do GECD, sendo o rol de valores o seguinte:  $x = \{1.46, 1.67, 1.92, 1.79, 1.43, 1.60, 2.16, 1.66, 2.14, 1.84, 1.37, 1.7, 1.82, 1.58, 1.74\}$ . Qual é a mediana de altura dessas mulheres?

Rol original:

$x = \{1.46, 1.67, 1.92, 1.79, 1.43, 1.60, 2.16, 1.66, 2.14, 1.84, 1.37, 1.70, 1.82, 1.58, 1.74\}$   
11      5      1      14      6      8      2      12      15      4      13      10      3      9      7

$$Md = \frac{n+1}{2} = \frac{15+1}{2} = 8$$

Qual é o valor no rol que divide a minha série no meio?  
Ou seja, qual é a minha mediana?

Rol ordenado:

$x = \{1.37, 1.43, 1.46, 1.58, 1.60, 1.66, 1.67, 1.70, 1.74, 1.79, 1.82, 1.84, 1.92, 2.14, 2.16\}$   
1      2      3      4      5      6      7      8      9      10      11      12      13      14      15  
Md

# Medidas de tendência central

Exercício: Amostramos a altura de 15 mulheres do GECD, sendo o rol de valores o seguinte:  $x = \{1.46, 1.67, 1.92, 1.79, 1.43, 1.60, 2.16, 1.66, 2.14, 1.84, 1.37, 1.7, 1.82, 1.58, 1.74\}$ . Qual é a mediana de altura dessas mulheres?

Rol original:

$x = \{1.46, 1.67, 1.92, 1.79, 1.43, 1.60, 2.16, 1.66, 2.14, 1.84, 1.37, 1.70, 1.82, 1.58, 1.74\}$   
11      5      1      14      6      8      2      12      15      4      13      10      3      9      7

$$Md = \frac{n+1}{2} = \frac{15+1}{2} = 8$$

Qual é o valor no rol que divide a minha série no meio?  
Ou seja, qual é a minha mediana?

Rol ordenado:

$x = \{1.37, 1.43, 1.46, 1.58, 1.60, 1.66, 1.67, 1.70, 1.74, 1.79, 1.82, 1.84, 1.92, 2.14, 2.16\}$   
1      2      3      4      5      6      7      8      9      10      11      12      13      14      15  
Md

# Medidas de tendência central

Exercício: Amostramos a altura de 15 mulheres do GECD, sendo o rol de valores o seguinte:  $x = \{1.46, 1.67, 1.92, 1.79, 1.43, 1.60, 2.16, 1.66, 2.14, 1.84, 1.37, 1.7, 1.82, 1.58, 1.74\}$ . Qual é a mediana de altura dessas mulheres?

Rol original:

$x = \{1.46, 1.67, 1.92, 1.79, 1.43, 1.60, 2.16, 1.66, 2.14, 1.84, 1.37, 1.70, 1.82, 1.58, 1.74\}$   
11      5      1      14      6      8      2      12      15      4      13      10      3      9      7

$$Md = \frac{n+1}{2} = \frac{15+1}{2} = 8$$

Qual é o valor no rol que divide a minha série no meio?  
Ou seja, qual é a minha mediana?

Rol ordenado:

7 valores para trás      7 valores para frente  
 $x = \{1.37, 1.43, 1.46, 1.58, 1.60, 1.66, 1.67, 1.70, 1.74, 1.79, 1.82, 1.84, 1.92, 2.14, 2.16\}$   
1      2      3      4      5      6      7      8      9      10      11      12      13      14      15  
Md

# Medidas de tendência central

**Mas e se o meu ROL de dados fosse um número par, e não impar?**

Rol ordenado:

$x = \{1.37, 1.43, 1.46, 1.58, 1.60, 1.66, 1.67, 1.70, 1.74, 1.79, 1.82, 1.84, 1.92, 2.14\}$

1      2      3      4      5      6      7      8      9      10      11      12      13      14

# Medidas de tendência central

**Mas e se o meu ROL de dados fosse um número par, e não ímpar?**

Rol ordenado:

$x = \{1.37, 1.43, 1.46, 1.58, 1.60, 1.66, 1.67, 1.70, 1.74, 1.79, 1.82, 1.84, 1.92, 2.14\}$

1

2

3

4

5

6

7

8

9

10

11

12

13

14

$n=14$

# Medidas de tendência central

**Mas e se o meu ROL de dados fosse um número par, e não ímpar?**

Rol ordenado:

$x = \{1.37, 1.43, 1.46, 1.58, 1.60, 1.66, 1.67, 1.70, 1.74, 1.79, 1.82, 1.84, 1.92, 2.14\}$

1

2

3

4

5

6

7

8

9

10

11

12

13

14

**n=14**

$$Md = \frac{n + 1}{2} =$$

# Medidas de tendência central

**Mas e se o meu ROL de dados fosse um número par, e não ímpar?**

Rol ordenado:

$x = \{1.37, 1.43, 1.46, 1.58, 1.60, 1.66, 1.67, 1.70, 1.74, 1.79, 1.82, 1.84, 1.92, 2.14\}$

1      2      3      4      5      6      7      8      9      10      11      12      13      14

**n=14**

$$Md = \frac{n + 1}{2} =$$

*(Handwritten orange annotations: 'n' is circled, '14' is written above the plus sign, and an arrow points from '14' to the plus sign)*



# Medidas de tendência central

**Mas e se o meu ROL de dados fosse um número par, e não ímpar?**

Rol ordenado:

$x = \{1.37, 1.43, 1.46, 1.58, 1.60, 1.66, 1.67, 1.70, 1.74, 1.79, 1.82, 1.84, 1.92, 2.14\}$

1      2      3      4      5      6      7      8      9      10      11      12      13      14

**n=14**

$$Md = \frac{n+1}{2} = \frac{14+1}{2} = 7,5$$



# Medidas de tendência central

**Mas e se o meu ROL de dados fosse um número par, e não ímpar?**

Rol ordenado:

$x = \{1.37, 1.43, 1.46, 1.58, 1.60, 1.66, 1.67, 1.70, 1.74, 1.79, 1.82, 1.84, 1.92, 2.14\}$

1      2      3      4      5      6      7      8      9      10      11      12      13      14

7,5

$$Md = \frac{n+1}{2} = \frac{14+1}{2} = 7,5$$

**n=14**

# Medidas de tendência central

**Mas e se o meu ROL de dados fosse um número par, e não impar?**

Rol ordenado:

$x = \{1.37, 1.43, 1.46, 1.58, 1.60, 1.66, 1.67, 1.70, 1.74, 1.79, 1.82, 1.84, 1.92, 2.14\}$

1      2      3      4      5      6      7      8      9      10      11      12      13      14

7,5

Média dos valores em 7 e 8!  
Ou seja,  $(1.67+1.70)/2 = \mathbf{1.69m}$

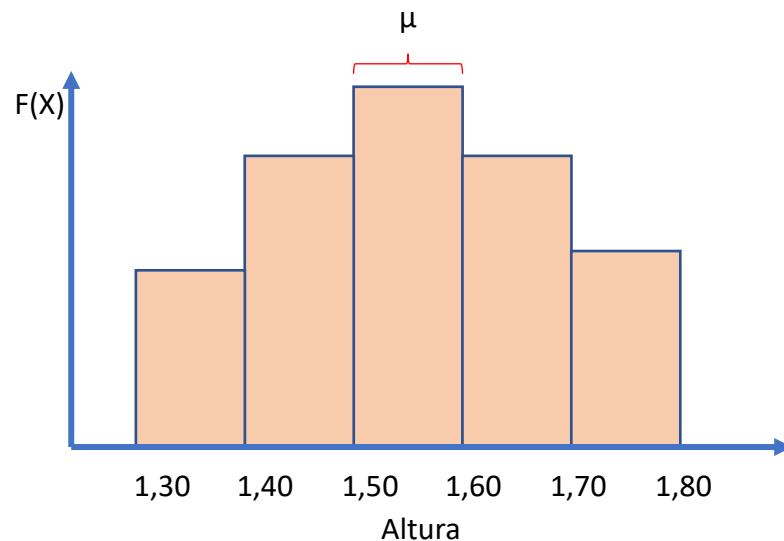
$$Md = \frac{n+1}{2} = \frac{14+1}{2} = 7,5$$

**n=14**

# Medidas de tendência central

## Mediana

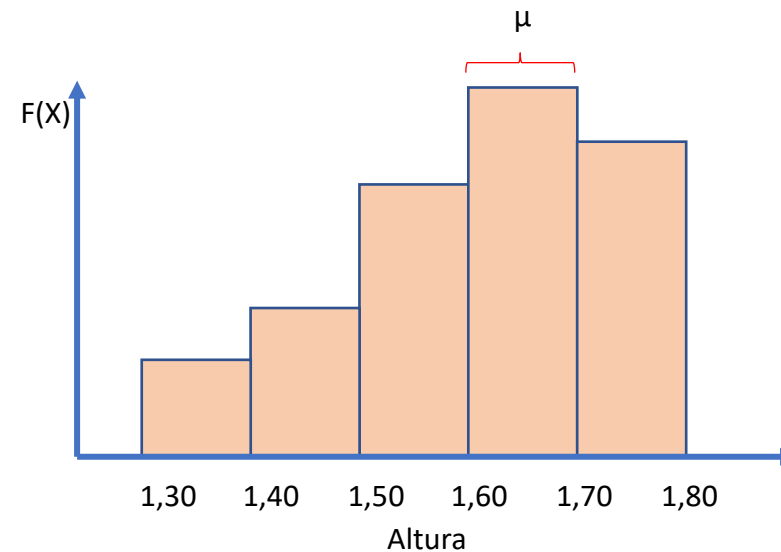
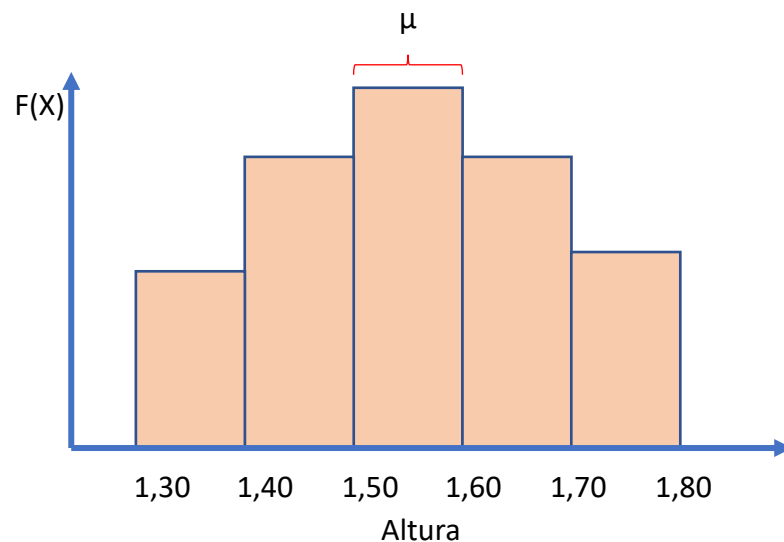
A mediana é uma medida de tendência central útil para descrever dados que se distribuem de maneira assimétrica; ou seja, quando os dados não se distribuem normalmente.



# Medidas de tendência central

## Mediana

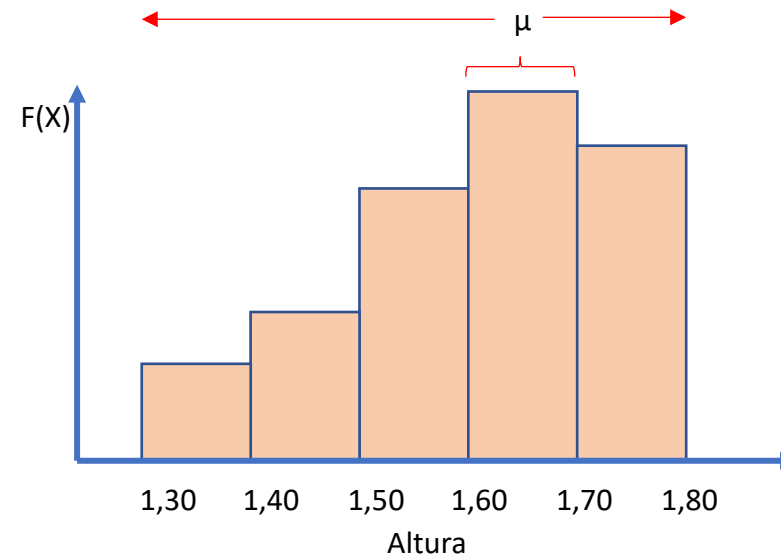
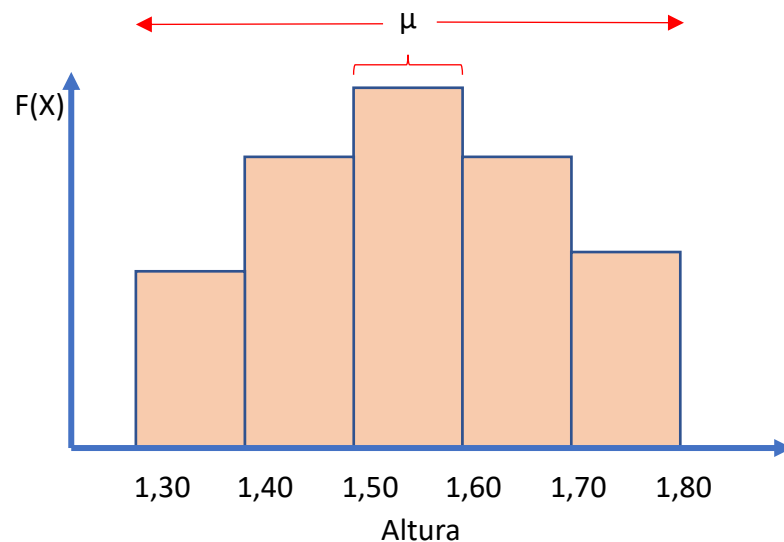
A mediana é uma medida de tendência central útil para descrever dados que se distribuem de maneira assimétrica; ou seja, quando os dados não se distribuem normalmente.



# Medidas de tendência central

## Mediana

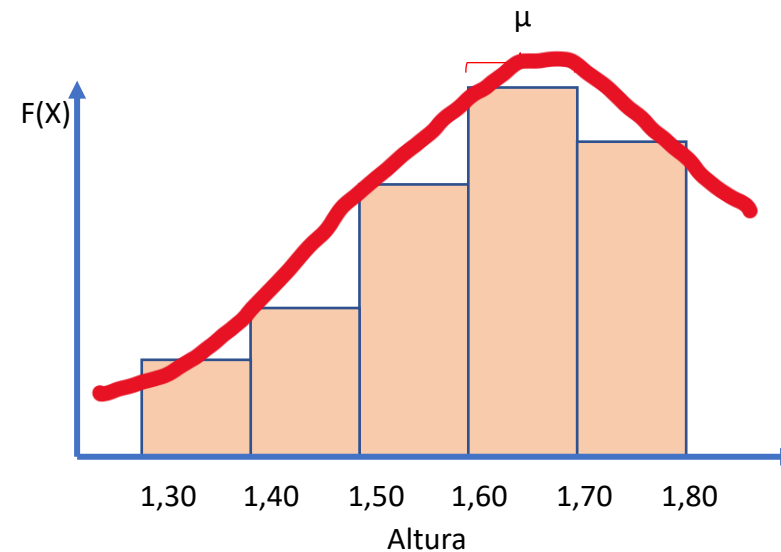
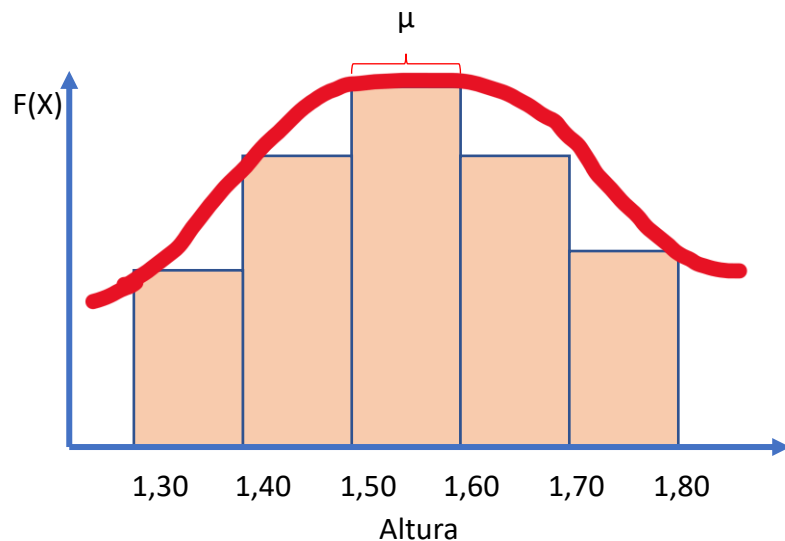
A mediana é uma medida de tendência central útil para descrever dados que se distribuem de maneira assimétrica; ou seja, quando os dados não se distribuem normalmente.



# Medidas de tendência central

## Mediana

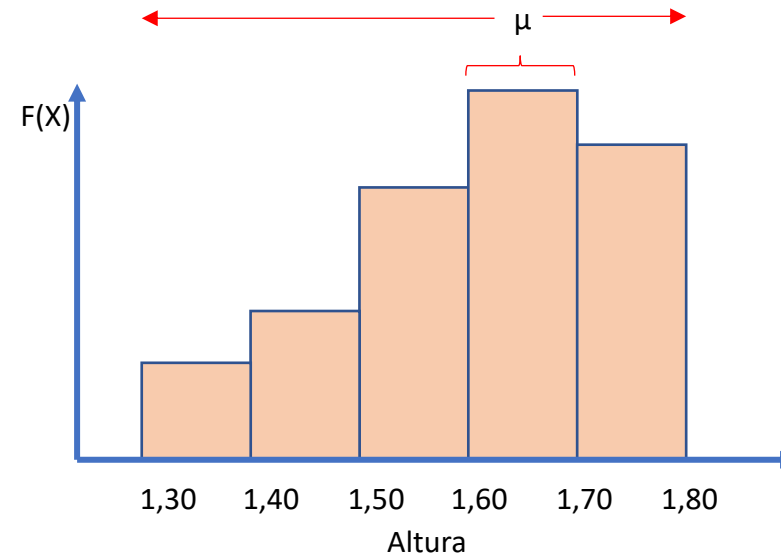
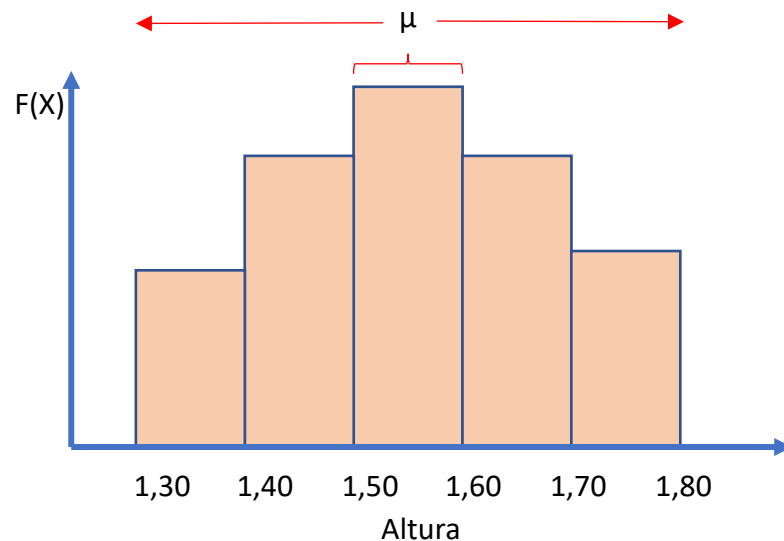
A mediana é uma medida de tendência central útil para descrever dados que se distribuem de maneira assimétrica; ou seja, quando os dados não se distribuem normalmente.



# Medidas de tendência central

## Mediana

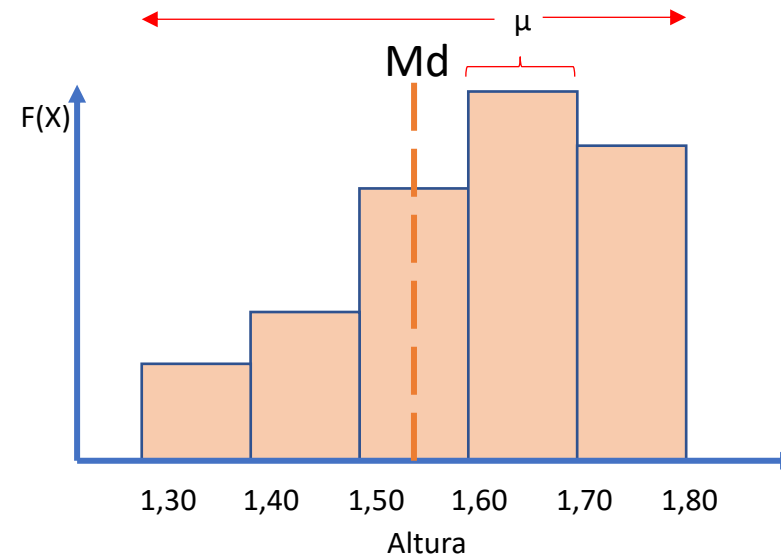
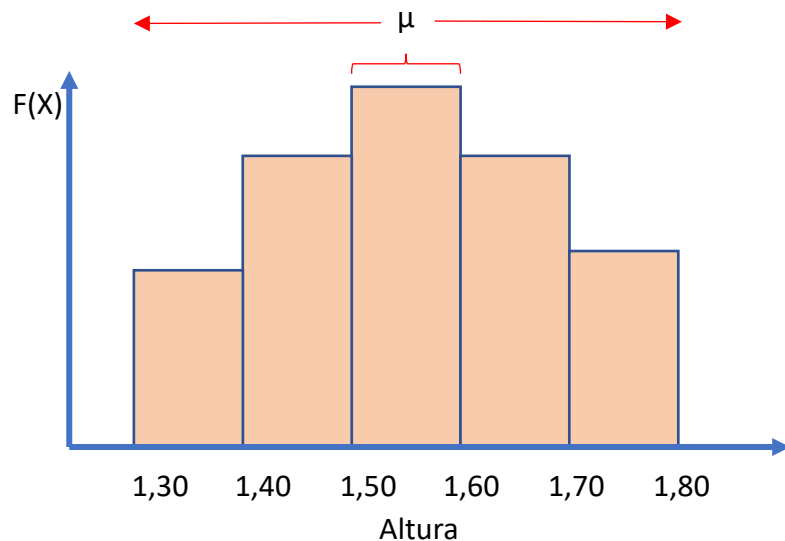
A mediana é uma medida de tendência central útil para descrever dados que se distribuem de maneira assimétrica; ou seja, quando os dados não se distribuem normalmente.



# Medidas de tendência central

## Mediana

A mediana é uma medida de tendência central útil para descrever dados que se distribuem de maneira assimétrica; ou seja, quando os dados não se distribuem normalmente.

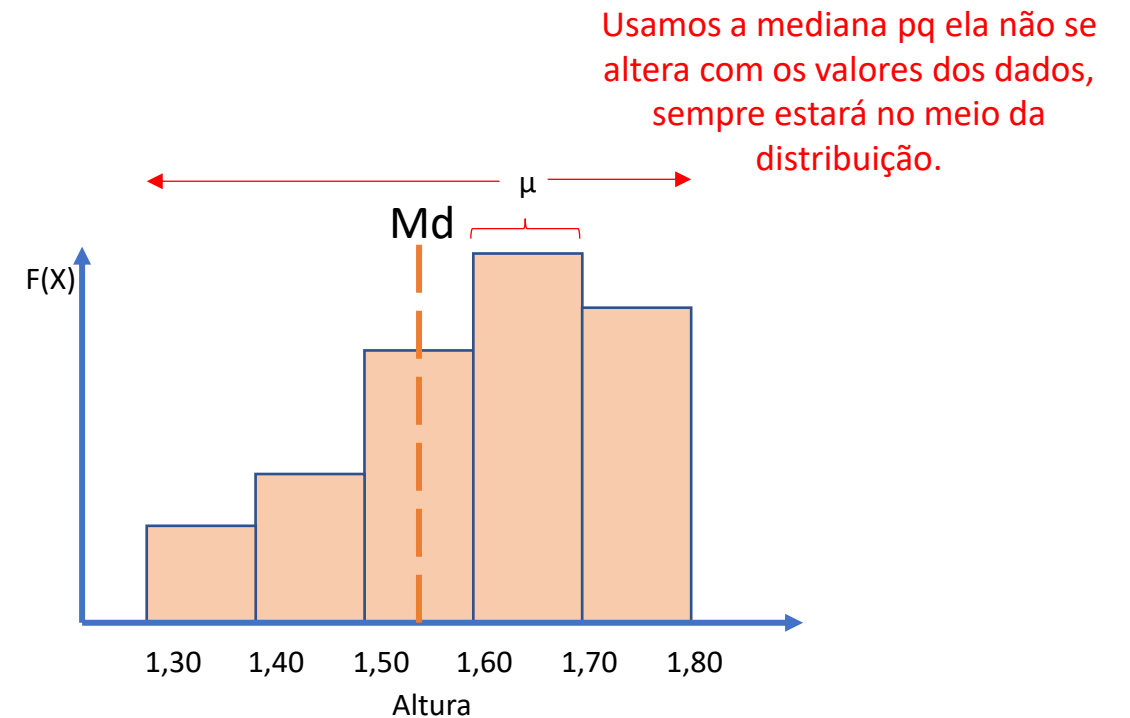
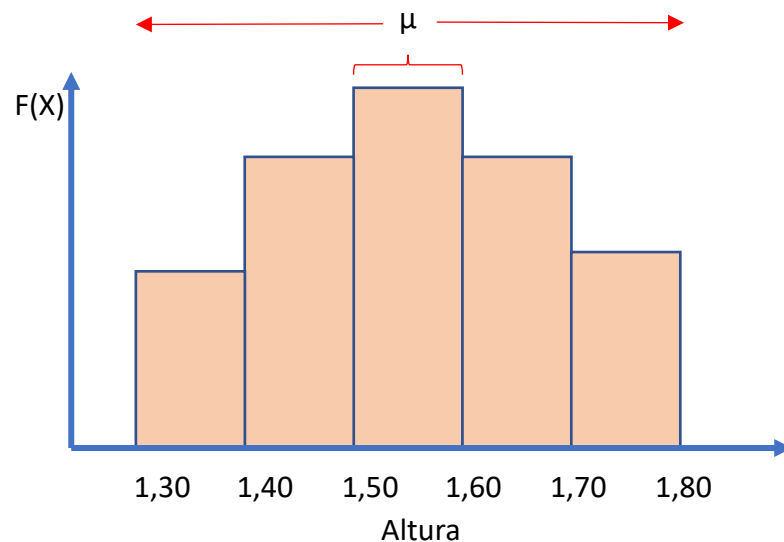




# Medidas de tendência central

## Mediana

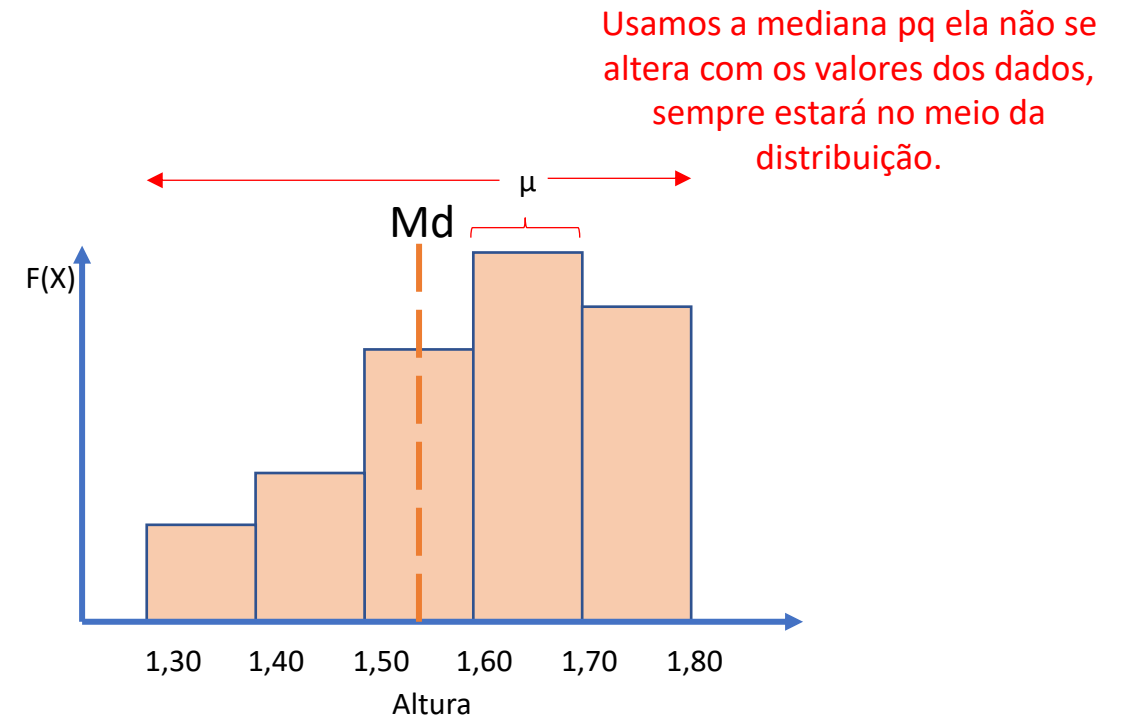
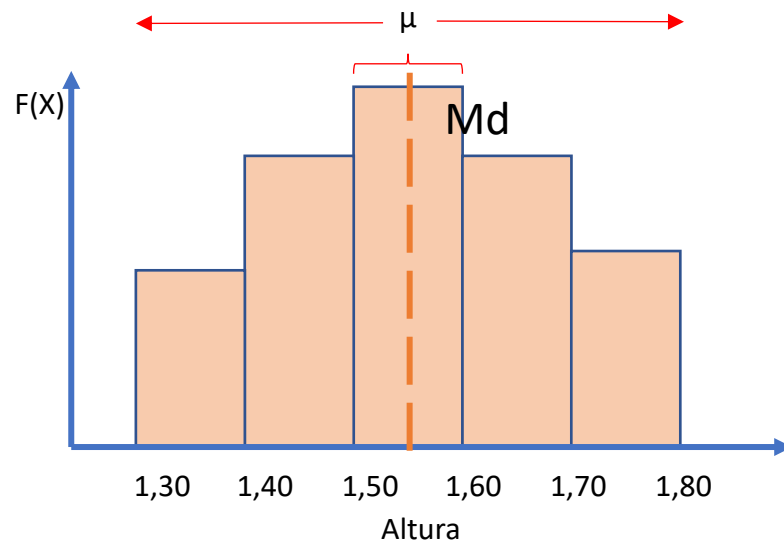
A mediana é uma medida de tendência central útil para descrever dados que se distribuem de maneira assimétrica; ou seja, quando os dados não se distribuem normalmente.



# Medidas de tendência central

## Mediana

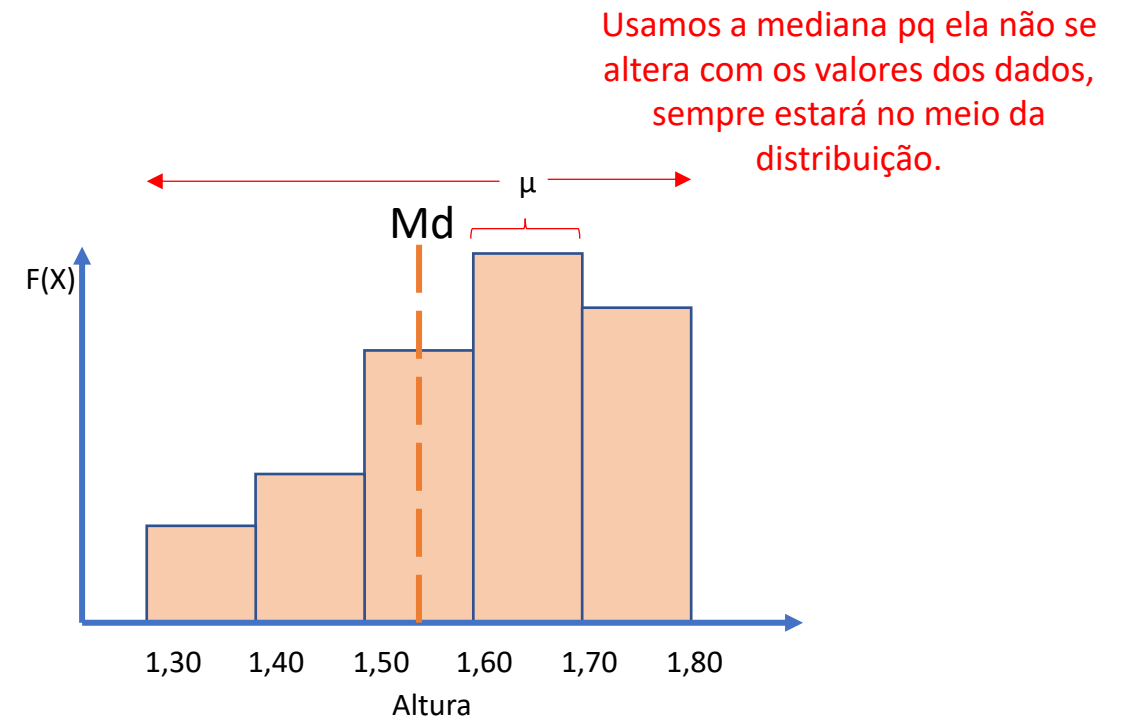
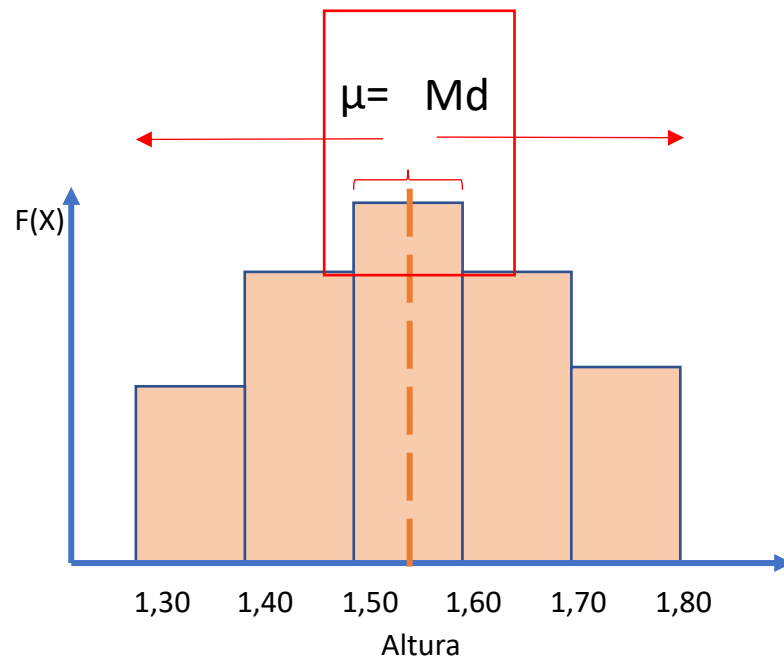
A mediana é uma medida de tendência central útil para descrever dados que se distribuem de maneira assimétrica; ou seja, quando os dados não se distribuem normalmente.



# Medidas de tendência central

## Mediana

A mediana é uma medida de tendência central útil para descrever dados que se distribuem de maneira assimétrica; ou seja, quando os dados não se distribuem normalmente.



# Medidas de tendência central

## **Moda**

- A moda ( $M_o$ ) é o valor mais frequente de uma série de valores.

# Medidas de tendência central

## **Moda**

- A moda ( $M_o$ ) é o valor mais frequente de uma série de valores.

Rol ordenado:

$x = \{1.37, 1.43, 1.46, 1.58, 1.60, 1.66, 1.67, 1.70, 1.74, 1.79, 1.82, 1.84, 1.92, 2.14\}$

# Medidas de tendência central

## Moda

- A moda ( $M_o$ ) é o valor mais frequente de uma série de valores.

Rol ordenado:

$x = \{1.37, 1.43, 1.46, 1.58, 1.60, 1.66, 1.67, 1.70, 1.74, 1.79, 1.82, 1.84, 1.92, 2.14\}$   
          1      1

# Medidas de tendência central

## Moda

- A moda ( $M_o$ ) é o valor mais frequente de uma série de valores.

Rol ordenado:

$x = \{1.37, 1.43, 1.46, 1.58, 1.60, 1.66, 1.67, 1.70, 1.74, 1.79, 1.82, 1.84, 1.92, 2.14\}$   
          1      1      1

# Medidas de tendência central

## Moda

- A moda ( $M_o$ ) é o valor mais frequente de uma série de valores.

Rol ordenado:

$x = \{1.37, 1.43, 1.46, 1.58, 1.60, 1.66, 1.67, 1.70, 1.74, 1.79, 1.82, 1.84, 1.92, 2.14\}$   
1      1      1      1



# Medidas de tendência central

## Moda

- A moda ( $M_o$ ) é o valor mais frequente de uma série de valores.

Rol ordenado:

$x = \{1.37, 1.43, 1.46, 1.58, 1.60, 1.66, 1.67, 1.70, 1.74, 1.79, 1.82, 1.84, 1.92, 2.14\}$   
1      1      1      1      1

# Medidas de tendência central

## Moda

- A moda ( $M_o$ ) é o valor mais frequente de uma série de valores.

Rol ordenado:

$x = \{1.37, 1.43, 1.46, 1.58, 1.60, 1.66, 1.67, 1.70, 1.74, 1.79, 1.82, 1.84, 1.92, 2.14\}$   
1      1      1      1      1      1

# Medidas de tendência central

## Moda

- A moda ( $M_o$ ) é o valor mais frequente de uma série de valores.

Rol ordenado:

$x = \{1.37, 1.43, 1.46, 1.58, 1.60, 1.66, 1.67, 1.70, 1.74, 1.79, 1.82, 1.84, 1.92, 2.14\}$   
1      1      1      1      1      1      1

# Medidas de tendência central

## Moda

- A moda ( $M_o$ ) é o valor mais frequente de uma série de valores.

Rol ordenado:

$x = \{1.37, 1.43, 1.46, 1.58, 1.60, 1.66, 1.67, 1.70, 1.74, 1.79, 1.82, 1.84, 1.92, 2.14\}$   
1      1      1      1      1      1      1 ....



# Medidas de tendência central

## Moda

- A moda ( $M_o$ ) é o valor mais frequente de uma série de valores.

Rol ordenado:

$x = \{1.37, 1.43, 1.46, 1.58, 1.60, 1.66, 1.67, 1.70, 1.74, 1.79, 1.82, 1.84, 1.92, 2.14\}$   
1      1      1      1      1      1      1      1      1      1      1      1      1

- Não temos um valor modal, todos tem a mesma frequência.

# Medidas de tendência central

## Moda

- A moda (Mo) é o valor mais frequente de uma série de valores.

Rol ordenado:

$x = \{1.37, 1.43, 1.43, 1.43, 1.60, 1.66, 1.67, 1.70, 1.74, 1.79, 1.82, 1.84, 1.92, 2.14\}$

1      1      1      1      1      1      1      1      1      1      1      1      1      1



# Medidas de tendência central

## Moda

- A moda ( $M_o$ ) é o valor mais frequente de uma série de valores.

Rol ordenado:

$x = \{1.37, 1.43, 1.43, 1.43, 1.60, 1.66, 1.67, 1.70, 1.74, 1.79, 1.82, 1.84, 1.92, 2.14\}$

1      1      1      1      1      1      1      1      1      1      1      1      1      1



$$1 + 1 + 1 = 3$$

$$\text{Moda} = 1.43$$



# Medidas de tendência central

## Moda

- A moda ( $M_o$ ) é o valor mais frequente de uma série de valores.

Rol ordenado:

$x = \{1.37, 1.43, 1.43, 1.43, 1.60, 1.66, 1.67, 1.70, 1.74, 1.79, 1.82, 1.84, 1.92, 2.14\}$

1      1      1      1      1      1      1      1      1      1      1      1      1      1



$$1 + 1 + 1 = 3$$

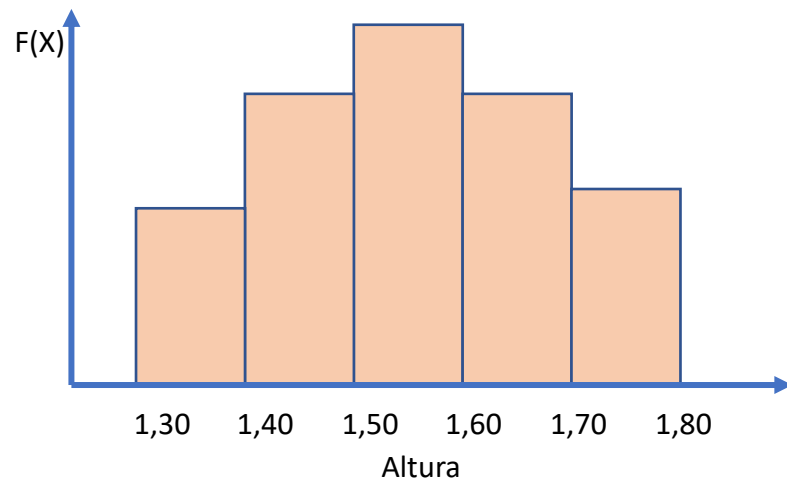
$$\text{Moda} = 1.43$$

Agora temos um valor modal igual a 1.43m

# Medidas de tendência central

## Moda

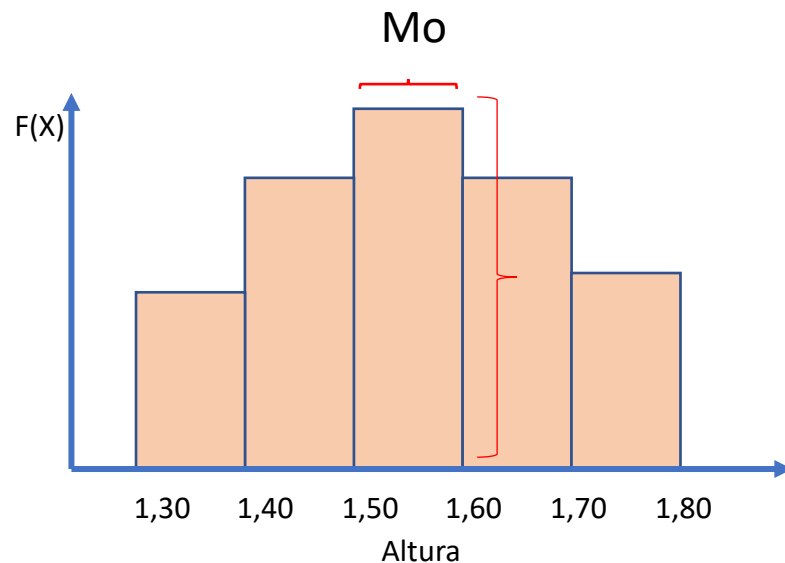
A moda ( $M_o$ ) pode ser usada quando não temos distribuição normal dos dados e/ou quando queremos enfatizar os valores que foram mais frequentes.



# Medidas de tendência central

## Moda

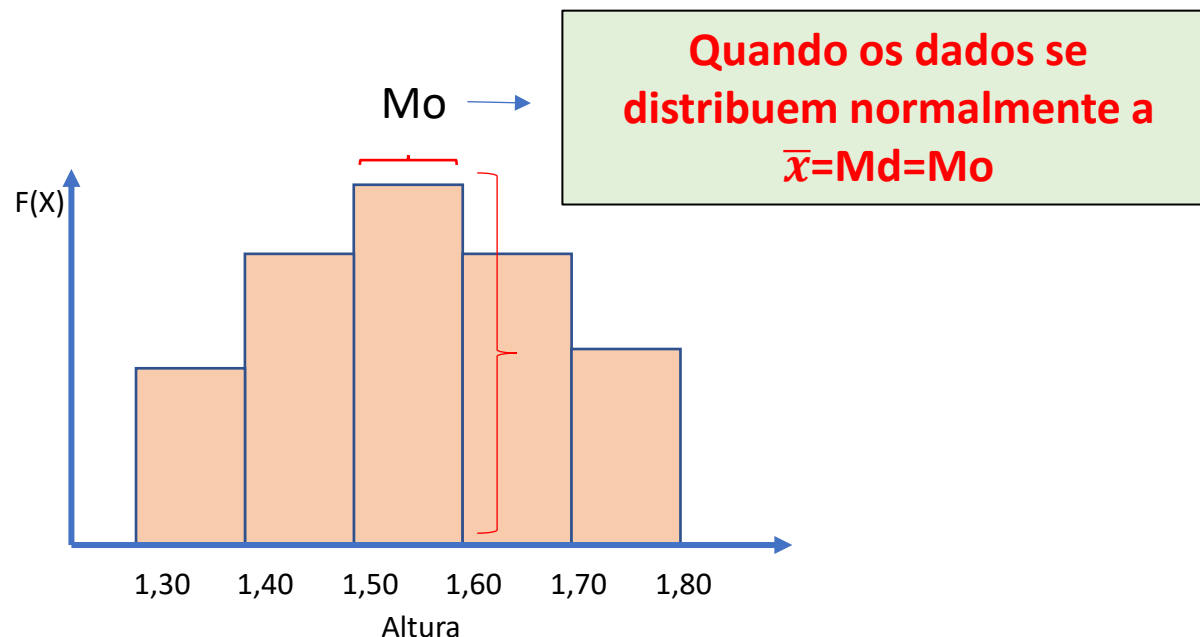
A moda ( $M_o$ ) pode ser usada quando não temos distribuição normal dos dados e/ou quando queremos enfatizar os valores que foram mais frequentes.



# Medidas de tendência central

## Moda

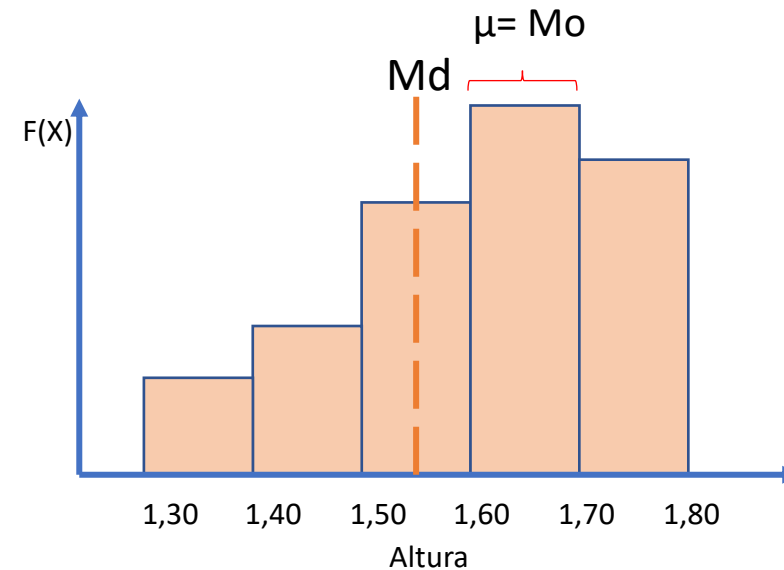
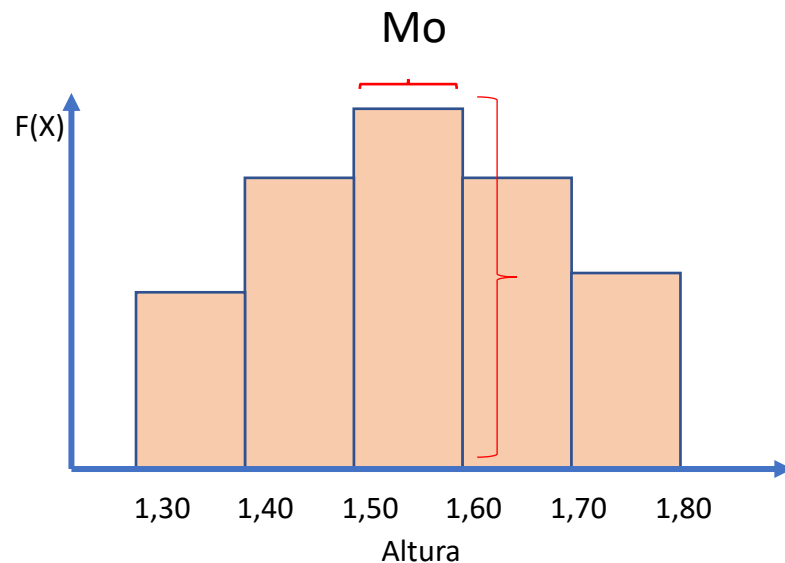
A moda ( $M_o$ ) pode ser usada quando não temos distribuição normal dos dados e/ou quando queremos enfatizar os valores que foram mais frequentes.



# Medidas de tendência central

## Moda

A moda ( $M_o$ ) pode ser usada quando não temos distribuição normal dos dados e/ou quando queremos enfatizar os valores que foram mais frequentes.





Um intervalo  
para um café,  
por favor!





**Voltamos em breve!**









# Medidas de dispersão ou de variabilidade

As medidas de tendência central são insuficientes para representar adequadamente conjuntos de dados, pois nada revelam sobre sua variabilidade.



Ok! A média de altura da minha população é 1.70m, mas qual é a variabilidade de alturas da minha população? Existem pessoas muito pequenas ou muito grandes na minha população?

# Medidas de dispersão ou de variabilidade

As medidas de tendência central são insuficientes para representar adequadamente conjuntos de dados, pois nada revelam sobre sua variabilidade.



Para responder essas perguntas vamos ter que usar outros tipos de medidas! A amplitude de variação, a variância e o desvio-padrão, o coeficiente de variação e por fim os quartis. **Vamos lá!**

# Medidas de dispersão ou de variabilidade

Amplitude de variação (a)

- A medida mais simples de dispersão
- O cálculo é muito simples: o último valor - o primeiro valor.

# Medidas de dispersão ou de variabilidade

Amplitude de variação (a)

- A medida mais simples de dispersão
- O cálculo é muito simples: o último valor - o primeiro valor.

Rol ordenado:

$x = \{1.37, 1.43, 1.46, 1.58, 1.60, 1.66, 1.67, 1.70, 1.74, 1.79, 1.82, 1.84, 1.92, 2.14\}$

# Medidas de dispersão ou de variabilidade

Amplitude de variação (a)

- A medida mais simples de dispersão
- O cálculo é muito simples: o último valor - o primeiro valor.

Rol ordenado:

$x = \{1.37, 1.43, 1.46, 1.58, 1.60, 1.66, 1.67, 1.70, 1.74, 1.79, 1.82, 1.84, 1.92, 2.14\}$

# Medidas de dispersão ou de variabilidade

Amplitude de variação (a)

- A medida mais simples de dispersão
- O cálculo é muito simples: o último valor - o primeiro valor.

Rol ordenado:

$x = \{1.37, 1.43, 1.46, 1.58, 1.60, 1.66, 1.67, 1.70, 1.74, 1.79, 1.82, 1.84, 1.92, 2.14\}$

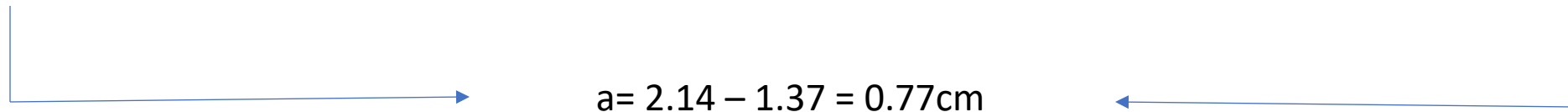
# Medidas de dispersão ou de variabilidade

Amplitude de variação (a)

- A medida mais simples de dispersão
- O cálculo é muito simples: o último valor - o primeiro valor.

Rol ordenado:

$x = \{1.37, 1.43, 1.46, 1.58, 1.60, 1.66, 1.67, 1.70, 1.74, 1.79, 1.82, 1.84, 1.92, 2.14\}$



$a = 2.14 - 1.37 = 0.77\text{cm}$



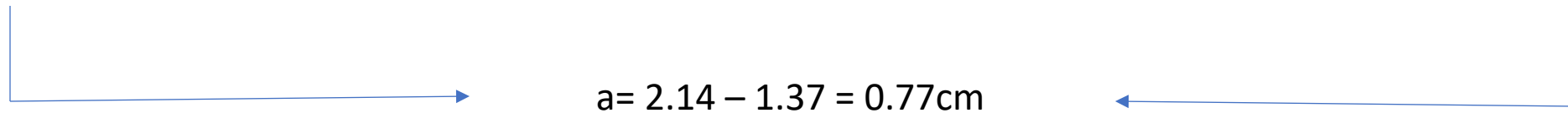
# Medidas de dispersão ou de variabilidade

## Amplitude de variação (a)

- A medida mais simples de dispersão
- O cálculo é muito simples: o último valor - o primeiro valor.

Rol ordenado:

$x = \{1.37, 1.43, 1.46, 1.58, 1.60, 1.66, 1.67, 1.70, 1.74, 1.79, 1.82, 1.84, 1.92, 2.14\}$



Entre o valor inicial e final eu tenho uma variação de 0.77 cm.

# Medidas de dispersão ou de variabilidade

## Variância

- A variância e o desvio padrão visam representar quanto os valores de 'x' se desviam da média.
- A variância é a base do cálculo do desvio-padrão, por isso vamos vê-la primeiro.
- O símbolo da variância populacional é " $\sigma^2$ " e da amostral é " $S^2$ ".
- A variância é a **soma dos quadrados** dividida pelo número de observações do conjunto. A variância é representada por  $S^2$ , sendo calculada pela fórmula:

$$\frac{\sum (x_i - \text{média})^2}{n - 1}$$

# Medidas de dispersão ou de variabilidade

## Variância

- A variância e o desvio padrão visam representar quanto os valores de 'x' se desviam da média.
- A variância é a base do cálculo do desvio-padrão, por isso vamos vê-la primeiro.
- O símbolo da variância populacional é " $\sigma^2$ " e da amostral é " $S^2$ ".
- A variância é a **soma dos quadrados** dividida pelo número de observações do conjunto. A variância é representada por  $S^2$ , sendo calculada pela fórmula:

xi= O valor de x para cada unidade experimental i

$$\frac{\sum (xi - média)^2}{n - 1}$$

# Medidas de dispersão ou de variabilidade

## Variância

- A variância e o desvio padrão visam representar quanto os valores de 'x' se desviam da média.
- A variância é a base do cálculo do desvio-padrão, por isso vamos vê-la primeiro.
- O símbolo da variância populacional é " $\sigma^2$ " e da amostral é " $S^2$ ".
- A variância é a **soma dos quadrados** dividida pelo número de observações do conjunto. A variância é representada por  $S^2$ , sendo calculada pela fórmula:

$x_i$  = O valor de x para cada unidade experimental i

$$\frac{\sum (x_i - \text{média})^2}{n - 1}$$

# Medidas de dispersão ou de variabilidade

## Variância

- A variância e o desvio padrão visam representar quanto os valores de 'x' se desviam da média.
- A variância é a base do cálculo do desvio-padrão, por isso vamos vê-la primeiro.
- O símbolo da variância populacional é " $\sigma^2$ " e da amostral é " $S^2$ ".
- A variância é a **soma dos quadrados** dividida pelo número de observações do conjunto. A variância é representada por  $S^2$ , sendo calculada pela fórmula:

$x_i$  = O valor de x para cada unidade experimental i

$$S^2 = \frac{\sum (x_i - \text{média})^2}{n - 1}$$

!!

MOI!

# Medidas de dispersão ou de variabilidade

## Variância

- A variância e o desvio padrão visam representar quanto os valores de 'x' se desviam da média.
- A variância é a base do cálculo do desvio-padrão, por isso vamos vê-la primeiro.
- O símbolo da variância populacional é " $\sigma^2$ " e da amostral é " $S^2$ ".
- A variância é a **soma dos quadrados** dividida pelo número de observações do conjunto. A variância é representada por  $S^2$ , sendo calculada pela fórmula:

$x_i$  = O valor de x para cada unidade experimental i

$$S^2 = \frac{\sum (x_i - \text{média})^2}{n - 1}$$

Handwritten annotations in red:  $x_i$  is circled;  $(x_i - \text{média})^2$  is circled with an arrow pointing to "!!";  $n - 1$  is circled with an arrow pointing to "GL"; "MQ!" is written to the right.

# Medidas de dispersão ou de variabilidade

## Variância

- A variância e o desvio padrão visam representar quanto os valores de 'x' se desviam da média.
- A variância é a base do cálculo do desvio-padrão, por isso vamos vê-la primeiro.
- O símbolo da variância populacional é " $\sigma^2$ " e da amostral é " $S^2$ ".
- A variância é a **soma dos quadrados** dividida pelo número de observações do conjunto. A variância é representada por  $S^2$ , sendo calculada pela fórmula:

$x_i$  = O valor de x para cada unidade experimental i

$$S^2 = \frac{\sum (x_i - \text{média})^2}{n - 1}$$

Handwritten annotations in red: A double arrow points from the exponent 2 to the word "MQ!" (Mean Quadrado). Another double arrow points from the denominator  $n - 1$  to the letters "GL" (Graus de Liberdade). The term  $n - 1$  is circled in red.

# Medidas de dispersão ou de variabilidade

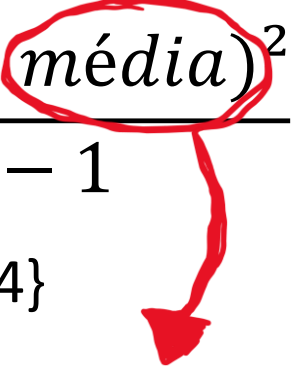
$$s^2 = \frac{\sum (x_i - \text{média})^2}{n - 1}$$

Rol ordenado:

$x = \{1.37, 1.43, 1.46, 1.58, 1.60, 1.66, 1.67, 1.70, 1.74, 1.79, 1.82, 1.84, 1.92, 2.14\}$



# Medidas de dispersão ou de variabilidade

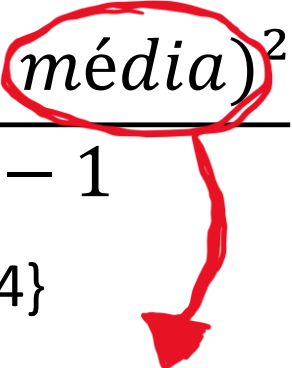
$$s^2 = \frac{\sum (x_i - \text{média})^2}{n - 1}$$


Rol ordenado:

$x = \{1.37, 1.43, 1.46, 1.58, 1.60, 1.66, 1.67, 1.70, 1.74, 1.79, 1.82, 1.84, 1.92, 2.14\}$

1º passo é calcular a média da amostra!


# Medidas de dispersão ou de variabilidade

$$s^2 = \frac{\sum (x_i - \text{média})^2}{n - 1}$$


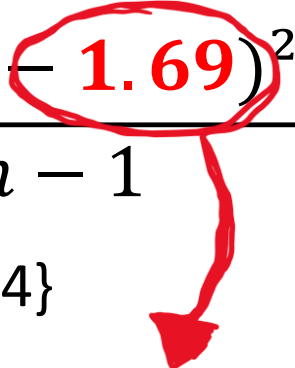
Rol ordenado:

$x = \{1.37, 1.43, 1.46, 1.58, 1.60, 1.66, 1.67, 1.70, 1.74, 1.79, 1.82, 1.84, 1.92, 2.14\}$

1º passo é calcular a média da amostra!


$$\bar{x} = 1.69$$


# Medidas de dispersão ou de variabilidade

$$s^2 = \frac{\sum (x_i - 1.69)^2}{n - 1}$$


Rol ordenado:

$x = \{1.37, 1.43, 1.46, 1.58, 1.60, 1.66, 1.67, 1.70, 1.74, 1.79, 1.82, 1.84, 1.92, 2.14\}$

1º passo é calcular a média da amostra!


$$\bar{x} = 1.69$$

# Medidas de dispersão ou de variabilidade

$$s^2 = \frac{\sum (x_i - 1.69)^2}{n - 1}$$

Rol ordenado:

$x = \{1.37, 1.43, 1.46, 1.58, 1.60, 1.66, 1.67, 1.70, 1.74, 1.79, 1.82, 1.84, 1.92, 2.14\}$

2º já vamos incluir o valor de n-1 na  
Formula também (:

# Medidas de dispersão ou de variabilidade

$$s^2 = \frac{\sum (x_i - 1.69)^2}{n - 1}$$

Rol ordenado:

$x = \{1.37, 1.43, 1.46, 1.58, 1.60, 1.66, 1.67, 1.70, 1.74, 1.79, 1.82, 1.84, 1.92, 2.14\}$

2º já vamos incluir o valor de n-1 na  
Formula também (:

$$n - 1 = 14 - 1 = 13$$

# Medidas de dispersão ou de variabilidade

$$s^2 = \frac{\sum (x_i - 1.69)^2}{13}$$

Rol ordenado:

$x = \{1.37, 1.43, 1.46, 1.58, 1.60, 1.66, 1.67, 1.70, 1.74, 1.79, 1.82, 1.84, 1.92, 2.14\}$

2º já vamos incluir o valor de n-1 na  
Formula também (:

$$n - 1 = 14 - 1 = 13$$

# Medidas de dispersão ou de variabilidade

$$s^2 = \frac{\sum (x_i - 1.69)^2}{13}$$

Rol ordenado:

$x = \{1.37, 1.43, 1.46, 1.58, 1.60, 1.66, 1.67, 1.70, 1.74, 1.79, 1.82, 1.84, 1.92, 2.14\}$

# Medidas de dispersão ou de variabilidade

$$s^2 = \frac{\sum (x_i - 1.69)^2}{13}$$

Rol ordenado:

$x = \{1.37, 1.43, 1.46, 1.58, 1.60, 1.66, 1.67, 1.70, 1.74, 1.79, 1.82, 1.84, 1.92, 2.14\}$

Medidas de altura (x)	$x_i - \text{média}$	$(x_i - \text{média})^2$



# Medidas de dispersão ou de variabilidade

$$s^2 = \frac{\sum (x_i - 1.69)^2}{13}$$

Rol ordenado:

$x = \{1.37, 1.43, 1.46, 1.58, 1.60, 1.66, 1.67, 1.70, 1.74, 1.79, 1.82, 1.84, 1.92, 2.14\}$




Medidas de altura (x)	$x_i - \text{média}$	$(x_i - \text{média})^2$

# Medidas de dispersão ou de variabilidade

$$s^2 = \frac{\sum (x_i - 1.69)^2}{13}$$

Rol ordenado:

$x = \{1.37, 1.43, 1.46, 1.58, 1.60, 1.66, 1.67, 1.70, 1.74, 1.79, 1.82, 1.84, 1.92, 2.14\}$



Medidas de altura (x)	$x_i - \text{média}$	$(x_i - \text{média})^2$
1.37		
1.43		
1.46		
1.58		
1.60		
1.66		
1.67		
1.70		
1.74		
1.79		
1.82		
1.84		
1.92		
2.14		

# Medidas de dispersão ou de variabilidade

Medidas de altura (x)	$x_i - \text{média}$	$(x_i - \text{média})^2$
1.37		
1.43		
1.46		
1.58		
1.60		
1.66		
1.67		
1.70		
1.74		
1.79		
1.82		
1.84		
1.92		
2.14		
$\Sigma =$		

$$s^2 = \frac{\sum (x_i - 1.69)^2}{13}$$

# Medidas de dispersão ou de variabilidade

Medidas de altura (x)	(xi - média)	(xi - média) <sup>2</sup>
1.37		
1.43		
1.46		
1.58		
1.60		
1.66		
1.67		
1.70		
1.74		
1.79		
1.82		
1.84		
1.92		
2.14		
$\Sigma =$		

$$s^2 = \frac{\sum (xi - 1.69)^2}{13}$$

# Medidas de dispersão ou de variabilidade

Medidas de altura (x)	(xi - média)	(xi - média) <sup>2</sup>
1.37	(1.37-1.69)=	
1.43		
1.46		
1.58		
1.60		
1.66		
1.67		
1.70		
1.74		
1.79		
1.82		
1.84		
1.92		
2.14		
Σ=		

$$S^2 = \frac{\sum (xi - 1.69)^2}{13}$$

# Medidas de dispersão ou de variabilidade

Medidas de altura (x)	$(x_i - \text{média})$	$(x_i - \text{média})^2$
1.37	$(1.37-1.69)=$	
1.43	$(1.43-1.69)=$	
1.46	$(1.46-1.69)=$	
1.58	$(1.58-1.69)=$	
1.60	$(1.60-1.69)=$	
1.66	$(1.66-1.69)=$	
1.67	$(1.67-1.69)=$	
1.70	$(1.70-1.69)=$	
1.74	$(1.74-1.69)=$	
1.79	$(1.79-1.69)=$	
1.82	$(1.82-1.69)=$	
1.84	$(1.84-1.69)=$	
1.92	$(1.92-1.69)=$	
2.14	$(2.14-1.69)=$	
$\Sigma=$		

$$s^2 = \frac{\sum (x_i - 1.69)^2}{13}$$

# Medidas de dispersão ou de variabilidade

Medidas de altura (x)	$(x_i - \text{média})$	$(x_i - \text{média})^2$
1.37	$(1.37-1.69) = -0.32$	
1.43	$(1.43-1.69) = -0.26$	
1.46	$(1.46-1.69) = -0.23$	
1.58	$(1.58-1.69) = -0.11$	
1.60	$(1.60-1.69) = -0.09$	
1.66	$(1.66-1.69) = -0.03$	
1.67	$(1.67-1.69) = -0.02$	
1.70	$(1.70-1.69) = 0.01$	
1.74	$(1.74-1.69) = 0.05$	
1.79	$(1.79-1.69) = 0.10$	
1.82	$(1.82-1.69) = 0.13$	
1.84	$(1.84-1.69) = 0.15$	
1.92	$(1.92-1.69) = 0.23$	
2.14	$(2.14-1.69) = 0.45$	
$\Sigma =$		

$$s^2 = \frac{\sum (x_i - 1.69)^2}{13}$$

# Medidas de dispersão ou de variabilidade

Medidas de altura (x)	(xi - média)	(xi - média) <sup>2</sup>
1.37	(1.37-1.69)= - 0.32	
1.43	(1.43-1.69)= -0.26	
1.46	(1.46-1.69)= -0.23	
1.58	(1.58-1.69)= -0.11	
1.60	(1.60-1.69)= -0.09	
1.66	(1.66-1.69)= -0.03	
1.67	(1.67-1.69)= -0.02	
1.70	(1.70-1.69)= 0.01	
1.74	(1.74-1.69)= 0.05	
1.79	(1.79-1.69)= 0.10	
1.82	(1.82-1.69)= 0.13	
1.84	(1.84-1.69)= 0.15	
1.92	(1.92-1.69)= 0.23	
2.14	(2.14-1.69)= 0.45	
$\Sigma$ =		

$$S^2 = \frac{\sum (xi - 1.69)^2}{13}$$



# Medidas de dispersão ou de variabilidade

Medidas de altura (x)	(xi – média)	(xi – média) <sup>2</sup>
1.37	(1.37-1.69)= - 0.32	(-0.32) <sup>2</sup> =
1.43	(1.43-1.69)= -0.26	(-0.26) <sup>2</sup> =
1.46	(1.46-1.69)= -0.23	(-0.23) <sup>2</sup> =
1.58	(1.58-1.69)= -0.11	(-0.11) <sup>2</sup> =
1.60	(1.60-1.69)= -0.09	(-0.09) <sup>2</sup> =
1.66	(1.66-1.69)= -0.03	(-0.03) <sup>2</sup> =
1.67	(1.67-1.69)= -0.02	(-0.02) <sup>2</sup> =
1.70	(1.70-1.69)= 0.01	(0.01) <sup>2</sup> =
1.74	(1.74-1.69)= 0.05	(0.05) <sup>2</sup> =
1.79	(1.79-1.69)= 0.10	(0.10) <sup>2</sup> =
1.82	(1.82-1.69)= 0.13	(0.13) <sup>2</sup> =
1.84	(1.84-1.69)= 0.15	(0.15) <sup>2</sup> =
1.92	(1.92-1.69)= 0.23	(0.23) <sup>2</sup> =
2.14	(2.14-1.69)= 0.45	(0.45) <sup>2</sup> =
Σ=		

$$S^2 = \frac{\sum (xi - 1.69)^2}{13}$$

# Medidas de dispersão ou de variabilidade

Medidas de altura (x)	(xi – média)	(xi – média) <sup>2</sup>
1.37	(1.37-1.69)= - 0.32	(-0.32) <sup>2</sup> = 0.10
1.43	(1.43-1.69)= -0.26	(-0.26) <sup>2</sup> = 0.07
1.46	(1.46-1.69)= -0.23	(-0.23) <sup>2</sup> = 0.05
1.58	(1.58-1.69)= -0.11	(-0.11) <sup>2</sup> = 0.01
1.60	(1.60-1.69)= -0.09	(-0.09) <sup>2</sup> = 0.01
1.66	(1.66-1.69)= -0.03	(-0.03) <sup>2</sup> = 0.00
1.67	(1.67-1.69)= -0.02	(-0.02) <sup>2</sup> = 0.00
1.70	(1.70-1.69)= 0.01	(0.01) <sup>2</sup> = 0.00
1.74	(1.74-1.69)= 0.05	(0.05) <sup>2</sup> = 0.00
1.79	(1.79-1.69)= 0.10	(0.10) <sup>2</sup> = 0.01
1.82	(1.82-1.69)= 0.13	(0.13) <sup>2</sup> = 0.02
1.84	(1.84-1.69)= 0.15	(0.15) <sup>2</sup> = 0.02
1.92	(1.92-1.69)= 0.23	(0.23) <sup>2</sup> = 0.05
2.14	(2.14-1.69)= 0.45	(0.45) <sup>2</sup> = 0.20
Σ=		

$$S^2 = \frac{\sum (xi - 1.69)^2}{13}$$

# Medidas de dispersão ou de variabilidade

Medidas de altura (x)	(xi - média)	(xi - média) <sup>2</sup>
1.37	(1.37-1.69)= - 0.32	(-0.32) <sup>2</sup> = 0.10
1.43	(1.43-1.69)= -0.26	(-0.26) <sup>2</sup> = 0.07
1.46	(1.46-1.69)= -0.23	(-0.23) <sup>2</sup> = 0.05
1.58	(1.58-1.69)= -0.11	(-0.11) <sup>2</sup> = 0.01
1.60	(1.60-1.69)= -0.09	(-0.09) <sup>2</sup> = 0.01
1.66	(1.66-1.69)= -0.03	(-0.03) <sup>2</sup> = 0.00
1.67	(1.67-1.69)= -0.02	(-0.02) <sup>2</sup> = 0.00
1.70	(1.70-1.69)= 0.01	(0.01) <sup>2</sup> = 0.00
1.74	(1.74-1.69)= 0.05	(0.05) <sup>2</sup> = 0.00
1.79	(1.79-1.69)= 0.10	(0.10) <sup>2</sup> = 0.01
1.82	(1.82-1.69)= 0.13	(0.13) <sup>2</sup> = 0.02
1.84	(1.84-1.69)= 0.15	(0.15) <sup>2</sup> = 0.02
1.92	(1.92-1.69)= 0.23	(0.23) <sup>2</sup> = 0.05
2.14	(2.14-1.69)= 0.45	(0.45) <sup>2</sup> = 0.20
$\Sigma =$		

$$S^2 = \frac{\sum (xi - 1.69)^2}{13}$$

# Medidas de dispersão ou de variabilidade

Medidas de altura (x)	(xi - média)	(xi - média) <sup>2</sup>
1.37	(1.37-1.69)= - 0.32	(-0.32) <sup>2</sup> = 0.10
1.43	(1.43-1.69)= -0.26	(-0.26) <sup>2</sup> = 0.07
1.46	(1.46-1.69)= -0.23	(-0.23) <sup>2</sup> = 0.05
1.58	(1.58-1.69)= -0.11	(-0.11) <sup>2</sup> = 0.01
1.60	(1.60-1.69)= -0.09	(-0.09) <sup>2</sup> = 0.01
1.66	(1.66-1.69)= -0.03	(-0.03) <sup>2</sup> = 0.00
1.67	(1.67-1.69)= -0.02	(-0.02) <sup>2</sup> = 0.00
1.70	(1.70-1.69)= 0.01	(0.01) <sup>2</sup> = 0.00
1.74	(1.74-1.69)= 0.05	(0.05) <sup>2</sup> = 0.00
1.79	(1.79-1.69)= 0.10	(0.10) <sup>2</sup> = 0.01
1.82	(1.82-1.69)= 0.13	(0.13) <sup>2</sup> = 0.02
1.84	(1.84-1.69)= 0.15	(0.15) <sup>2</sup> = 0.02
1.92	(1.92-1.69)= 0.23	(0.23) <sup>2</sup> = 0.05
2.14	(2.14-1.69)= 0.45	(0.45) <sup>2</sup> = 0.20
$\Sigma =$		

$$S^2 = \frac{\sum (xi - 1.69)^2}{13}$$

# Medidas de dispersão ou de variabilidade

Medidas de altura (x)	(xi - média)	(xi - média) <sup>2</sup>
1.37	(1.37-1.69)= - 0.32	(-0.32) <sup>2</sup> = 0.10
1.43	(1.43-1.69)= -0.26	(-0.26) <sup>2</sup> = 0.07
1.46	(1.46-1.69)= -0.23	(-0.23) <sup>2</sup> = 0.05
1.58	(1.58-1.69)= -0.11	(-0.11) <sup>2</sup> = 0.01
1.60	(1.60-1.69)= -0.09	(-0.09) <sup>2</sup> = 0.01
1.66	(1.66-1.69)= -0.03	(-0.03) <sup>2</sup> = 0.00
1.67	(1.67-1.69)= -0.02	(-0.02) <sup>2</sup> = 0.00
1.70	(1.70-1.69)= 0.01	(0.01) <sup>2</sup> = 0.00
1.74	(1.74-1.69)= 0.05	(0.05) <sup>2</sup> = 0.00
1.79	(1.79-1.69)= 0.10	(0.10) <sup>2</sup> = 0.01
1.82	(1.82-1.69)= 0.13	(0.13) <sup>2</sup> = 0.02
1.84	(1.84-1.69)= 0.15	(0.15) <sup>2</sup> = 0.02
1.92	(1.92-1.69)= 0.23	(0.23) <sup>2</sup> = 0.05
2.14	(2.14-1.69)= 0.45	(0.45) <sup>2</sup> = 0.20
$\Sigma$ =		0.54

$$S^2 = \frac{\sum (xi - 1.69)^2}{13}$$

# Medidas de dispersão ou de variabilidade

Medidas de altura (x)	(xi - média)	(xi - média) <sup>2</sup>
1.37	(1.37-1.69)= - 0.32	(-0.32) <sup>2</sup> = 0.10
1.43	(1.43-1.69)= -0.26	(-0.26) <sup>2</sup> = 0.07
1.46	(1.46-1.69)= -0.23	(-0.23) <sup>2</sup> = 0.05
1.58	(1.58-1.69)= -0.11	(-0.11) <sup>2</sup> = 0.01
1.60	(1.60-1.69)= -0.09	(-0.09) <sup>2</sup> = 0.01
1.66	(1.66-1.69)= -0.03	(-0.03) <sup>2</sup> = 0.00
1.67	(1.67-1.69)= -0.02	(-0.02) <sup>2</sup> = 0.00
1.70	(1.70-1.69)= 0.01	(0.01) <sup>2</sup> = 0.00
1.74	(1.74-1.69)= 0.05	(0.05) <sup>2</sup> = 0.00
1.79	(1.79-1.69)= 0.10	(0.10) <sup>2</sup> = 0.01
1.82	(1.82-1.69)= 0.13	(0.13) <sup>2</sup> = 0.02
1.84	(1.84-1.69)= 0.15	(0.15) <sup>2</sup> = 0.02
1.92	(1.92-1.69)= 0.23	(0.23) <sup>2</sup> = 0.05
2.14	(2.14-1.69)= 0.45	(0.45) <sup>2</sup> = 0.20
Σ=		0.54

$$S^2 = \frac{\sum (xi - 1.69)^2}{13}$$

# Medidas de dispersão ou de variabilidade

Medidas de altura (x)	(xi - média)	(xi - média) <sup>2</sup>
1.37	(1.37-1.69)= - 0.32	(-0.32) <sup>2</sup> = 0.10
1.43	(1.43-1.69)= -0.26	(-0.26) <sup>2</sup> = 0.07
1.46	(1.46-1.69)= -0.23	(-0.23) <sup>2</sup> = 0.05
1.58	(1.58-1.69)= -0.11	(-0.11) <sup>2</sup> = 0.01
1.60	(1.60-1.69)= -0.09	(-0.09) <sup>2</sup> = 0.01
1.66	(1.66-1.69)= -0.03	(-0.03) <sup>2</sup> = 0.00
1.67	(1.67-1.69)= -0.02	(-0.02) <sup>2</sup> = 0.00
1.70	(1.70-1.69)= 0.01	(0.01) <sup>2</sup> = 0.00
1.74	(1.74-1.69)= 0.05	(0.05) <sup>2</sup> = 0.00
1.79	(1.79-1.69)= 0.10	(0.10) <sup>2</sup> = 0.01
1.82	(1.82-1.69)= 0.13	(0.13) <sup>2</sup> = 0.02
1.84	(1.84-1.69)= 0.15	(0.15) <sup>2</sup> = 0.02
1.92	(1.92-1.69)= 0.23	(0.23) <sup>2</sup> = 0.05
2.14	(2.14-1.69)= 0.45	(0.45) <sup>2</sup> = 0.20
Σ=		0.54

$$S^2 = \frac{\sum (xi - 1.69)^2}{13}$$

$$S^2 = \frac{0.54}{13} = 0.04$$

# Medidas de dispersão ou de variabilidade

Medidas de altura (x)	(xi - média)	(xi - média) <sup>2</sup>
1.37	(1.37-1.69)= - 0.32	(-0.32) <sup>2</sup> = 0.10
1.43	(1.43-1.69)= -0.26	(-0.26) <sup>2</sup> = 0.07
1.46	(1.46-1.69)= -0.23	(-0.23) <sup>2</sup> = 0.05
1.58	(1.58-1.69)= -0.11	(-0.11) <sup>2</sup> = 0.01
1.60	(1.60-1.69)= -0.09	(-0.09) <sup>2</sup> = 0.01
1.66	(1.66-1.69)= -0.03	(-0.03) <sup>2</sup> = 0.00
1.67	(1.67-1.69)= -0.02	(-0.02) <sup>2</sup> = 0.00
1.70	(1.70-1.69)= 0.01	(0.01) <sup>2</sup> = 0.00
1.74	(1.74-1.69)= 0.05	(0.05) <sup>2</sup> = 0.00
1.79	(1.79-1.69)= 0.10	(0.10) <sup>2</sup> = 0.01
1.82	(1.82-1.69)= 0.13	(0.13) <sup>2</sup> = 0.02
1.84	(1.84-1.69)= 0.15	(0.15) <sup>2</sup> = 0.02
1.92	(1.92-1.69)= 0.23	(0.23) <sup>2</sup> = 0.05
2.14	(2.14-1.69)= 0.45	(0.45) <sup>2</sup> = 0.20
Σ=		0.54

$$S^2 = \frac{\sum (xi - 1.69)^2}{13}$$

$$S^2 = \frac{0.54}{13} = 0.04$$

Quanto maior a variância de uma série, maior a dispersão dos valores que a compõe. Assim, se uma amostra tem variância igual a 0.04 e outra, da mesma variável, igual a 0.10, nesta segundo os dados variam mais em relação a média que a primeira.



# Medidas de dispersão ou de variabilidade

Medidas de altura (x)	(xi - média)	(xi - média) <sup>2</sup>
1.37	(1.37-1.69)= - 0.32	(-0.32) <sup>2</sup> = 0.10
1.43	(1.43-1.69)= -0.26	(-0.26) <sup>2</sup> = 0.07
1.46	(1.46-1.69)= -0.23	(-0.23) <sup>2</sup> = 0.05
1.58	(1.58-1.69)= -0.11	(-0.11) <sup>2</sup> = 0.01
1.60	(1.60-1.69)= -0.09	(-0.09) <sup>2</sup> = 0.01
1.66	(1.66-1.69)= -0.03	(-0.03) <sup>2</sup> = 0.00
1.67	(1.67-1.69)= -0.02	(-0.02) <sup>2</sup> = 0.00
1.70	(1.70-1.69)= 0.01	(0.01) <sup>2</sup> = 0.00
1.74	(1.74-1.69)= 0.05	(0.05) <sup>2</sup> = 0.00
1.79	(1.79-1.69)= 0.10	(0.10) <sup>2</sup> = 0.01
1.82	(1.82-1.69)= 0.13	(0.13) <sup>2</sup> = 0.02
1.84	(1.84-1.69)= 0.15	(0.15) <sup>2</sup> = 0.02
1.92	(1.92-1.69)= 0.23	(0.23) <sup>2</sup> = 0.05
2.14	(2.14-1.69)= 0.45	(0.45) <sup>2</sup> = 0.20
Σ=		0.54

$$S^2 = \frac{\sum (xi - 1.69)^2}{13}$$

$$S^2 = \frac{0.54}{13} = 0.04$$

Quando não houver variabilidade, a variância é igual a zero.

Quanto maior a variância de uma série, maior a dispersão dos valores que a compõe. Assim, se uma amostra tem variância igual a 0.04 e outra, da mesma variável, igual a 0.10, nesta segundo os dados variam mais em relação a média que a primeira.

# Medidas de dispersão ou de variabilidade

## Desvio-padrão

- Uma dificuldade com a variância, como medida de dispersão, é o fato de não poder ser apresentada com a mesma unidade com que a variável foi medida.

$$s^2 = \frac{0.54}{13} = 0.04$$

# Medidas de dispersão ou de variabilidade

## Desvio-padrão

- Uma dificuldade com a variância, como medida de dispersão, é o fato de não poder ser apresentada com a mesma unidade com que a variável foi medida.

$$s^2 = \frac{0.54}{13} = 0.04$$

# Medidas de dispersão ou de variabilidade

## Desvio-padrão

- Uma dificuldade com a variância, como medida de dispersão, é o fato de não poder ser apresentada com a mesma unidade com que a variável foi medida.

$$s^2 = \frac{0.54}{13} = 0.04$$

- A solução é extrair a raiz quadrada positiva da variância, já que, com isso, se volta à unidade original da variável. Essa medida é chamada de Desvio-Padrão (S).

# Medidas de dispersão ou de variabilidade

## Desvio-padrão

- Uma dificuldade com a variância, como medida de dispersão, é o fato de não poder ser apresentada com a mesma unidade com que a variável foi medida.

$$S^2 = \frac{0.54}{13} = 0.04$$

- A solução é extrair a raiz quadrada positiva da variância, já que, com isso, se volta à unidade original da variável. Essa medida é chamada de Desvio-Padrão (S).

$$s = \sqrt{S^2}$$

# Medidas de dispersão ou de variabilidade

## Desvio-padrão

- Uma dificuldade com a variância, como medida de dispersão, é o fato de não poder ser apresentada com a mesma unidade com que a variável foi medida.

$$s^2 = \frac{0.54}{13} = 0.04$$

- A solução é extrair a raiz quadrada positiva da variância, já que, com isso, se volta à unidade original da variável. Essa medida é chamada de Desvio-Padrão (S).

$$s = \sqrt{s^2} = \sqrt{0.04}$$

# Medidas de dispersão ou de variabilidade

## Desvio-padrão

- Uma dificuldade com a variância, como medida de dispersão, é o fato de não poder ser apresentada com a mesma unidade com que a variável foi medida.

$$s^2 = \frac{0.54}{13} = 0.04$$

- A solução é extrair a raiz quadrada positiva da variância, já que, com isso, se volta à unidade original da variável. Essa medida é chamada de Desvio-Padrão (S).

$$s = \sqrt{s^2} = \sqrt{0.04} = 0.21$$

# Medidas de dispersão ou de variabilidade

## Desvio-padrão

- Uma dificuldade com a variância, como medida de dispersão, é o fato de não poder ser apresentada com a mesma unidade com que a variável foi medida.

$$s^2 = \frac{0.54}{13} = 0.04$$

Resultado:

Os valores se desviam da média de tamanho (1.69m) em  $\pm 0.21m$ .

- A solução é extrair a raiz quadrada positiva da variância, já que, com isso, se volta à unidade original da variável. Essa medida é chamada de Desvio-Padrão (S).

$$s = \sqrt{s^2} = \sqrt{0.04} = 0.21$$



# Medidas de dispersão ou de variabilidade

## Desvio-padrão

- Uma dificuldade com a variância, como medida de dispersão, é o fato de não poder ser apresentada com a mesma unidade com que a variável foi medida.

Quanto maior o desvio-padrão de uma série, maior a dispersão dos valores que a compõe. Assim, se uma amostra tem desvio de dados igual a 0.21 e outra, da mesma variável, igual a 0.40, nesta segundo os dados se desviam mais em relação a média que a primeira.

### Resultado:

Os valores se desviam da média de tamanho (1.69m) em  $\pm 0.21m$ .

- A solução para essa dificuldade é voltar para a unidade original da variável, já que, com isso, se volta à unidade original da variável. Essa medida é chamada

Quando não houver variabilidade, a variância é igual a zero.

$$s = \sqrt{S^2} = \sqrt{0.04} = 0.21$$

# Medidas de dispersão ou de variabilidade

## Coeficiente de variação

- E quando temos duas variáveis com medidas diferentes? Por exemplo, queremos saber o que varia mais, peso (kg) ou altura (m)?

Rol ordenado:

Peso (kg)={40, 42, 45, 46, 50, 53, 55, 56, 58, 59, 60, 61, 63, 65}

Altura (m)={1.37, 1.43, 1.46, 1.58, 1.60, 1.66, 1.67, 1.70, 1.74, 1.79, 1.82, 1.84, 1.92, 2.14}

- Neste caso, é possível utilizar o coeficiente de variação percentual (CV%), que é uma medida de dispersão independente da unidade de mensuração da variável.

$$CV\% = \frac{S}{\bar{x}} * 100, \quad \begin{array}{l} S = \text{variância} \\ \bar{x} = \text{média} \end{array}$$

# Medidas de dispersão ou de variabilidade

Rol ordenado:

Altura (m)={1.37, 1.43, 1.46, 1.58, 1.60, 1.66, 1.67, 1.70, 1.74, 1.79, 1.82, 1.84, 1.92, 2.14}

Peso (kg)={49, 49, 50, 51, 50, 53, 55, 56, 56, 57, 58, 60, 60, 61}

# Medidas de dispersão ou de variabilidade

Rol ordenado:

Altura (m)={1.37, 1.43, 1.46, 1.58, 1.60, 1.66, 1.67, 1.70, 1.74, 1.79, 1.82, 1.84, 1.92, 2.14}

Peso (kg)={49, 49, 50, 51, 50, 53, 55, 56, 56, 57, 58, 60, 60, 61}

*Altura*

$$CV\% = \frac{S}{\bar{x}} * 100$$

*Peso*

$$CV\% = \frac{S}{\bar{x}} * 100$$

# Medidas de dispersão ou de variabilidade

Rol ordenado:

Altura (m)={1.37, 1.43, 1.46, 1.58, 1.60, 1.66, 1.67, 1.70, 1.74, 1.79, 1.82, 1.84, 1.92, 2.14}

Peso (kg)={49, 49, 50, 51, 50, 53, 55, 56, 56, 57, 58, 60, 60, 61}

*Altura*

$$CV\% = \frac{S}{\bar{x}} * 100$$



*Altura*

$$CV\% = \frac{0.04}{1.69} * 100 = 12.16\%$$

*Peso*

$$CV\% = \frac{S}{\bar{x}} * 100$$

# Medidas de dispersão ou de variabilidade

Rol ordenado:

Altura (m)={1.37, 1.43, 1.46, 1.58, 1.60, 1.66, 1.67, 1.70, 1.74, 1.79, 1.82, 1.84, 1.92, 2.14}

Peso (kg)={49, 49, 50, 51, 50, 53, 55, 56, 56, 57, 58, 60, 60, 61}

*Altura*

$$CV\% = \frac{S}{\bar{x}} * 100$$



*Altura*

$$CV\% = \frac{0.04}{1.69} * 100 = 12.16\%$$

*Peso*

$$CV\% = \frac{S}{\bar{x}} * 100$$



*Peso*

$$CV\% = \frac{18.55}{54.64} * 100 = 33.96\%$$

# Medidas de dispersão ou de variabilidade

Rol ordenado:

Altura (m)={1.37, 1.43, 1.46, 1.58, 1.60, 1.66, 1.67, 1.70, 1.74, 1.79, 1.82, 1.84, 1.92, 2.14}

Peso (kg)={49, 49, 50, 51, 50, 53, 55, 56, 56, 57, 58, 60, 60, 61}

*Altura*

$$CV\% = \frac{S}{\bar{x}} * 100$$



*Altura*

$$CV\% = \frac{0.04}{1.69} * 100 = 12.16\%$$

*Peso*

$$CV\% = \frac{S}{\bar{x}} * 100$$



*Peso*

$$CV\% = \frac{18.55}{54.64} * 100 = 33.96\%$$

Pode-se, agora, verificar que o Peso (kg) é uma característica mais variável que a Altura (m).

# Medidas de dispersão ou de variabilidade

## Quartis

- Quando dividimos a nossa série de dados para uma variável 'x' em quatro grupos, cada um contendo 25% dos dados.

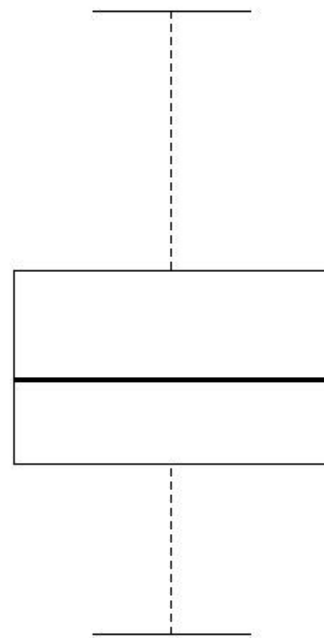


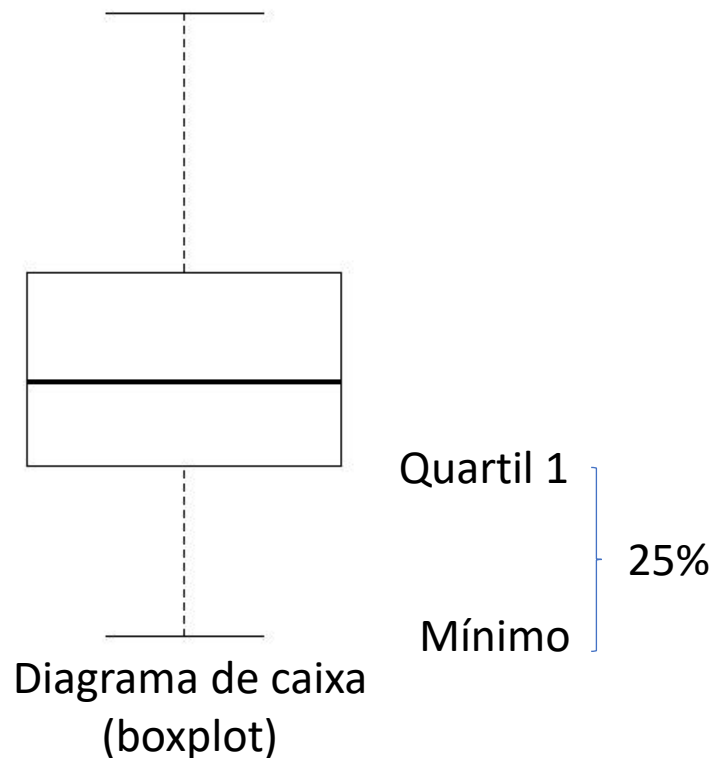
Diagrama de caixa  
(boxplot)



# Medidas de dispersão ou de variabilidade

## Quartis

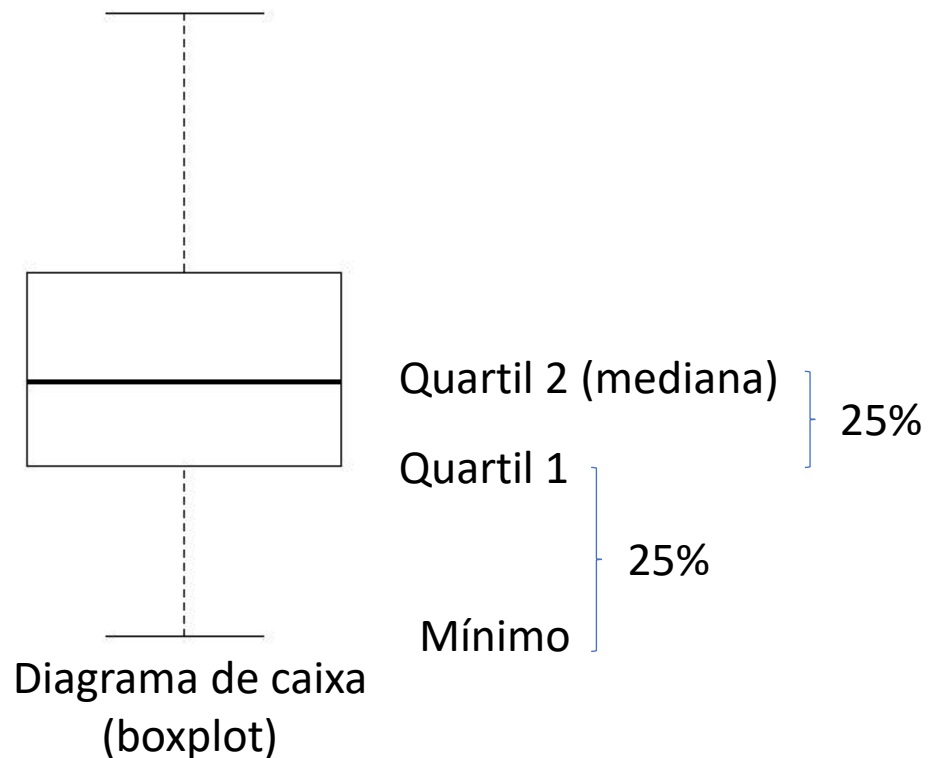
- Quando dividimos a nossa série de dados para uma variável 'x' em quatro grupos, cada um contendo 25% dos dados.



# Medidas de dispersão ou de variabilidade

## Quartis

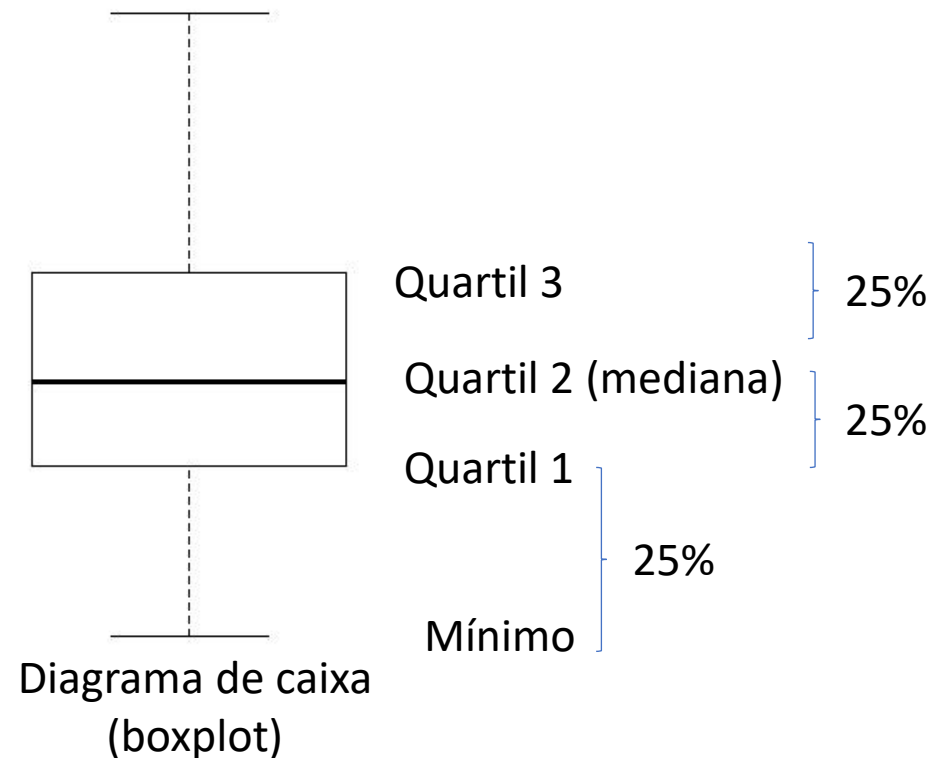
- Quando dividimos a nossa série de dados para uma variável 'x' em quatro grupos, cada um contendo 25% dos dados.



# Medidas de dispersão ou de variabilidade

## Quartis

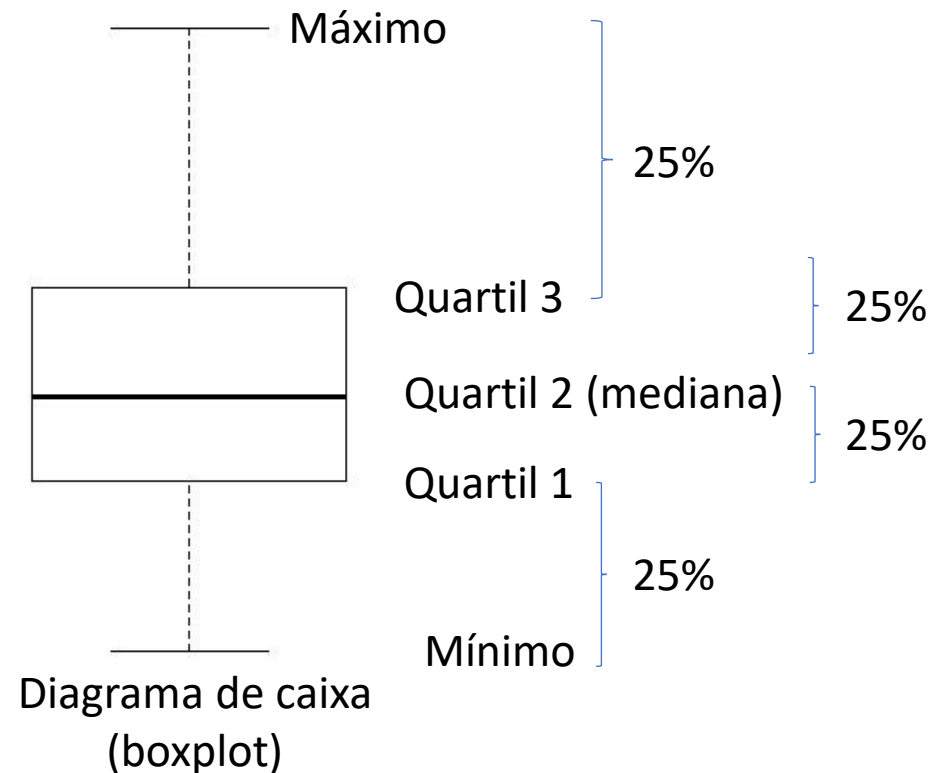
- Quando dividimos a nossa série de dados para uma variável 'x' em quatro grupos, cada um contendo 25% dos dados.



# Medidas de dispersão ou de variabilidade

## Quartis

- Quando dividimos a nossa série de dados para uma variável 'x' em quatro grupos, cada um contendo 25% dos dados.



# Medidas de dispersão ou de variabilidade

## Quartis

- Quando dividimos a nossa série de dados para uma variável 'x' em quatro grupos, cada um contendo 25% dos dados.

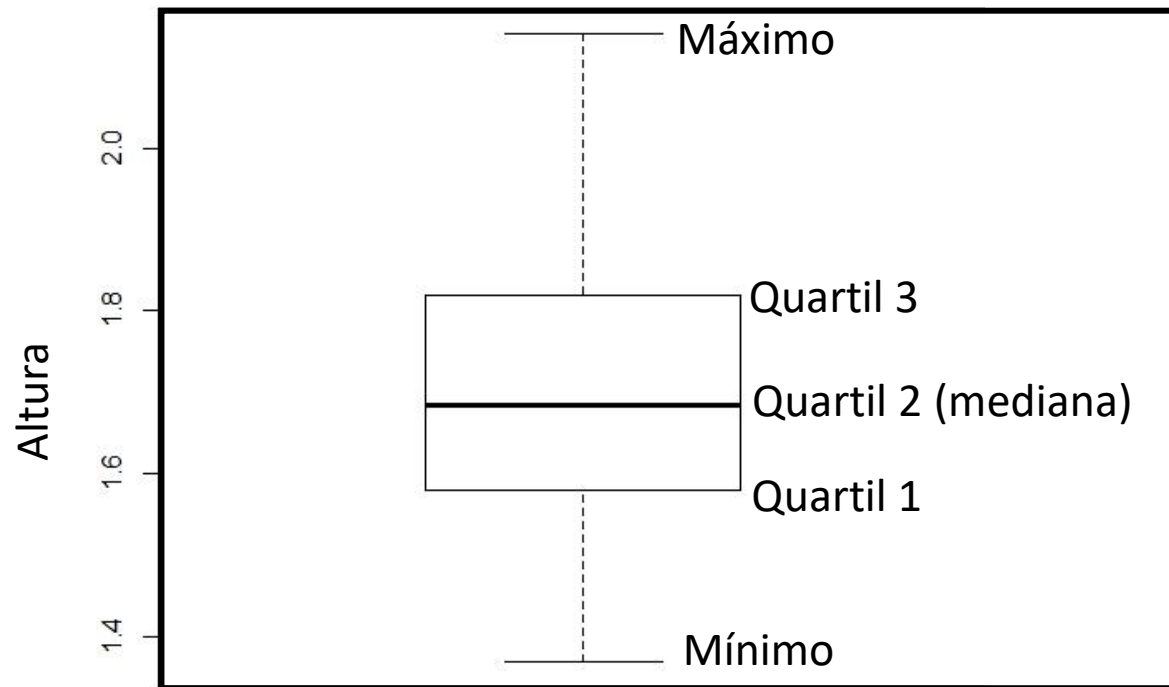
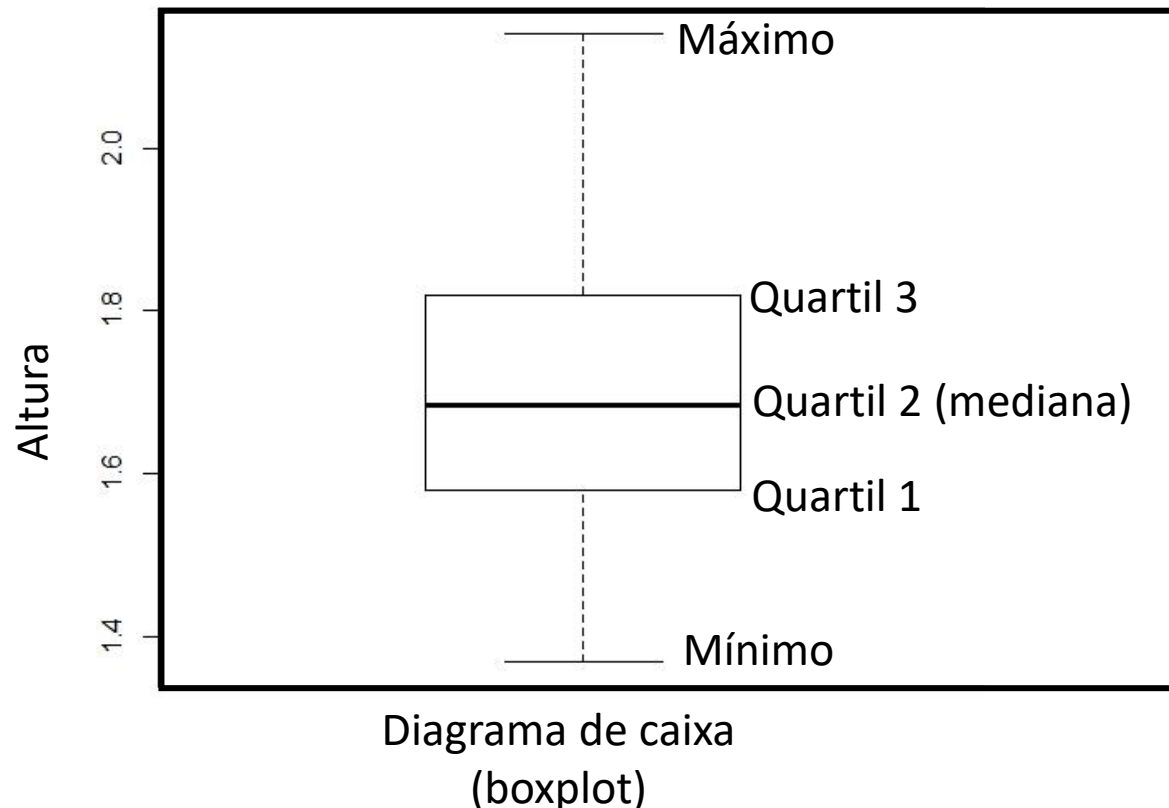


Diagrama de caixa  
(boxplot)

# Medidas de dispersão ou de variabilidade

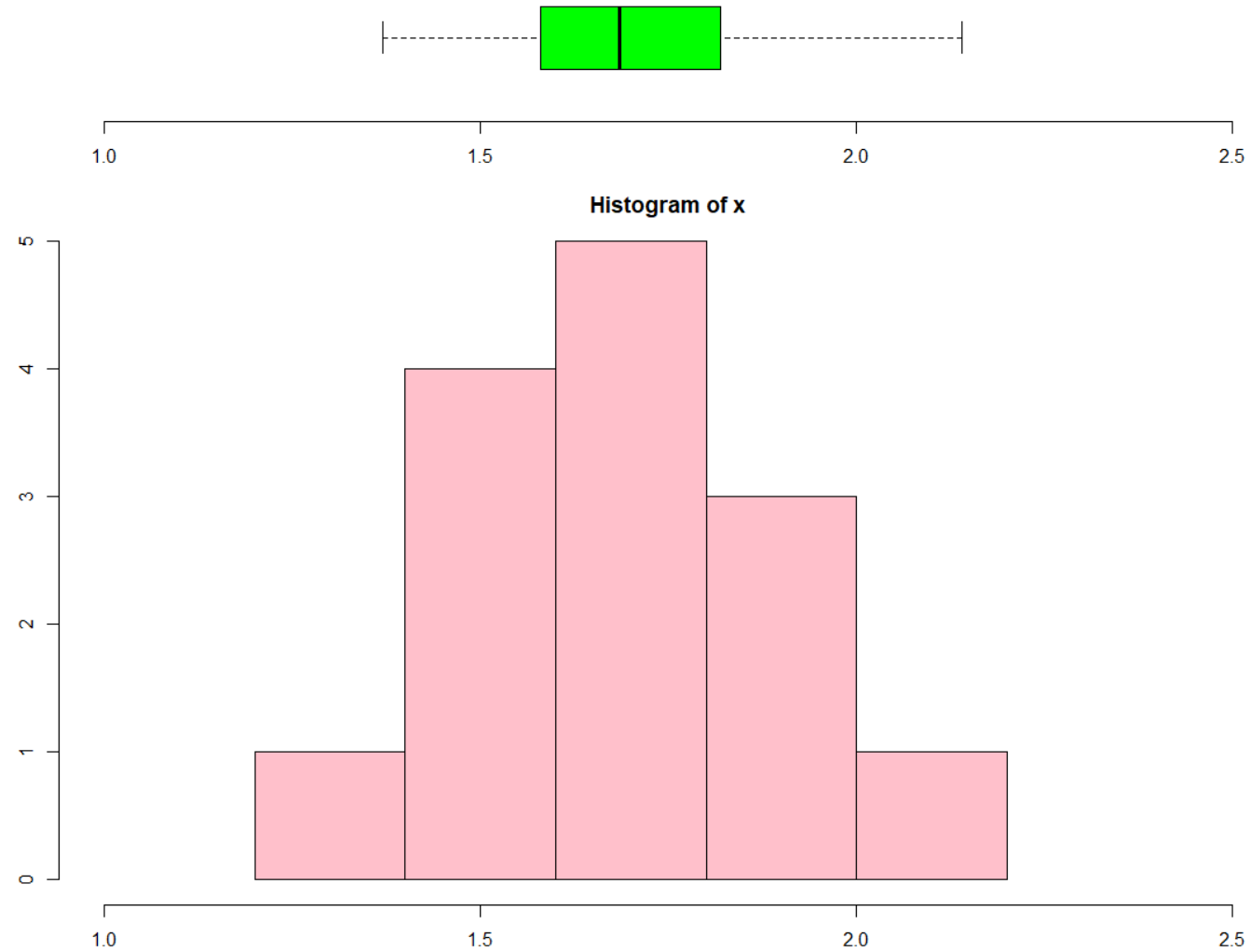
## Quartis

- Quando dividimos a nossa série de dados para uma variável 'x' em quatro grupos, cada um contendo 25% dos dados.



Quando se descreve um conjunto de dados de distribuição assimétrica, a distância entre quartis representa melhor a variação do que a amplitude ou o desvio padrão, porque não é afetada pelos valores extremos.

# Medidas de dispersão ou de variabilidade



# Atividade

- Você foi incumbido de caracterizar os cientistas de dados que estão participando do Grupo de Estudos em Ciência de Dados (GECD) de Foz do Iguaçu.
- Para tal, selecione dois tipos de variáveis quantitativas discretas, duas contínuas, duas qualitativas nominais e duas ordinais para a descrição.
- Selecione aleatoriamente 15 colegas de turma para participar de seu estudo.
- Você precisará tabelar os dados e depois descrever cada um deles. Você poderá usar tabelas com análises estatísticas descritivas e gráficos para tal.

